

## Контрольная работа по теме «Антарктида», I вариант

1. В честь какого мореплавателя назван пролив, разделяющий Южную Америку и Антарктиду?

- а) Джеймс Кук; б) Фрэнсис Дрейк; в) Фернан Магеллан; г) Фаддей Беллинсгаузен.

2. Отметьте правильные высказывания словом «Да», неправильные - словом «Нет».

1	Из всех материков к Антарктиде ближе всех находится Австралия	
2	Экспедиции Амундсена и Скотта первыми побывали на Южном полюсе Земли	
3	Антарктический материк полностью покрыт ледником	
4	Максимальная скорость ветра на планете была зафиксирована в Антарктиде	
5	В Антарктиде нет никаких полезных ископаемых	

3. Заполните пропуски в тексте:

Антарктида была открыта в 1) \_\_\_\_\_ г. экспедицией под руководством 2) \_\_\_\_\_. 3) \_\_\_\_\_ первым ступил на берег Антарктиды в 4) \_\_\_\_\_ г. Действующий вулкан в Антарктиде носит название 5) \_\_\_\_\_ и был открыт в 6) \_\_\_\_\_ г. Южный полюс был впервые покорен экспедицией 7) \_\_\_\_\_ в 8) \_\_\_\_\_ г.

4. Заполните таблицу «дата – событие в истории и освоении Антарктиды»:

1957г.	
1958г.	
1978г.	


5. Сколько ошибок допущено в приведенном тексте?

От берегов моря Уэдделла до моря Росса протянулся могучий горный хребет — Трансантарктические горы. Он делит материк на две части: Западную и Восточную Антарктиду. Восточная Антарктида — это район развития современных геологических процессов. Здесь есть и низменности, и молодые горы, и даже действующий вулкан. Здесь же находится высшая точка Антарктиды — вулкан Эребус.

6. Как вы думаете:

1	Антарктический полуостров ближе к Африке или к Южной Америке?	
2	Море Уэдделла находится к востоку или к западу от Антарктического полуострова?	
3	Берег какого моря: Росса или Беллинсгаузена ближе к Южному полюсу?	
4	Вулкан Эребус находится на берегу моря Росса или моря Уэдделла?	
5	Российская антарктическая станция «Мирный» расположена ближе к Австралии или к Южной Америке?	

7. Рассмотрите климатограммы двух антарктических станций. Определите, какая из них соответствует станции «Восток», а какая — «Мак-Мердо». Назовите не менее двух причин, на основании которых вы сделали свой вывод.



**Контрольная работа по теме «Антарктида», II вариант**

1. Российская научная станция, расположенная на Полюсе недоступности, называется:

- а) «Беллинсгаузен»; б) «Лазарев»; в) «Восток»; г) «Мирный».

2. Отметьте правильные высказывания словом «Да», неправильные - словом «Нет».

1	Антарктида почти в 2 раза больше Австралии и немного уступает Южной Америке	
2	От Южной Америки Антарктида отделена морями Росса и Амундсена	
3	Антарктида была открыта русскими моряками в XIX веке	
4	Высшая точка Антарктиды располагается в восточной части материка	
5	Высшей точкой Антарктиды является вулкан Эребус	

3. Заполните пропуски в тексте.

Средняя толщина ледяного покрова Антарктиды составляет более 1) \_\_\_\_\_ км, а максимальная — более 2) \_\_\_\_\_ км. Возраст ледяного щита Антарктиды составляет около 3) \_\_\_\_\_. Минимальная температура, отмеченная в Антарктиде, составила 4) \_\_\_\_\_ °С и была зарегистрирована на станции 5) \_\_\_\_\_ в 6) \_\_\_\_\_ г. Самый крупный вид пингвинов называется 7) \_\_\_\_\_, самый распространенный — 8) \_\_\_\_\_.

4. Заполните таблицу: «дата – событие в истории и освоении Антарктиды»:

1820г.	
1840г.	
1911г.	

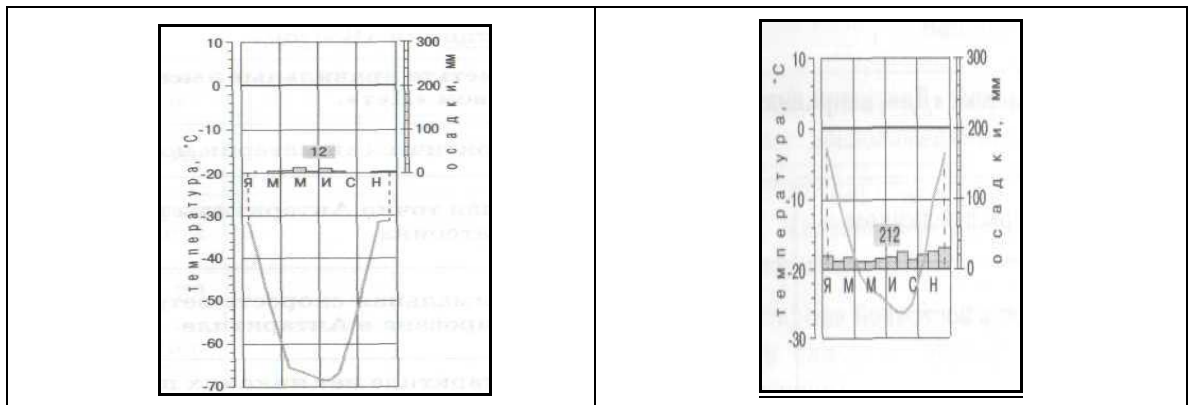
5. Сколько ошибок допущено в приведенном тексте?

Люди, работающие на научных станциях, расположенных в центральных районах Восточной Антарктиды («Восток» и «Амундсен-Скотт»), находятся на очень большой высоте. Западная Антарктида сложена древними горными породами. Здесь нет таких высоких гор, как на востоке материка, но зато вся поверхность приподнята над уровнем моря на высоту около 1,5 км.

6. Как вы думаете:

1	Африка или Австралия расположены ближе к Антарктиде?	
2	Антарктиду отделяет от Южной Америки пролив Магелланов или Дрейка?	
3	Течение Западных Ветров движется на восток или на запад?	
4	Антарктический полуостров — в Восточном полушарии или в Западном?	
5	Площадь Антарктиды больше или меньше площади Южной Америки?	

7. Рассмотрите климатограммы двух антарктических станций. Определите, какая из них соответствует станции «Восток», а какая — «Мак-Мердо». Назовите не менее двух причин, на основании которых вы сделали свой вывод.



## Контрольная работа по теме «Антарктида», I вариант

1. В честь какого мореплавателя назван пролив, разделяющий Южную Америку и Антарктиду?

- а) Джеймс Кук; б) Фрэнсис Дрейк; в) Фернан Магеллан; г) Фаддей Беллингаузен.

2. Отметьте правильные высказывания словом «Да», неправильные - словом «Нет».

1	Из всех материков к Антарктиде ближе всех находится Австралия	нет
2	Экспедиции Амундсена и Скотта первыми побывали на Южном полюсе Земли	да
3	Антарктический материк полностью покрыт ледником	нет
4	Максимальная скорость ветра на планете была зафиксирована в Антарктиде	да
5	В Антарктиде нет никаких полезных ископаемых	нет

3. Заполните пропуски в тексте:

Антарктида была открыта в 1)1820г. экспедицией под руководством 2)Ф.Ф. Беллингаузена и М.П. Лазарева. 3)Ж.С. Дюмон Дюрвиль первым ступил на берег Антарктиды в 4)1840г. Действующий вулкан в Антарктиде носит название 5) Эребус и был открыт в 6)1841г. Южный полюс был впервые покорен экспедицией 7)Р. Амундсена в 8)1911г.

4. Заполните таблицу «дата – событие в истории и освоении Антарктиды»:

1957г.	Возникновение первых научных станций
1958г.	Покорение Полюса Недоступности
1978г.	Родился первый и единственный ребенок (аргентинец, мальчик)

5. Сколько ошибок допущено в приведенном тексте? (4 ошибки)

От берегов моря Уэдделла до моря Росса протянулся могучий горный хребет — Трансантарктические горы. Он делит материк на две части: Западную и Восточную Антарктиду. Восточная Антарктида — это район развития современных геологических процессов. Здесь есть и низменности, и молодые горы, и даже действующий вулкан. Здесь же находится высшая точка Антарктиды — вулкан Эребус.

6. Как вы думаете:

1	Антарктический полуостров ближе к Африке или к Южной Америке?	Южной
2	Море Уэдделла находится к востоку или к западу от Антарктического полуострова?	востоку
3	Берег какого моря: Росса или Беллингаузена ближе к Южному полюсу?	Росса
4	Вулкан Эребус находится на берегу моря Росса или моря Уэдделла?	Росса
5	Российская антарктическая станция «Мирный» расположена ближе к Австралии или к Южной Америке?	Австралии

7. Рассмотрите климатограммы двух антарктических станций. Определите, какая из них соответствует станции «Восток», а какая — «Мак-Мердо». Назовите не менее двух причин, на основании которых вы сделали свой вывод.



## Контрольная работа по теме «Антарктида», II вариант

1. Российская научная станция, расположенная на Полюсе недоступности, называется:

- а) «Беллинсгаузен»; б) «Лазарев»; **в) «Восток»;** г) «Мирный».

2. Отметьте правильные высказывания словом «Да», неправильные - словом «Нет».

1	Антарктида почти в 2 раза больше Австралии и немного уступает Южной Америке	<b>да</b>
2	От Южной Америки Антарктида отделена морями Росса и Амундсена	<b>нет</b>
3	Антарктида была открыта русскими моряками в XIX веке	<b>да</b>
4	Высшая точка Антарктиды располагается в восточной части материка	<b>нет</b>
5	Высшей точкой Антарктиды является вулкан Эребус	<b>нет</b>

3. Заполните пропуски в тексте.

Средняя толщина ледяного покрова Антарктиды составляет более **1) 2 км**, а максимальная — более **2) 4 км**. Возраст ледяного щита Антарктиды составляет около **3) 20 млн. лет**. Минимальная температура, отмеченная в Антарктиде, составила **4) -89,2°C** и была зарегистрирована на станции **5) «Восток»** в **6) 1983г.** Самый крупный вид пингвинов называется **7) императорский**, самый распространенный — **8) Адели**.

4. Заполните таблицу: «дата – событие в истории и освоении Антарктиды»:

1820г.	<b>Открытие Антарктиды</b>
1840г.	<b>Человек ( Ж.С. Дюмон Дюрвиль) впервые вступил на берег материка</b>
1911г.	<b>Покорение Южного полюса</b>

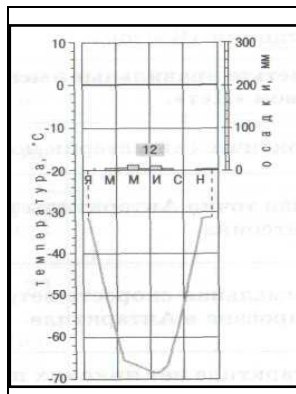
5. Сколько ошибок допущено в приведенном тексте? (3 ошибки)

Люди, работающие на научных станциях, расположенных в центральных районах Восточной Антарктиды («Восток» и «Амундсен-Скотт»), находятся на очень большой высоте. **Западная** Антарктида сложена древними горными породами. **Здесь** нет таких высоких гор, как на **востоке** материка, но зато вся поверхность приподнята над уровнем моря на высоту около 1,5 км.

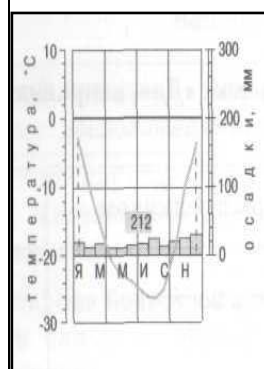
6. Как вы думаете:

1	Африка или <b>Австралия</b> расположены ближе к Антарктиде?	Австралия
2	Антарктиду отделяет от Южной Америки пролив Магелланов или <b>Дрейка</b> ?	Дрейка
3	Течение Западных Ветров движется на <b>восток</b> или на запад?	восток
4	Антарктический полуостров — в Восточном полушарии или в <b>Западном</b> ?	Западном
5	Площадь Антарктиды больше или <b>меньше</b> площади Южной Америки?	меньше

7. Рассмотрите климатограммы двух антарктических станций. Определите, какая из них соответствует станции «Восток», а какая — «Мак-Мердо». Назовите не менее двух причин, на основании которых вы сделали свой вывод.



**Восток**  
(холоднее, меньше осадков, т.к. находится внутри материка)



**Мак-Мердо** (теплее, больше осадков, т.к. находится на побережье)