

Контрольная работа по теме «ПК Островная Арктика и Восточно-Европейская равнина»

I вариант

- Где располагается самый северный в нашей стране заповедник?**
а) Земля Франца-Иосифа; б) остров Врангеля; в) Новая Земля; г) Северная Земля.
- Какие из перечисленных объектов располагаются в пределах Русской равнины?**
а) Ишимская равнина; б) Салаирский кряж; г) Минусинская низменность;
в) Приволжская возвышенность; д) Среднерусская возвышенность.
- Какие из перечисленных озёр располагаются в пределах Восточно-Европейской равнины?**
а) Байкал; б) Ладожское; в) Онежское; г) Чудское; д) Ханка.
- Какие из перечисленных природных объектов расположены в тундровой зоне Восточно-Европейской равнины?**
а) Гыданский полуостров; в) полуостров Канин;
б) Онежское озеро; г) устье Печоры; д) устье Северной Двины.
- Для природно-территориального комплекса полесий характерны:**
а) заболоченность территории; г) всё вышеперечисленное;
б) сосновые леса; д) ничего из перечисленного.
в) песчано-глинистые почвы;

6. Отметьте правильные высказывания словом «Да», неправильные - словом «Нет».

1	Территория Восточно-Европейской равнины крайне бедна полезными ископаемыми	
2	На территории Восточно-Европейской равнины располагается крупнейшее в стране месторождение железных руд	
3	Большая часть территории Русской равнины располагается в бассейне Атлантического океана	
4	Большинство озёр Восточно-Европейской равнины имеют ледниковое происхождение	
5	На реках северо-запада Восточно-Европейской равнины много порогов и невысоких водопадов	
6	Великий ледник сыграл огромную роль в формировании рельефа северо-запада Восточно-Европейской равнины	
7	Вдоль побережья Баренцева моря население занимается промыслом рыбы и морского зверя, а в тундре — оленеводством	

- Для какой части Русской равнины характерно следующее описание «На северо-западе видны следы древнего оледенения, к юго-востоку они становятся менее заметными»:**
а) Европейский Север; в) Ставропольская возвышенность;
б) Среднерусская возвышенность; г) Прикаспийская низменность.
- Какие из перечисленных характеристик относятся к северу Русской равнины?**
а) большое количество озёр, преимущественно ледникового происхождения;
б) снеговое питание большинства рек;
в) климатические условия определяются нарастающей континентальностью климата;
г) высота над уровнем моря составляет – 27 метров;
д) большую часть территории занимает тундровая зона;
е) в составе почв преобладают чернозёмы;
ж) леса здесь размещаются в понижениях рельефа, прежде всего в долинах рек.
- Укажите, какие острова Арктики относятся к Восточной Арктике:**
а) Остров Врангеля г) Земля Франца-Иосифа
б) Сахалин д) Новосибирские острова
в) Новая Земля е) Северная Земля

10. Определите, о каких объектах идет речь в предложениях:

- а) Песчаные низины, окаймляющие с юга моренные лесные равнины.
- б) «Великая» гора Прикаспийской низменности, сложенная из глыбы каменной соли 200 млн. лет назад.
- в) Крупный полуостров на севере Русской равнины.
- г) Остров в Баренцевом море у побережья Малоземельской тундры.
- д) Крупнейшее водохранилище на юго-востоке Русской равнины.

11. Укажите порядок расположения перечисленных географических объектов с севера на юг (табл. № 1) и с запада на восток (табл. № 2):

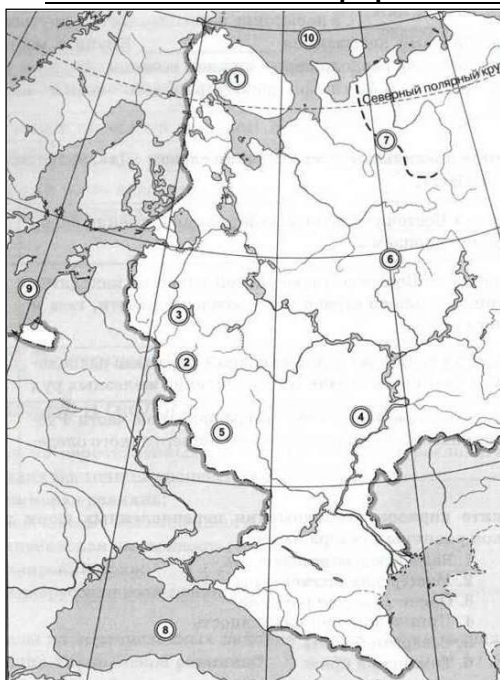
А	Валдайская возвышенность	
Б	Прикаспийская низменность	
В	Окско-Донская равнина	
Г	Мещёрская низменность	
Д	Северные Увалы	
Е	Тиманский кряж	

А	Полуостров Канин	
Б	Река Нева	
В	Устье Вятки	
Г	Онежское озеро	
Д	Устье Северной Двины	
Е	Чудское озеро	

12. Как вы думаете:

1	Какое озеро находится южнее: Чудское или Ладожское?	
2	В каком море наблюдаются большие глубины: Восточно-Сибирском или Карском?	
3	Енисейский залив находится в Карском море или море Лаптевых?	
4	Какое из морей полностью замерзает на зиму: Баренцево или Белое?	
5	Сухона — приток Северной Двины или Печоры?	
6	Волга берёт начало на территории России или Белоруссии?	
7	Город Архангельск стоит на берегу Баренцева моря или Белого?	
8	Лапландский заповедник находится на территории России или нет?	
9	Волга берёт начало на Валдайской или Московской возвышенности?	
10	В каком направлении течёт Дон при впадении в море?	
11	Какой город расположен в устье Волги: Астрахань или Волгоград?	
12	Устье какой реки: Дона или Волги — расположено восточнее?	

13. Укажите названия географических объектов, обозначенных цифрами:



- 1. Горы
- 2. Возвышенность
- 3. Возвышенность
- 4. Возвышенность
- 5. Возвышенность
- 6. Увалы
- 7. Кряж
- 8. Море
- 9. Море
- 10. Море

14. Теоретический вопрос:

В какую сторону наклонена поверхность Русской равнины и как по карте можно определить направление этого уклона?

Контрольная работа по теме «ПК Островная Арктика и Восточно-Европейская равнина»

II вариант

- 1. На каком из перечисленных архипелагов площадь современного оледенения максимальна?**
а) Земля Франца-Иосифа; б) Новая Земля; в) Новосибирские острова; г) Северная Земля.
- 2. В каком из перечисленных районов располагается высшая точка Русской равнины?**
а) На Валдайской возвышенности; в) на Среднерусской возвышенности;
б) на Приволжской возвышенности; г) на Тиманском кряже; д) в Хибинах.
- 3. В каком направлении возрастает континентальность климата Русской равнины?**
а) С северо-востока на юго-запад; в) с юго-востока на северо-запад;
б) с северо-запада на юго-восток; г) с юго-запада на северо-восток.
- 4. На побережье какого моря, омывающих Русскую равнину преобладают таёжные ландшафты**
а) Азовского; б) Баренцева; в) Белого; г) Каспийского.
- 5. Какие из перечисленных природных объектов располагаются в степной зоне?**
а) Астраханский заповедник; в) устье Волги; г) устье Дона;
б) Куйбышевское водохранилище; д) Цимлянское водохранилище.

6. Отметьте правильные высказывания словом «Да», неправильные - словом «Нет».

1	На территории Восточно-Европейской равнины находятся крупнейшие в нашей стране месторождения нефти, газа и каменного угля	
2	Рельеф и большое число озёр северо-западной части Русской равнины обусловлены влиянием четвертичного оледенения	
3	В пределах Восточно-Европейской равнины преобладают реки со снеговым питанием	
4	Наиболее густая овражно-балочная сеть характерна для лесной зоны Русской равнины	
5	За обилие следов деятельности Великого ледника Полесье часто называют «краем бараньих лбов»	
6	Климат Восточно-Европейской равнины определяют воздушные массы с Атлантического океана	
7	Озеро Баскунчак содержит чистейшую и лучшую в мире по качеству поваренную соль	

- 7. Для какой части Русской равнины характерно следующее описание «Рельеф плоский и невысокий; в неглубоких понижениях образовались соленые озера; осадков выпадает в 5-6 раз меньше, чем может испариться»:**
а) Европейский Север; в) Ставропольская возвышенность;
б) Среднерусская возвышенность; г) Прикаспийская низменность.
- 8. Какие из перечисленных характеристик относятся к югу Русской равнины?**
а) большое количество озёр, преимущественно ледникового происхождения;
б) снеговое питание большинства рек;
в) климатические условия определяются нарастающей континентальностью климата;
г) высота над уровнем моря составляет – 27 метров;
д) большую часть территории занимает тундровая зона;
е) в составе почв преобладают чернозёмы;
ж) леса здесь размещаются в понижениях рельефа, прежде всего в долинах рек.
- 9. Укажите, какие острова Арктики относятся к Западной Арктике:**
а) Остров Врангеля г) Земля Франца-Иосифа
б) Сахалин д) Новосибирские острова
в) Новая Земля е) Северная Земля

10. Определите, о каких объектах идет речь в предложениях:

- а) Озеро, содержащее лучшую в мире по качеству поваренную соль.
- б) Вытянутые невысокие (150 – 200 м) возвышенности с мягкими очертаниями.
- в) Самый крупный из Новосибирских островов.
- г) Река на севере Русской равнины, служащая границей между Малоземельской и Большеземельской тундрой.
- д) Крупнейшее по площади водохранилище на севере Русской равнины.

11. Укажите порядок расположения перечисленных географических объектов с севера на юг (табл. № 1) и с запада на восток (табл. № 2):

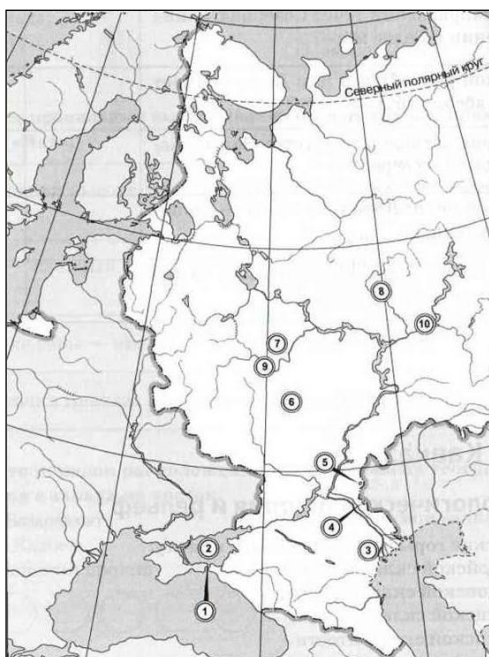
А	Горьковское водохранилище	
Б	Ладожское озеро	
В	Куйбышевское водохранилище	
Г	Псковское озеро	
Д	Онежское озеро	
Е	Чудское озеро	

А	Озеро Баскунчак	
Б	Дельта Волги	
В	Устье Дона	
Г	Керченский пролив	
Д	Окско-Донская равнина	
Е	Жигулевские горы	

12. Как вы думаете:

1	Пролив Дмитрия Лаптева отделяет от материка Новосибирские острова или Северную Землю?	
2	Какой остров находится севернее: Колгуев или Вайгач?	
3	Что расположено южнее: Северные Увалы или Тиманский кряж?	
4	Приволжская возвышенность расположена на правом или на левом берегу Волги?	
5	Какой меридиан пересекает остров Врангеля: 170-й или 180-й?	
6	Охотское море отделяют от океана Курильские острова или Алеутские?	
7	В какое море впадает река Дон?	
8	Что расположено восточнее: Большеземельская или Малоземельская тундра?	
9	Колыма впадает в Восточно-Сибирское или Охотское море?	
10	В каком направлении течёт Северная Двина при впадении в Белое море?	
11	Устье какой реки: Волги или Дона — имеет меньшую абсолютную высоту?	
12	Какое из морей полностью замерзает на зиму: Баренцево или Лаптевых?	

13. Укажите названия географических объектов, обозначенных цифрами:



- 1. Пролив
- 2. Море
- 3. Низменность
- 4. Озеро
- 5. Озеро
- 6. Равнина
- 7. Низменность
- 8. Река
- 9. Река
- 10. Река

14. Теоретический вопрос:

Почему именно на Русской равнине наиболее полно представлены природные зоны нашей страны?

Контрольная работа по теме «ПК Островная Арктика и Восточно-Европейская равнина»

I вариант

- Где располагается самый северный в нашей стране заповедник?**
а) Земля Франца-Иосифа; **б) остров Врангеля;** в) Новая Земля; г) Северная Земля.
- Какие из перечисленных объектов располагаются в пределах Русской равнины?**
а) Ишимская равнина; б) Салаирский кряж; г) Минусинская низменность;
в) Приволжская возвышенность; **д) Среднерусская возвышенность.**
- Какие из перечисленных озёр располагаются в пределах Восточно-Европейской равнины?**
а) Байкал; **б) Ладожское;** **в) Онежское;** **г) Чудское;** д) Ханка.
- Какие из перечисленных природных объектов расположены в тундровой зоне Восточно-Европейской равнины?**
а) Гыданский полуостров; **в) полуостров Канин;**
б) Онежское озеро; **г) устье Печоры;** д) устье Северной Двины.
- Для природно-территориального комплекса полесий характерны:**
а) заболоченность территории; **г) всё вышеперечисленное;**
б) сосновые леса; д) ничего из перечисленного.
в) песчано-глинистые почвы;

6. Отметьте правильные высказывания словом «Да», неправильные - словом «Нет».

1	Территория Восточно-Европейской равнины крайне бедна полезными ископаемыми	да
2	На территории Восточно-Европейской равнины располагается крупнейшее в стране месторождение железных руд	да
3	Большая часть территории Русской равнины располагается в бассейне Атлантического океана	нет
4	Большинство озёр Восточно-Европейской равнины имеют ледниковое происхождение	да
5	На реках северо-запада Восточно-Европейской равнины много порогов и невысоких водопадов	да
6	Великий ледник сыграл огромную роль в формировании рельефа северо-запада Восточно-Европейской равнины	да
7	Вдоль побережья Баренцева моря население занимается промыслом рыбы и морского зверя, а в тундре — оленеводством	да

7. Для какой части Русской равнины характерно следующее описание «На северо-западе видны следы древнего оледенения, к юго-востоку они становятся менее заметными»:

- а) Европейский Север;** в) Ставропольская возвышенность;
б) Среднерусская возвышенность; г) Прикаспийская низменность.

8. Какие из перечисленных характеристик относятся к северу Русской равнины?

- а) большое количество озёр, преимущественно ледникового происхождения;**
б) снеговое питание большинства рек;
в) климатические условия определяются нарастающей континентальностью климата;
г) высота над уровнем моря составляет – 27 метров;
д) большую часть территории занимает тундровая зона;
е) в составе почв преобладают чернозёмы;
ж) леса здесь размещаются в понижениях рельефа, прежде всего в долинах рек.

9. Укажите, какие острова Арктики относятся к Восточной Арктике:

- а) Остров Врангеля** г) Земля Франца-Иосифа
б) Сахалин **д) Новосибирские острова**
в) Новая Земля **е) Северная Земля**

10. Определите, о каких объектах (людях) идет речь в предложениях:

- а) Песчаные низины, окаймляющие с юга моренные лесные равнины... **Полясья.**
- б) «Великая» гора Прикаспийской низменности, сложенная из глыбы.... **Большое Богдо.**
- в) Крупный полуостров на севере Русской равнины.... **Кольский п-ов.**
- г) Остров в Баренцевом море у побережья Малоземельской тундры..... **Колгуев.**
- д) Крупнейшее водохранилище на юго-востоке Русской равнины..... **Куйбышевское вдхр. («Самарское море»).**

11. Укажите порядок расположения перечисленных географических объектов с севера на юг (табл. № 1) и с запада на восток (табл. № 2):

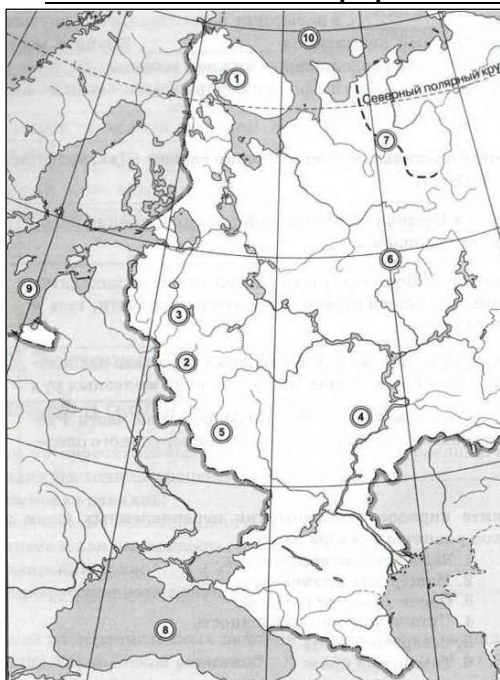
А	Валдайская возвышенность	3
Б	Прикаспийская низменность	6
В	Окско-Донская равнина	5
Г	Мещёрская низменность	4
Д	Северные Увалы	2
Е	Тиманский кряж	1

А	Полуостров Канин	5
Б	Река Нева	2
В	Устье Вятки	6
Г	Онежское озеро	3
Д	Устье Северной Двины	4
Е	Чудское озеро	1

12. Как вы думаете:

1	Какое озеро находится южнее: Чудское или Ладожское?	
2	В каком море наблюдаются большие глубины: Восточно-Сибирском или Карском?	
3	Енисейский залив находится в Карском море или море Лаптевых?	
4	Какое из морей полностью замерзает на зиму: Баренцево или Белое?	
5	Сухона — приток Северной Двины или Печоры?	
6	Волга берёт начало на территории России или Белоруссии?	
7	Город Архангельск стоит на берегу Баренцева моря или Белого?	
8	Лапландский заповедник находится на территории России или нет?	
9	Волга берёт начало на Валдайской или Московской возвышенности?	
10	В каком направлении течёт Дон при впадении в море?	на запад
11	Какой город расположен в устье Волги: Астрахань или Волгоград?	
12	Устье какой реки: Дона или Волги — расположено восточнее?	

13. Укажите названия географических объектов, обозначенных цифрами:



- 1. Горы **Хибины**
- 2. Возвышенность **Смоленско-Московская**
- 3. Возвышенность **Валдайская**
- 4. Возвышенность **Приволжская**
- 5. Возвышенность **Среднерусская**
- 6. Увалы **Северные**
- 7. Кряж **Тиманский**
- 8. Море **Черное**
- 9. Море **Балтийское**
- 10. Море **Баренцево**

14. Теоретический вопрос:

В какую сторону наклонена поверхность Русской равнины и как по карте можно определить направление этого уклона?

На север и на юг – по направлениям течения рек.

Контрольная работа по теме «ПК Островная Арктика и Восточно-Европейская равнина»

II вариант

1. **На каком из перечисленных архипелагов площадь современного оледенения максимальна?**

- а) Земля Франца-Иосифа; б) Новая Земля; в) Новосибирские острова; г) Северная Земля.

2. **В каком из перечисленных районов располагается высшая точка Русской равнины?**

- а) На Валдайской возвышенности; в) на Среднерусской возвышенности;
б) на Приволжской возвышенности; г) на Тиманском кряже; д) в Хибинах.

3. **В каком направлении возрастает континентальность климата Русской равнины?**

- а) С северо-востока на юго-запад; в) с юго-востока на северо-запад;
б) с северо-запада на юго-восток; г) с юго-запада на северо-восток.

4. **На побережье какого моря, омывающих Русскую равнину преобладают таёжные ландшафты**

- а) Азовского; б) Баренцева; в) Белого; г) Каспийского.

5. **Какие из перечисленных природных объектов располагаются в степной зоне?**

- а) Астраханский заповедник; в) устье Волги; г) устье Дона;
б) Куйбышевское водохранилище; д) Цимлянское водохранилище.

6. **Отметьте правильные высказывания словом «Да», неправильные - словом «Нет».**

1	На территории Восточно-Европейской равнины находятся крупнейшие в нашей стране месторождения нефти, газа и каменного угля	нет
2	Рельеф и большое число озёр северо-западной части Русской равнины обусловлены влиянием четвертичного оледенения	да
3	В пределах Восточно-Европейской равнины преобладают реки со снеговым питанием	да
4	Наиболее густая овражно-балочная сеть характерна для лесной зоны Русской равнины	нет
5	За обилие следов деятельности Великого ледника Полесье часто называют «краем бараньих лбов»	нет
6	Климат Восточно-Европейской равнины определяют воздушные массы с Атлантического океана	да
7	Озеро Баскунчак содержит чистейшую и лучшую в мире по качеству поваренную соль	да

7. **Для какой части Русской равнины характерно следующее описание «Рельеф плоский и невысокий; в неглубоких понижениях образовались соленые озера; осадков выпадает в 5-6 раз меньше, чем может испариться»:**

- а) Европейский Север; в) Ставропольская возвышенность;
б) Среднерусская возвышенность; г) Прикаспийская низменность.

8. **Какие из перечисленных характеристик относятся к югу Русской равнины?**

- а) большое количество озёр, преимущественно ледникового происхождения;
б) снеговое питание большинства рек;
в) климатические условия определяются нарастающей континентальностью климата;
г) высота над уровнем моря составляет – 27 метров;
д) большую часть территории занимает тундровая зона;
е) в составе почв преобладают чернозёмы;
ж) леса здесь размещаются в понижениях рельефа, прежде всего в долинах рек.

9. **Укажите, какие острова Арктики относятся к Западной Арктике:**

- а) Остров Врангеля г) Земля Франца-Иосифа
б) Сахалин д) Новосибирские острова
в) Новая Земля е) Северная Земля

10. Определите, о каких объектах (людях) идет речь в предложениях:

- Озеро, содержащее лучшую в мире по качеству поваренную соль.... **Баскунчак.**
- Вытянутые невысокие (150 – 200 м) возвышенности с мягкими очертаниями.... **Увалы.**
- Самый крупный из Новосибирских островов.... **Котельный.**
- Река на севере Русской равнины, служащая границей между Малоземельской и Большеземельской тундрой.... **Печора.**
- Крупнейшее по площади водохранилище на севере Русской равнины.... **Рыбинское.**

11. Укажите порядок расположения перечисленных географических объектов с севера на юг (табл. № 1) и с запада на восток (табл. № 2):

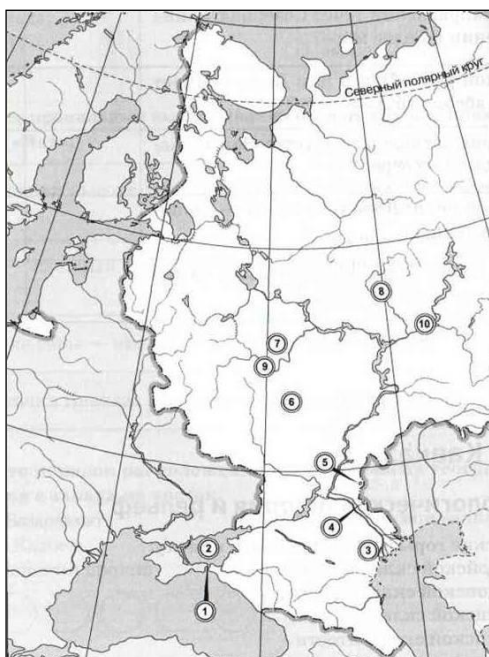
А	Горьковское водохранилище	5
Б	Ладожское озеро	2
В	Куйбышевское водохранилище	6
Г	Псковское озеро	4
Д	Онежское озеро	1
Е	Чудское озеро	3

А	Озеро Баскунчак	5
Б	Дельта Волги	6
В	Устье Дона	2
Г	Керченский пролив	1
Д	Окско-Донская равнина	3
Е	Жигулевские горы	4

12. Как вы думаете:

1	Пролив Дмитрия Лаптева отделяет от материка Новосибирские острова или Северную Землю?	
2	Какой остров находится севернее: Колгуев или Вайгач ?	
3	Что расположено южнее: Северные Увалы или Тиманский кряж?	
4	Приволжская возвышенность расположена на правом или на левом берегу Волги?	
5	Какой меридиан пересекает остров Врангеля: 170-й или 180-й ?	
6	Охотское море отделяют от океана Курильские острова или Алеутские?	
7	В какое море впадает река Дон?	Азовское
8	Что расположено восточнее: Большеземельская или Малоземельская тундра?	
9	Колыма впадает в Восточно-Сибирское или Охотское море?	
10	В каком направлении течёт Северная Двина при впадении в Белое море?	на запад
11	Устье какой реки: Волги или Дона — имеет меньшую абсолютную высоту?	
12	Какое из морей полностью замерзает на зиму: Баренцево или Лаптевых ?	

13. Укажите названия географических объектов, обозначенных цифрами:



- Пролив **Керченский**
- Море **Азовское**
- Низменность **Прикаспийская**
- Озеро **Баскунчак**
- Озеро **Эльтон**
- Равнина **Окско-Донская**
- Низменность **Мещерская**
- Река **Вятка**
- Река **Ока**
- Река **Кама**

14. Теоретический вопрос:

Почему именно на Русской равнине наиболее полно представлены природные зоны нашей страны?

Она далеко вытянута с севера на юг и равнинная.