

Контрольная работа по теме «Австралия и Океания»

I вариант

1. Кто из перечисленных мореплавателей не имеет отношения к истории открытия и изучения Австралии?

- а) Джеймс Кук; в) Васко да Гама; д) Фернан Магеллан;
б) Абель Тасман; г) Луис де Торрес; е) Биллем Янзон.

2. Австралию пересекают:

- а) Северный тропик; в) Южный тропик; д) 120-й меридиан.
б) экватор; г) нулевой меридиан;

3. Животные, обитающие только на какой-то определенной территории, это:

- а) экзоты; б) эмпирики; в) эндемики; г) эпифиты.

4. К сумчатым животным не относится:

- а) утконос; б) коала; в) динго; г) кенгуру.

5. Самый густонаселенный австралийский штат — это:

- а) Виктория; б) Квинсленд; в) Новый Южный Уэльс; г) Южная Австралия.

6. Крупнейшим по площади островом Океании является:

- а) Мадагаскар; б) Новая Гвинея; в) Новая Зеландия; г) Таити.

7. Отметьте правильные высказывания словом «Да», неправильные - словом «Нет».

1	Предположение о существовании огромного южного материка было высказано после кругосветной экспедиции Магеллана	
2	Почти вся территория Австралии лежит в условиях тропического климата	
3	Первое поселение на Австралийском материке — это современный город Мельбурн	
4	Высшая точка Австралии — гора Косцюшко — имеет высоту меньше 3 км	
5	Большой Водораздельный хребет — самые молодые горы Австралии — имеют возраст около 400 млн. лет	
6	В пустынях Австралии нет оазисов	
7	Самый крупный хищник Австралии — сумчатый волк	
8	Столица Австралии является ее крупнейшим городом Австралия является крупнейшим в мире производителем шерсти	
9	Океанией называют любую большую группу островов независимо от того, в каком океане она находится	
10	Японские острова — самая северная группа островов Океании	
11	Миклухо-Маклай сыграл большую роль в исследовании жизни папуасов Новой Гвинеи	

8. Установите соответствие «мыс – координаты»:

1) мыс Байрон	2) мыс Саут-Ист-Пойнт	3) мыс Йорк	4) мыс Стип-Пойнт

- а) 39°ю.ш. 146°в.д.; б) 28°ю.ш. 153°в.д.; в) 27°ю.ш. 153°в.д.; г) 9°ю.ш. 142°в.д.

9. Заполните пропуски в тексте:

Низкорослые густые и труднопроходимые заросли в Австралии называются 1) _____. Единственные в мире млекопитающие, откладывающие яйца, - это 2) _____ и 3) _____. 4) _____ — самые высокие деревья планеты. Самый крупный хищник в Австралии (в настоящее время) — это 5) _____. На материке расположена одна страна – 6) _____. Современное население ее состоит из коренных жителей и 7) _____, составляющих большинство населения. Самыми крупными городами страны являются 8) _____ и 9) _____. Однако, столицей страны является небольшой городок 10) _____, расположенный на равном расстоянии от двух крупнейших городов.

10. Как вы думаете:

1	Что проходит в средней части Австралии — экватор или тропик?	
2	Где расположено озеро Эйр — ближе к южному или к северному берегу материка?	
3	Большой Барьерный риф находится в Тихом или в Индийском океане?	
4	Какой остров больше — Тасмания или Новая Зеландия?	
5	Залив Карпентария находится у северных или у западных берегов Австралии?	
6	Что расположено южнее: озеро Эйр или река Муррей?	
7	Какое море расположено восточнее: Арафурское или Коралловое?	
8	Большой Австралийский залив находится в Тихом океане или в Индийском?	
9	Дарлинг находится севернее или южнее Муррея?	
10	Какой остров расположен к северу от Австралии — Тасмания или Новая Гвинея?	
11	Какой остров расположен к востоку от Австралии — Новая Гвинея или Новая Зеландия?	
12	Муррей берет начало на восточном или на западном склоне Большого Водораздельного хребта?	

11. Укажите названия географических объектов, обозначенных цифрами:

	<ol style="list-style-type: none"> 1. Пустыня 2. Залив 3. Море 4. Мыс 5. Пролив 6. Озеро 7. Залив 8. Полуостров 9. Река 10. Море
--	--

12. Установите соответствие «город - климатограмма»:

	<ol style="list-style-type: none"> 1. Алис-Спрингс — 2. Дарвин — 3. Перт — 4. Брисбен — 		
<p>А</p>	<p>Б</p>	<p>В</p>	<p>Г</p>

Контрольная работа по теме «Австралия и Океания»

II вариант

1. Кто из перечисленных мореплавателей имеет отношение к истории открытия и изучения Австралии?

- а) Луис де Торрес; г) Биллем Янсзон;
б) Фернан Магеллан; д) Абель Тасман;
в) Васко да Гама; е) Джеймс Кук.

2. Высшая точка Австралии — гора Косцюшко — имеет высоту:

- а) менее 2 км; б) более 2 км; в) более 3 км; г) более 4 км

3. Наибольшее количество осадков выпадает в Австралии:

- а) на севере; б) на юге; в) на западе; г) на востоке.

4. Название какого города переводится с языка аборигенов как «место встречи»?

- а) Аделаида; б) Канберра; в) Мельбурн; г) Сидней.

5. Первые острова Океании были открыты экспедицией:

- а) Фернана Магеллана; в) Джеймса Кука;
б) Христофора Колумба; г) Ивана Крузенштерна.

6. Количество островов, образующих Океанию:

- а) 5643; б) более 5 тыс.; в) более 7 тыс.; г) 9452.

7. Отметьте правильные высказывания словом «Да», неправильные - словом «Нет».

1	Окончательные очертания Австралийского материка были определены Джеймсом Куком	
2	Австралия очень богата полезными ископаемыми	
3	Часть территории материка расположена в условиях умеренного климата	
4	Муррей — крупнейшее озеро Австралии	
5	Самым заметным представителем уникального животного мира Австралии является эвкалипт	
6	Почти все животные Австралии — сумчатые	
7	Динго — сумчатый хищник	
8	Крупнейшие города Австралии сосредоточены на юго-западе страны	
9	И настоящее время австралийские аборигены составляют около 25% от общего населения Австралии	
10	Японские острова входят в состав Океании	
11	Большинство островов Океании имеют материковое происхождение	

8. Установите соответствие «острова - признаки»:

1) Вулканические острова	2) Коралловые острова

- а) отсутствие хищников; б) Гавайские острова; в) много птиц; г) гористые; д) богатая растительность; е) низкие; ж) пресной воды мало; з) небольшие размеры

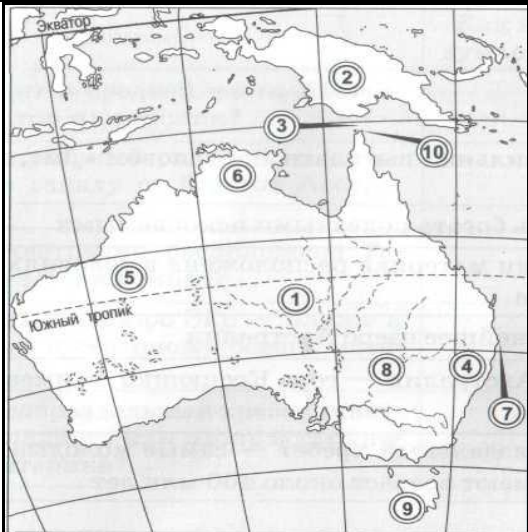
9. Заполните пропуски в тексте.

Берега Австралии 1) _____ изрезаны. Вглубь материка вдаются всего 2) _____ залива. На севере — это залив 3) _____, а на юге — 4) _____. Австралия — самый 5) _____ материк планеты. Она целиком лежит в 6) _____ полушарии и почти посередине пересекается 7) _____. Большая часть Австралийского материка находится в пределах 8) _____ климатического пояса. 9) _____ - крупнейшая река Австралийского материка. Пересыхающие реки в Австралии называют 10) _____. Обширная низменность в центральной части Австралийского материка называется 11) _____.

10. Как вы думаете:

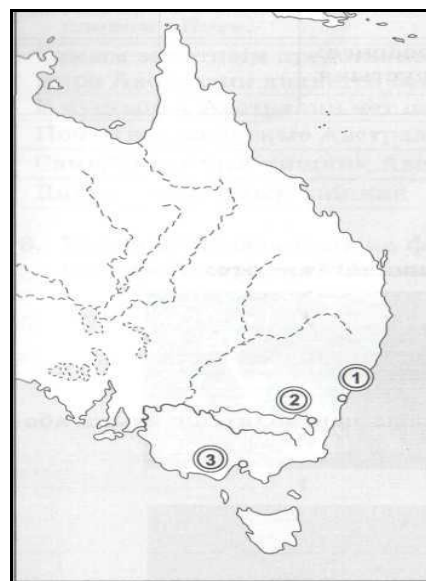
1	Большой Барьерный риф лежит к востоку или к западу от берегов Австралии?	
2	К югу от Австралии расположена Тасмания или Новая Гвинея?	
3	Большой Водораздельный хребет тянется вдоль западного или вдоль восточного берега материка?	
4	Тасманово море принадлежит Тихому или Индийскому океану?	
5	Бассов пролив отделяет от Австралии Новую Гвинею или Тасманию?	
6	Пересекает ли река Муррей Южный тропик?	
7	Какая пустыня расположена севернее: Большая песчаная или Большая пустыня Виктория?	
8	Что расположено южнее: залив Карпентария или Новая Гвинея?	
9	Какая пустыня расположена южнее: Большая песчаная или Большая пустыня Виктория?	
10	Дарлинг является правым или левым притоком Муррея?	
11	Какой остров больше — Тасмания или Новая Гвинея?	
12	Австралия расположена в Восточном или Западном полушарии?	

11. Укажите названия географических объектов, обозначенных цифрами:

	<ol style="list-style-type: none"> 1. Равнина 2. Остров 3. Пролив 4. Горы 5. Пустыня 6. Полуостров 7. Мыс 8. Река 9. Остров 10. Мыс
---	---

12. На карте восточной части Австралии

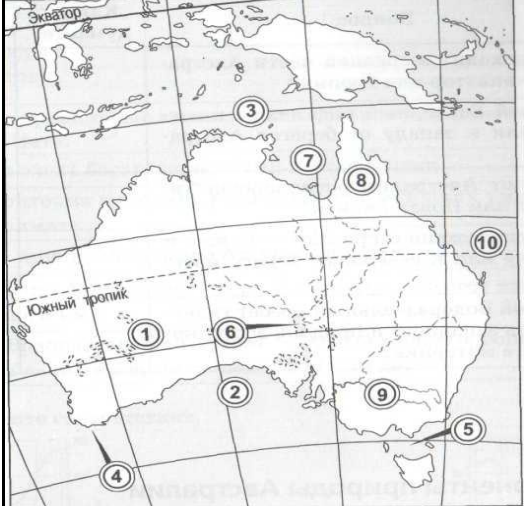
подпишите названия трех отмеченных городов. Какой из них является столицей страны и почему он расположен именно в этом месте?



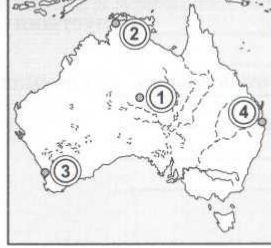
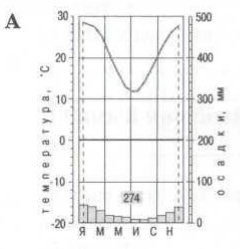

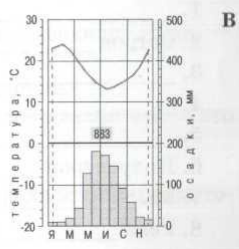
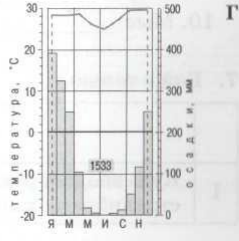
10. Как вы думаете:

1	Что проходит в средней части Австралии — экватор или тропик?	тропик
2	Где расположено озеро Эйр — ближе к южному или к северному берегу материка?	южному
3	Большой Барьерный риф находится в Тихом или в Индийском океане?	Тихом
4	Какой остров больше — Тасмания или Новая Зеландия?	Н. Зеландия
5	Залив Карпентария находится у северных или у западных берегов Австралии?	северных
6	Что расположено южнее: озеро Эйр или река Муррей?	Муррей
7	Какое море расположено восточнее: Арафурское или Коралловое?	Коралловое
8	Большой Австралийский залив находится в Тихом океане или в Индийском?	Индийском
9	Дарлинг находится севернее или южнее Муррея?	севернее
10	Какой остров расположен к северу от Австралии — Тасмания или Новая Гвинея?	Новая Гвинея
11	Какой остров расположен к востоку от Австралии — Новая Гвинея или Новая Зеландия?	Новая Зеландия
12	Муррей берет начало на восточном или на западном склоне Большого Водораздельного хребта?	западном

11. Укажите названия географических объектов, обозначенных цифрами:

	<ol style="list-style-type: none"> 1. Пустыня — Б. Виктория 2. Залив — Б. Австралийский 3. Море - Арафурское 4. Мыс — !Стип-Пойнт! 5. Пролив - Бассов 6. Озеро — Эйр-Норт 7. Залив - Карпентарий 8. Полуостров — Кейп-Йорк 9. Река - Муррей 10. Море - Коралловое
--	---

12. Установите соответствие «город - климатограмма»: 1-а, 2-г, 3-в, 4-б

	<ol style="list-style-type: none"> 1. Алис-Спрингс — 2. Дарвин — 3. Перт — 4. Брисбен — 		
<p>А</p> 	<p>Б</p> 	<p>В</p> 	<p>Г</p> 

Контрольная работа по теме «Австралия и Океания»

II вариант

1. Кто из перечисленных мореплавателей имеет отношение к истории открытия и изучения Австралии?

- а) Луис де Торрес; г) Биллем Янсзон;
б) Фернан Магеллан; д) Абель Тасман;
в) Васко да Гама; е) Джеймс Кук.

2. Высшая точка Австралии — гора Косцюшко — имеет высоту:

- а) менее 2 км; б) более 2 км; в) более 3 км; г) более 4 км

3. Наибольшее количество осадков выпадает в Австралии:

- а) на севере; б) на юге; в) на западе; г) на востоке.

4. Название какого города переводится с языка аборигенов как «место встречи»?

- а) Аделаида; б) Канберра; в) Мельбурн; г) Сидней.

5. Первые острова Океании были открыты экспедицией:

- а) Фернана Магеллана; в) Джеймса Кука;
б) Христофора Колумба; г) Ивана Крузенштерна.

6. Количество островов, образующих Океанию:

- а) 5643; б) более 5 тыс.; в) более 7 тыс.; г) 9452.

7. Отметьте правильные высказывания словом «Да», неправильные - словом «Нет».

1	Окончательные очертания Австралийского материка были определены Джеймсом Куком	да
2	Австралия очень богата полезными ископаемыми	да
3	Часть территории материка расположена в условиях умеренного климата	нет
4	Муррей — крупнейшее озеро Австралии	нет
5	Самым заметным представителем уникального животного мира Австралии является эвкалипт	нет
6	Почти все животные Австралии — сумчатые	да
7	Динго — сумчатый хищник	нет
8	Крупнейшие города Австралии сосредоточены на юго-западе страны	нет
9	И настоящее время австралийские аборигены составляют около 25% от общего населения Австралии	нет
10	Японские острова входят в состав Океании	нет
11	Большинство островов Океании имеют материковое происхождение	нет

8. Установите соответствие «острова - признаки»:

1) Вулканические острова	2) Коралловые острова
а, б, в, г, д	а, в, е, ж, з

- а) отсутствие хищников; б) Гавайские острова; в) много птиц; г) гористые; д) богатая растительность; е) низкие; ж) пресной воды мало; з) небольшие размеры

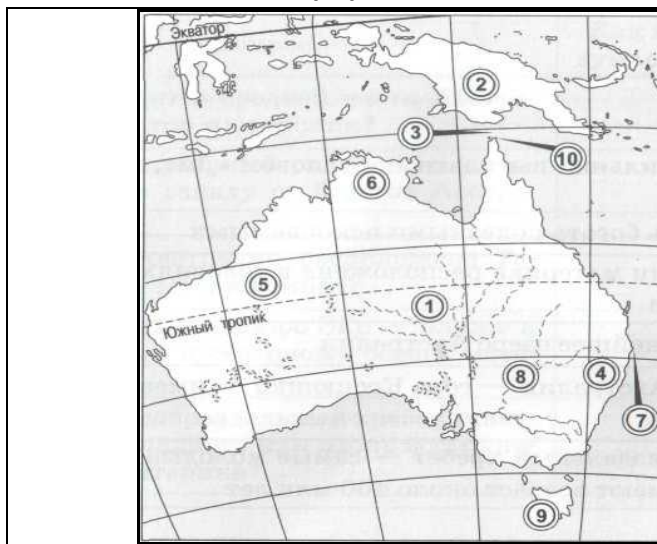
9. Заполните пропуски в тексте.

Берега Австралии 1)слабо изрезаны. Вглубь материка вдаются всего 2)два залива. На севере — это залив 3)Карпентария, а на юге — 4)Большой Австралийский. Австралия — самый 5)маленький материк планеты. Она целиком лежит в 6)южном полушарии и почти посередине пересекается 7)южным тропиком. Большая часть Австралийского материка находится в пределах 8)тропического климатического пояса. 9)Муррей - крупнейшая река Австралийского материка. Пересыхающие реки в Австралии называют 10)криками. Обширная низменность в центральной части Австралийского материка называется 11)Центральная низменность.

10. Как вы думаете:

1	Большой Барьерный риф лежит к востоку или к западу от берегов Австралии?	востоку
2	К югу от Австралии расположена Тасмания или Новая Гвинея?	Тасмания
3	Большой Водораздельный хребт тянется вдоль западного или вдоль восточного берега материка?	восточного
4	Тасманово море принадлежит Тихому или Индийскому океану?	Тихому
5	Бассов пролив отделяет от Австралии Новую Гвинею или Тасманию?	Тасманию
6	Пересекает ли река Муррей Южный тропик?	нет
7	Какая пустыня расположена севернее: Большая песчаная или Большая пустыня Виктория?	Большая песчаная
8	Что расположено южнее: залив Карпентария или Новая Гвинея?	Карпентария
9	Какая пустыня расположена южнее: Большая песчаная или Большая пустыня Виктория?	Виктория
10	Дарлинг является правым или левым притоком Муррея?	правым
11	Какой остров больше — Тасмания или Новая Гвинея?	Н. Гвинея
12	Австралия расположена в Восточном или Западном полушарии?	Восточном

11. Укажите названия географических объектов, обозначенных цифрами:



1. Равнина – Центральная низменность
2. Остров – Новая Гвинея
3. Пролив - Торресов
4. Горы – Большой Водораздельный хребет
5. Пустыня – Б. Песчаная
6. Полуостров - Арнемленд
7. Мыс - Байрон
8. Река - Дарлинг
9. Остров - Тасмания
10. Мыс - Йорк

12. На карте восточной части Австралии подпишите названия трех отмеченных городов. Какой из них является столицей страны и почему он расположен именно в этом месте?

1 – Сидней, 2 – Канберра, 3- Мельбурн.

Столица – Канберра, что в переводе означает «место встречи», поскольку город находится на равном расстоянии от самых крупных городов страны.

