

## Контрольная работа по теме «ПК Дальнего Востока»

### I вариант

**1. Самая высокая вершина Дальневосточного региона — это:**

- а) Ичинская сопка; б) Ключевская сопка; в) Кроноцкая сопка; г) гора Ледяная.

**2. Горы Дальнего Востока сформировались преимущественно в эпохи:**

- а) байкальской и каледонской складчатости; в) герцинской и мезозойской складчатости;  
б) каледонской и герцинской складчатости; г) мезозойской и альпийской складчатости.

**3. На каком из притоков Амура построена крупнейшая в Дальневосточном регионе ГЭС?**

- а) Аргунь; б) Буряя; в) Зея; г) Усури.

**4. Какие из перечисленных архипелагов входят в территорию Дальнего Востока?**

- а) Земля Франца-Иосифа; г) Новосибирские острова;  
б) Командорские острова; д) Северная Земля.  
в) Курильские острова;

**5. Отметьте правильные высказывания словом «Да», неправильные - словом «Нет».**

1	Полуостров Камчатка и Курильские острова — единственный в стране район современного вулканизма	
2	На Дальнем Востоке нашей страны располагается самый высокий действующий вулкан на территории России и всего Северного полушария	
3	Дальний Восток — область муссонного климата, причём морские воздушные массы приходят со стороны Тихого океана	
4	Крупнейшее озеро региона располагается на крайнем севере Дальнего Востока	
5	На Камчатке работает термальная электростанция, на которой электроэнергия получается за счёт подземного тепла	
6	Отличительной особенностью растительности Сахалина является проявляющийся у многих растений гигантизм	
7	Климат Приморья и Приамурья — муссонный	
8	Муссонные дожди приводят к сильным разливам рек и вызывают наводнения	

**6. Определите, о каких объектах (людях) идет речь в предложениях:**

- а) Город на Дальнем Востоке, расположенный у слияния Зеи и Амура.  
б) Крупный остров на Дальнем Востоке, отделённый от материка Татарским проливом.  
в) Источник, периодически выбрасывающий струю воды и пара.  
г) Крупный левый приток Амура.

**7. Укажите порядок расположения перечисленных географических объектов с севера на юг (табл. № 1) и с запада на восток (табл. № 2):**

А	Устье Амура	
Б	Хребет Джугджур	
В	Пенжинская губа	
Г	Залив Петра Великого	
Д	Сихотэ-Алинь	
Е	Чукотское нагорье	

А	Берингов пролив	
Б	Ключевская сопка	
В	Командорские острова	
Г	Залив Петра Великого	
Д	Остров Сахалин	
Е	Татарский пролив	

**8. Заполните пропуски в тексте:**

Климат Дальнего Востока определяется воздушными массами, которые в летний период поступают с 1) \_\_\_\_\_, а в зимний из области 2) \_\_\_\_\_. Для южной части Дальнего Востока характерна 3) \_\_\_\_\_ зима, в то время как 4) \_\_\_\_\_ часть региона — это самый снежный район нашей страны.

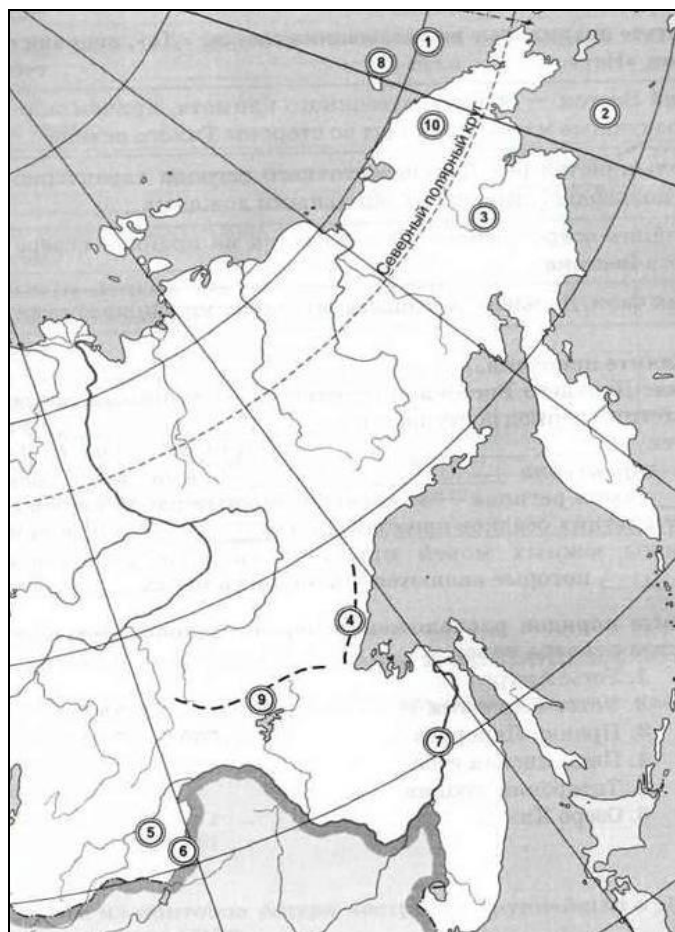
**9. Теоретический вопрос:**

- Почему на Дальнем Востоке активны вулканические процессы?

**10. Как вы думаете:**

1	В какое море впадает Амур: в Охотское или в Японское?	
2	Какой объект имеет большую высоту над уровнем моря: устье Волги или устье Амура?	
3	Устье какой реки: Зеи или Буреи находится на большей высоте над уровнем моря?	
4	Что находится на одной долготе с островом Сахалин: остров Врангеля или Новосибирские острова?	
5	Командорские острова находятся в Охотском или в Беринговом море?	
6	Ключевская сопка находится на Срединном или на Становом хребте?	
7	Уссури — правый или левый приток Амура?	
8	Какой из Курильских островов находится южнее: Парамушир или Итуруп?	
9	Река Уссури берёт начало на территории России или нет?	
10	Амур впадает в Охотское или в Японское море?	
11	Город Магадан стоит на берегу Охотского или Японского моря?	
12	В каком направлении движется вода в Баренцевом море?	

**11. Укажите названия географических объектов, обозначенных цифрами:**



1. Море \_\_\_\_\_
2. Море \_\_\_\_\_
3. Река \_\_\_\_\_
4. Хребет \_\_\_\_\_
5. Река \_\_\_\_\_

6. Река \_\_\_\_\_
7. Река \_\_\_\_\_
8. Остров \_\_\_\_\_
9. Хребет \_\_\_\_\_
10. Нагорье \_\_\_\_\_

## Контрольная работа по теме «ПК Дальнего Востока»

### II вариант

**1. В районе какого из перечисленных объектов выпадает наибольшее количество осадков?**

- а) Устье Амура; г) Пенжинская губа;  
б) мыс Дежнёва; д) озеро Ханка.  
в) мыс Лопатка;

**2. Какие из перечисленных морей не омывают территорию Дальнего Востока?**

- а) Баренцево; б) Берингово; в) Лаптевых; г) Охотское; д) Японское.

**3. На территории какого заповедника располагается Долина гейзеров?**

- а) Баргузинского; б) Ильменского; в) Кроноцкого; г) Тебердинского.

**4. Термин «Уссурийская тайга» является описанием природы:**

- а) всей территории Дальнего Востока; в) долины реки Усури;  
б) всей территории Приморья и г) полуострова Камчатка.  
Приамурья;

**5. Отметьте правильные высказывания словом «Да», неправильные - словом «Нет».**

1	В южной части Дальнего Востока преобладают горные сооружения мезозойского возраста	
2	Высшая точка Дальнего Востока является также высшей точкой нашей страны	
3	Для большинства рек Дальневосточного региона характерно летнее половодье, связанное с обильными дождями	
4	Большая часть Дальнего Востока занята лесными ландшафтами	
5	Около Курильских островов располагается самая глубокая океаническая впадина у берегов России — её глубина составляет более 9,5 км	
6	На Сахалине располагается несколько активно действующих вулканов	
7	Для природы Приморья характерно сочетание северных и южных видов животных и растений	
8	Пик муссонных дождей приходится на весенние месяцы	

**6. Определите, о каких объектах (людях) идет речь в предложениях:**

- а) Крупный полуостров на Дальнем Востоке.  
б) Французский мореплаватель XVIII века, именем которого назван пролив, отделяющий остров Сахалин от острова Хоккайдо.  
в) Мыс, являющийся крайней южной точкой полуострова Камчатка.  
г) Крупное озеро на юге Дальнего Востока.

**7. Укажите порядок расположения перечисленных географических объектов с севера на юг (табл. № 1) и с запада на восток (табл. № 2):**

А	Устье Камчатки	
Б	Пролив Лаперуза	
В	Татарский пролив	
Г	Озеро Ханка	
Д	Сихотэ-Алинь	
Е	Залив Шелихова	

А	Хребет Джугджур	
Б	Срединный хребет	
В	Курильские острова	
Г	Чукотское море	
Д	Остров Ратманова	
Е	Залив Терпения	

**8. Заполните пропуски в тексте:**

Максимум летних осадков на Дальнем Востоке приходится на 1) \_\_\_\_\_ половину лета. Со стороны южных морей приходят сильные разрушительные 2) \_\_\_\_\_, которые являются причиной сильных 3) \_\_\_\_\_, сопровождающихся 4) \_\_\_\_\_.

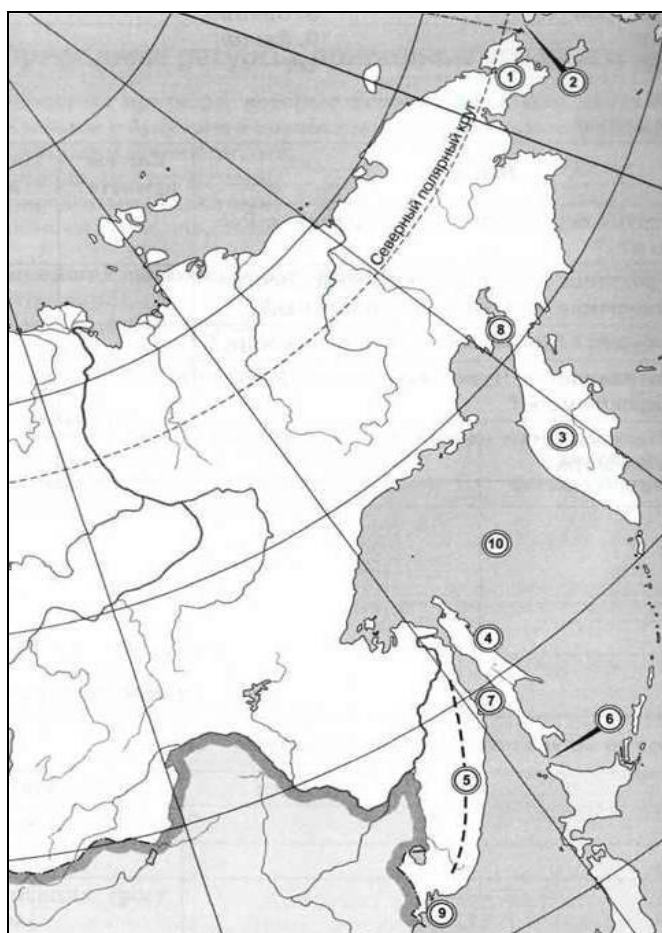
**9. Теоретический вопрос:**

- Почему зимы на Камчатке такие многоснежные?

**12. Как вы думаете:**

1	Курильские острова тянутся от полуострова Камчатка к Японским островам или к острову Сахалин?	
2	Какой из проливов находится южнее: Татарский или Лаперуза?	
3	Что расположено южнее: северная оконечность Сахалина или южная оконечность Камчатки?	
4	Какой хребет расположен севернее: Джугджур или Сихотэ-Алинь?	
5	Куда ближе от Владивостока — до Японских островов или до Сахалина?	
6	Залив Шелихова находится к востоку или к западу от полуострова Камчатка?	
7	Что расположено восточнее: хребет Джугджур или Сихотэ-Алинь?	
8	Какая равнина находится западнее: Восточно-Европейская или Западно-Сибирская?	
9	Колыма впадает в Чукотское или в Восточно-Сибирское море?	
10	Какое из морей расположено восточнее: Карское или Чукотское?	
11	Верховья Енисея находятся на Алтае или в Саянах?	
12	Уссури — правый или левый приток Амура?	

**10. Укажите названия географических объектов, обозначенных цифрами:**



- 1. Полуостров \_\_\_\_\_
- 2. Пролив \_\_\_\_\_
- 3. Полуостров \_\_\_\_\_
- 4. Остров \_\_\_\_\_
- 5. Хребет \_\_\_\_\_

- 6. Пролив \_\_\_\_\_
- 7. Пролив \_\_\_\_\_
- 8. Залив \_\_\_\_\_
- 9. Залив \_\_\_\_\_
- 10. Море \_\_\_\_\_

## Контрольная работа по теме «ПК Дальнего Востока»

### I вариант

**1. Самая высокая вершина Дальневосточного региона — это:**

- а) Ичинская сопка; б) Ключевская сопка; в) Кроноцкая сопка; г) гора Ледяная.

**2. Горы Дальнего Востока сформировались преимущественно в эпохи:**

- а) байкальской и каледонской складчатости; в) герцинской и мезозойской складчатости;  
б) каледонской и герцинской складчатости; г) мезозойской и альпийской складчатости.

**3. На каком из притоков Амура построена крупнейшая в Дальневосточном регионе ГЭС?**

- а) Аргунь; б) Буряя; в) Зея; г) Уссури.

**4. Какие из перечисленных архипелагов входят в территорию Дальнего Востока?**

- а) Земля Франца-Иосифа; г) Новосибирские острова;  
б) Командорские острова; д) Северная Земля.  
в) Курильские острова;

**5. Отметьте правильные высказывания словом «Да», неправильные - словом «Нет».**

1	Полуостров Камчатка и Курильские острова — единственный в стране район современного вулканизма	Да
2	На Дальнем Востоке нашей страны располагается самый высокий действующий вулкан на территории России и всего Северного полушария	Да
3	Дальний Восток — область муссонного климата, причём морские воздушные массы приходят со стороны Тихого океана	Да
4	Крупнейшее озеро региона располагается на крайнем севере Дальнего Востока	Нет
5	На Камчатке работает термальная электростанция, на которой электроэнергия получается за счёт подземного тепла	Да
6	Отличительной особенностью растительности Сахалина является проявляющийся у многих растений гигантизм	Да
7	Климат Приморья и Приамурья — муссонный	Да
8	Муссонные дожди приводят к сильным разливам рек и вызывают наводнения	Да

**6. Определите, о каких объектах (людях) идет речь в предложениях:**

- а) Город на Дальнем Востоке, расположенный у слияния Зеи и Амура (Благовещенск).  
б) Крупный остров на Дальнем Востоке, отделённый от материка Татарским проливом (Сахалин)  
в) Источник, периодически выбрасывающий струю воды и пара (гейзер).  
г) Крупный левый приток Амура (Зея).

**7. Укажите порядок расположения перечисленных географических объектов с севера на юг (табл. № 1) и с запада на восток (табл. № 2):**

А	Устье Амура	4
Б	Хребет Джугджур	2
В	Пенжинская губа	1
Г	Залив Петра Великого	6
Д	Сихотэ-Алинь	5
Е	Чукотское нагорье	1

А	Берингов пролив	6
Б	Ключевская сопка	4
В	Командорские острова	5
Г	Залив Петра Великого	2
Д	Остров Сахалин	3
Е	Татарский пролив	1

**8. Заполните пропуски в тексте:**

Климат Дальнего Востока определяется воздушными массами, которые в летний период поступают с 1) Тихого океана, а в зимний из области 2) Сибирского антициклона. Для южной части Дальнего Востока характерна 3) холодная сухая зима, в то время как 4) Камчатская часть региона — это самый снежный район нашей страны.

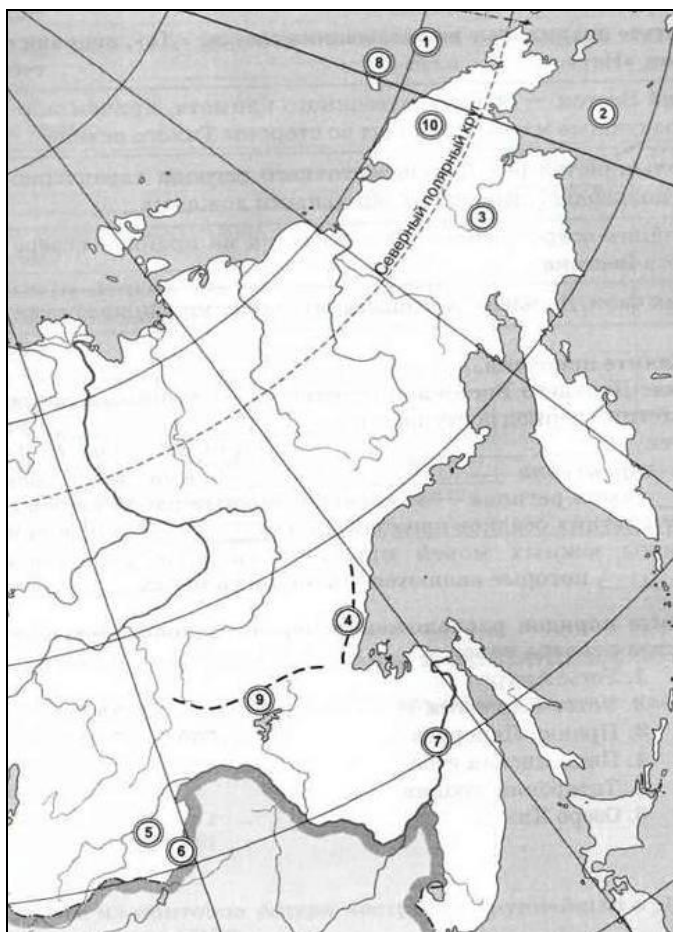
**9. Теоретический вопрос:**

- Почему на Дальнем Востоке активны вулканы? (стык разных литосферных плит)

**10. Как вы думаете:**

1	В какое море впадает Амур: в Охотское или в Японское?	
2	Какой объект имеет большую высоту над уровнем моря: устье Волги или устье Амура?	
3	Устье какой реки: Зеи или Буреи находится на большей высоте над уровнем моря?	
4	Что находится на одной долготе с островом Сахалин: остров Врангеля или Новосибирские острова?	
5	Командорские острова находятся в Охотском или в Беринговом море?	
6	Ключевская сопка находится на Срединном или на Становом хребте?	
7	Усури — правый или левый приток Амура?	
8	Какой из Курильских островов находится южнее: Парамушир или Итуруп?	
9	Река Усури берёт начало на территории России или нет?	
10	Амур впадает в Охотское или в Японское море?	
11	Город Магадан стоит на берегу Охотского или Японского моря?	
12	В каком направлении движется вода в Баренцевом море?	на восток

**11. Укажите названия географических объектов, обозначенных цифрами:**



1. Море Чукотское
2. Море Берингово
3. Река Анадырь
4. Хребет Джугджур
5. Река Шилка

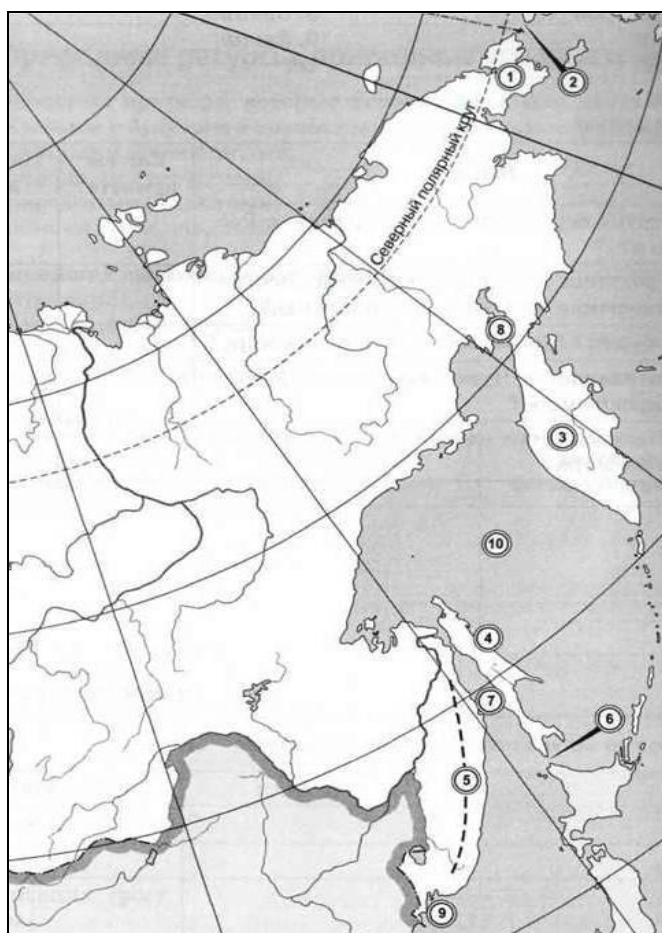
6. Река Аргунь
7. Река Амур
8. Остров Врангеля
9. Хребет Становой
10. Нагорье Чукотское



**10. Как вы думаете:**

1	Курильские острова тянутся от полуострова Камчатка к Японским островам или к острову Сахалин?	
2	Какой из проливов находится южнее: Татарский или Лаперуза?	
3	Что расположено южнее: северная оконечность Сахалина или южная оконечность Камчатки?	
4	Какой хребет расположен севернее: Джугджур или Сихотэ-Алинь?	
5	Куда ближе от Владивостока — до Японских островов или до Сахалина?	
6	Залив Шелихова находится к востоку или к западу от полуострова Камчатка?	
7	Что расположено восточнее: хребет Джугджур или Сихотэ-Алинь?	
8	Какая равнина находится западнее: Восточно-Европейская или Западно-Сибирская?	
9	Колыма впадает в Чукотское или в Восточно-Сибирское море?	
10	Какое из морей расположено восточнее: Карское или Чукотское?	
11	Верховья Енисея находятся на Алтае или в Саянах?	
12	Усури — правый или левый приток Амура?	

**11. Укажите названия географических объектов, обозначенных цифрами:**



1. Полуостров Чукотский
2. Пролив Берингов
3. Полуостров Камчатка
4. Остров Сахалин
5. Хребет Сихотэ-Алинь

6. Пролив Лаперуза
7. Пролив Татарский
8. Залив Пенжинская губа
9. Залив Петра Великого
10. Море Охотское



