

Контрольная работа по теме «Географическая оболочка - население»

I вариант

1. Найдите ошибку в перечне свойств географической оболочки.

а) зональность; б) неизменность; в) ритмичность; г) целостность.

2. Годовой ритм природных явлений наиболее четко выражен:

- а) в полярных широтах; в) в тропических широтах;
б) в умеренном поясе; г) на экваторе.

3. С появлением какого вида деятельности человечество перешло от присваивающего хозяйства к производящему?

а) охота; б) собирательство; в) сельское хозяйство; г) промышленность.

4. В 1972 г. был заключен международный договор о:

- а) Всемирном сохранении; в) Всемирном сбережении;
б) Всемирном наследии; г) Всемирной охране.

5. В какой строчке названы только крупнейшие страны мира?

- а) Россия, Канада, Великобритания; в) Россия, Китай, Франция;
б) Канада, США, Австралия; г) Россия, Канада, Мексика.

6. Отметьте правильные высказывания словом «Да», неправильные — словом «Нет».

1	Слово «ландшафт» в переводе означает «природный комплекс»	
2	Целостность географической оболочки возникает в результате взаимосвязей между ее компонентами	
3	Нижний высотный пояс всегда соответствует той природной зоне, в которой расположена данная горная система	
4	Главной природной зоной умеренного пояса является зона степей	
5	Человек современного типа появился примерно 40 тыс. лет назад	
6	Из всех материков позже других были заселены Южная Америка и Австралия	
7	Охота и собирательство являются элементами производящего хозяйства	
8	В настоящее время на Земле существует более 200 стран	
9	На Австралийском материке расположено ровно на одну страну больше, чем в Антарктиде	
10	Меньше все стран в части света «Америка»	

7. Проставьте номера указанных географических объектов от самого северного к самому южному.

1	Новая Зеландия		
2	Мадагаскар		
3	Карское море		
4	Желтое море		
5	Аравийский полуостров		
6	Балтийское море		
7	Альпы		

8. Установите соответствие «ритмы природы – явления природы»:

1) Суточные ритмы	2) Годовые ритмы

а) уборка урожая; б) восход солнца; в) роса; г) разлив рек; д) таяние снега; е) сон; ж) морской прилив; з) разлив рек.

9. В каких природных зонах расположены следующие географические объекты:

№ п/п	Объект	Природная зона
1	Озеро Эйр (Австралия)	
2	Озеро Танганьика (Африка)	
3	Река Амазонка (Южная Америка)	
4	Озеро Верхнее (Северная Америка)	

10. Заполните таблицу:

№ п/п	Время	Что случилось
1	1 млн. лет назад	
2	40 тыс. лет назад	

11. Заполните пропуски в тексте:

Территория, в пределах которой существует определенное закономерное сочетание взаимосвязанных компонентов, называется 1)_____. 2) _____ — целостная и непрерывная оболочка Земли, включающая нижнюю часть атмосферы, верхнюю часть литосферы, а также всю гидросферу и всю биосферу. Все виды природных богатств, которые человек использует в своей хозяйственной деятельности, называются 3)_____. Территории, измененные под воздействием хозяйственной деятельности человека – 4) _____.

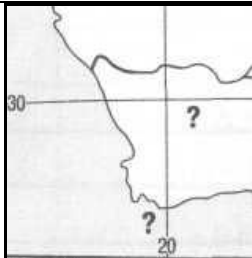
Охрана животных должна включать охрану 5)_____, в котором они обитают. С этой целью создаются 6)_____. К ним относят: 7)_____, 8)_____, 9)_____, 10)_____ и др. Отличаются они тем, насколько допускается присутствие человека на этих территориях. Наиболее сильно ограничена деятельность человека в 11)_____. А вот 12)_____ принимают туристов и отдыхающих. Правда, им приходится подчиняться строгим правилам поведения.

12. Как вы думаете:

1	Где находятся Кавказские горы — к востоку или к западу от Каспийского моря?	
2	Какая река ближе расположена к экватору: Амазонка или Нигер?	
3	Где находится Мексиканский залив — в Тихом океане или в Атлантическом?	
4	Сколько материков пересекает экватор: два или три?	
5	Река Лена расположена ближе к Тихому океану или Атлантическому?	
6	Остров Куба расположен в тропическом или субэкваториальном поясе?	
7	Остров Великобритания находится в умеренном или субарктическом поясе?	
8	В каком поясе расположена Гренландия — в арктическом или антарктическом?	
9	Мадагаскар находится в одном или в двух климатических поясах?	
10	Полуостров Индостан расположен в тропическом или субэкваториальном поясе?	
11	Австралия лежит в пределах двух или трех климатических поясов?	
12	Южная оконечность Африки расположена в тропическом или в субтропическом поясе?	
13	Где расположена Индия — в Северном или в Южном полушарии?	
14	Какая страна больше: Китай или Мексика?	
15	Полярный круг пересекает Северную Америку и Евразию или только Евразию?	

13. Сколько ошибок допущено в приведенном тексте? (_____)

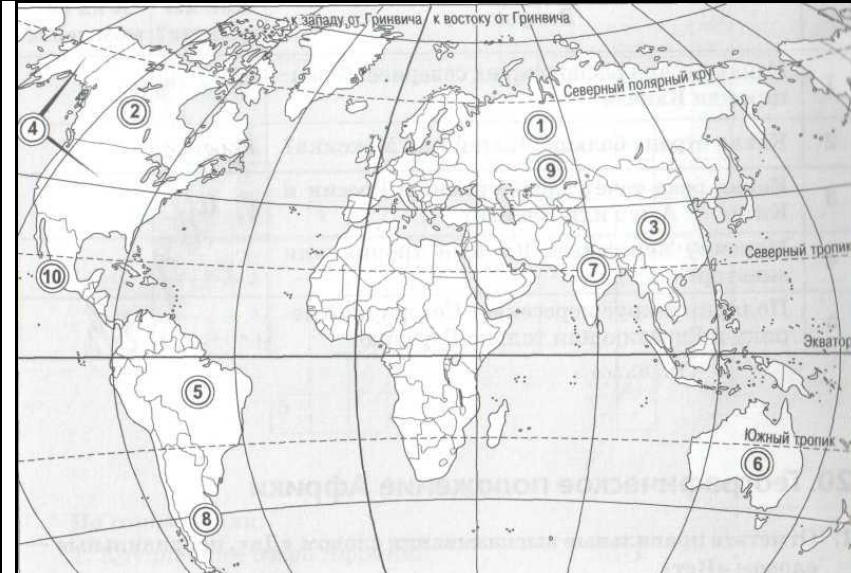
Как известно, климат обладает двумя важными характеристиками: температурой воздуха и количеством осадков. С температурными условиями связаны самые крупные из зональных природных комплексов, которые называются географическими зонами. Менее крупными зональными природными комплексами являются географические, или природные, пояса. Они выделяются в пределах географических зон в зависимости от условий увлажнения территорий. Существуют следующие географические пояса: экваториальный, субэкваториальный, тропический, субтропический, умеренный.

<p>14-1. Определите географические объекты, изображенные на фрагменте карты мира.</p>		<p><i>Материк:</i> _____</p> <p><i>Мыс:</i> _____</p>
--	---	---

14. Совершите воображаемое путешествие вокруг земного шара. Начните путь с западных берегов Южной Америки, следуйте на восток строго вдоль параллели 20° ю.ш. Определите, какие географические объекты встретятся вам на пути, заполните таблицу.

№ п/п	Объект	Название
1	Горы	
2	Низменность	
3	Плоскогорье	
4	Океан	
5	Материк	
6	Остров	
7	Океан	
8	Материк	
9	Пустыня	
10	Горы	
11	Море	
12	Океан	

15. На карте показаны крупнейшие по площади страны мира. Запишите их названия.

	<p>1 -</p> <p>2 -</p> <p>3 -</p> <p>4 -</p> <p>5 -</p> <p>6 -</p> <p>7 -</p> <p>8 -</p> <p>9 -</p> <p>10 -</p>
--	--

Контрольная работа по теме «Географическая оболочка - население»

II вариант

1. Какой подзоны нет в лесной зоне?

- а) карликовых лесов; в) широколиственных лесов;
б) смешанных лесов; г) хвойных лесов.

2. На каком материке появились предки современного человека?

- а) в Евразии; б) в Африке; в) в Северной Америке; г) в Австралии.

3. Численность населения Земли составляет:

- а) менее 3 млрд. человек; в) более 6 млн. человек;
б) менее 6 млрд. человек; г) более 6 млрд. человек.

4. Человек современного типа появился:

- а) 1 млн. лет назад; б) 500 тыс. лет назад; в) 120 тыс. лет назад; г) 40 тыс. лет назад.

5. Сколько основных рас выделяет большинство ученых?

- а) 2; б) 3; в) 6; г) 19.

6. Отметьте правильные высказывания словом «Да», неправильные — словом «Нет».

1	Целостность, ритмичность и зональность — важные свойства географической оболочки	
2	Природные ресурсы являются частью географической оболочки	
3	Компоненты природного комплекса подчиняются трем ритмам: суточному, месячному и годовому	
4	Перечень высотных поясов в горах полностью совпадает с перечнем природных зон на равнинах	
5	Географическая зональность является следствием шарообразности Земли	
6	Большинство ученых считает, что родиной человека является Азия	
7	Сельское хозяйство появилось и начало развиваться около 10 тыс. лет назад	
8	Большинство стран мира являются монархиями	
9	В прошлом Великобританию называли «империей, над которой никогда не заходит солнце»	
10	Политическая карта — это карта государств	

7. Проставьте номера указанных природных зон от экватора к полюсам.

1	Экваториальные леса		
2	Жестколистные леса		
3	Тайга		
4	Арктические пустыни		
5	Саванны		
6	Тропические пустыни		
7	Степи		
8	Тундры		
9	Смешанные и широколиственные леса		

8. Установите соответствие «регион Земли – национальный парк – природный объект»:

1) Австралия	2) Америка	3) Азия	4) Африка

- а) Серенгети; б) Йеллоустон; в) Большой Барьерный риф; г) Корбетт; д) Вирунга
и) саванна; II) морской парк; III) горилла; IV) гейзеры; V) бенгальский тигр.

9. В каких природных зонах расположены следующие географические объекты:

№ п/п	Объект	Природная зона
1	Остров Калимантан (Евразия)	
2	Новосибирские острова (Евразия)	
3	Полуостров Калифорния (Северная Америка)	
4	Город Кейптаун (Африка)	

10. Заполните таблицу:

№ п/п	Время	Что случилось
1	10 тыс. лет назад	
2	300 лет назад	

11. Заполните пропуски в тексте:

Закон географической зональности был сформулирован 1)_____. Безлесные пространства, расположенные к северу и югу от экватора в субэкваториальном поясе, называются 2)_____. На юге лесной зоны располагается подзона 3)_____, а на севере — подзона 4)_____. Самый крупный наземный хищник планеты — 5) _____, который обитает в зоне 6)_____; водный — 7) _____.


Охраняемые природные территории, которые принимают туристов и отдыхающих, называются 8)_____. Природная территория, полностью исключенная из хозяйственной деятельности, называется 9)_____. Природные комплексы и объекты, которые полностью или частично исключены из хозяйственного использования, называются 10)_____. Охраняемая территория с эталонными ландшафтами и типичными представителями флоры и фауны данной природной зоны называется 11)_____.

12. Как вы думаете:

1	Северный тропик пересекает Мексиканский залив или Карибское море?	
2	Где расположен Марианский желоб — в восточной или в западной части Тихого океана?	
3	Охотское море находится к востоку или к западу от полуострова Камчатка?	
4	В каком полушарии — Северном или Южном — лежит остров Врангеля?	
5	Пиренейский полуостров находится в тропическом или субтропическом поясе?	
6	Куда впадает Волга — в Каспийское или в Черное море?	
7	Индийский океан омывает Австралию с востока или с запада?	
8	В каком поясе находится озеро Виктория — в экваториальном или в субэкваториальном?	
9	Государство Пакистан расположено в Африке или в Евразии?	
10	Сколько материков пересекает начальный меридиан?	
11	Красное море и Персидский залив расположены в одном климатическом поясе или в разных?	
12	Австралию пересекает Южный тропик или экватор?	
13	Какая страна расположена севернее: Франция или Канада?	
14	Какая река течет вдоль границы России и Китая — Амур или Енисей?	
15	Мексику пересекает Северный тропик или экватор?	

13. Сколько ошибок допущено в приведенном тексте? (_____)

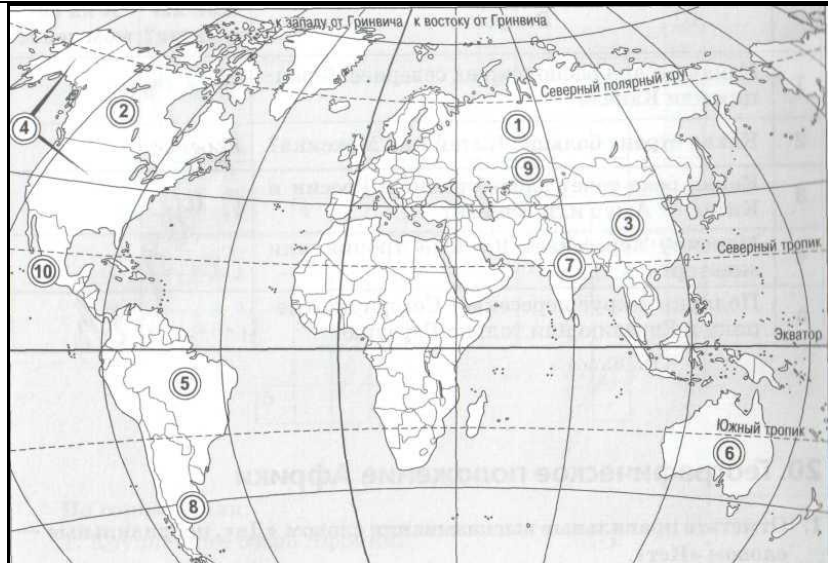
С глубокой древности существуют две формы правления: монархия и республика. В монархиях вся власть принадлежит одному человеку — монарху, который получает ее в результате проводимых в стране выборов. Большинство монархий находится в Африке. А вот в Европе и Америке их нет ни одной. В республиках власть принадлежит народу страны. Это значит, что все жители страны управляют ею, поэтому никаких дополнительных выборов проводить не нужно. Большинство стран мира являются республиками. К этому виду стран относится и Россия.

<p>14-1. Определите географические объекты, изображенные на фрагменте карты мира.</p>		<p><i>Залив:</i> _____</p> <p><i>Полуостров:</i> _____</p>
--	---	--

14. Совершите воображаемое путешествие вокруг земного шара. Начните путь с западных берегов Южной Америки, следуйте на восток строго вдоль параллели 40° с.ш. Определите, какие географические объекты встретятся вам на пути, заполните таблицу.

№ п/п	Объект	Название
1	Горы	
2	Река	
3	Горы	
4	Океан	
5	Полуостров	
6	Море	
7	Полуостров	
8	Море	
9	Горы	
10	Пустыня	
11	Море	
12	Океан	

15. На карте показаны крупнейшие по площади страны мира. Запишите их названия.

	<p>1 -</p> <p>2 -</p> <p>3 -</p> <p>4 -</p> <p>5 -</p> <p>6 -</p> <p>7 -</p> <p>8 -</p> <p>9 -</p> <p>10 -</p>
--	--

Контрольная работа по теме «Географическая оболочка - население»

I вариант

1. Найдите ошибку в перечне свойств географической оболочки.

а) зональность; **б) неизменность**; в) ритмичность; г) целостность.

2. Годовой ритм природных явлений наиболее четко выражен:

а) в полярных широтах; в) в тропических широтах;
б) в умеренном поясе; г) на экваторе.

3. С появлением какого вида деятельности человечество перешло от присваивающего хозяйства к производящему?

а) охота; б) собирательство; **в) сельское хозяйство**; г) промышленность.

4. В 1972 г. был заключен международный договор о:

а) Всемирном сохранении; в) Всемирном сбережении;
б) Всемирном наследии; г) Всемирной охране.

5. В какой строчке названы только крупнейшие страны мира?

а) Россия, Канада, Великобритания; в) Россия, Китай, Франция;
б) Канада, США, Австралия; г) Россия, Канада, Мексика.

6. Отметьте правильные высказывания словом «Да», неправильные — словом «Нет».

1	Слово «ландшафт» в переводе означает «природный комплекс»	да
2	Целостность географической оболочки возникает в результате взаимосвязей между ее компонентами	да
3	Нижний высотный пояс всегда соответствует той природной зоне, в которой расположена данная горная система	да
4	Главной природной зоной умеренного пояса является зона степей	нет
5	Человек современного типа появился примерно 40 тыс. лет назад	да
6	Из всех материков позже других были заселены Южная Америка и Австралия	да
7	Охота и собирательство являются элементами производящего хозяйства	нет
8	В настоящее время на Земле существует более 200 стран	да
9	На Австралийском материке расположено ровно на одну страну больше, чем в Антарктиде	да
10	Меньше все стран в части света «Америка»	нет

7. Проставьте номера указанных географических объектов от самого северного к самому южному.

1	Новая Зеландия	7	3 – 6 – 7 – 4 – 5 – 2 – 1
2	Мадагаскар	6	
3	Карское море	1	
4	Желтое море	4	
5	Аравийский полуостров	5	
6	Балтийское море	2	
7	Альпы	3	

8. Установите соответствие «ритмы природы – явления природы»:

1) Суточные ритмы	2) Годовые ритмы
б, в, е, ж	а, г, д, з

а) уборка урожая; б) восход солнца; в) роса; г) разлив рек; д) таяние снега; е) сон; ж) морской прилив; з) разлив рек.

9. В каких природных зонах расположены следующие географические объекты:

№ п/п	Объект	Природная зона
1	Озеро Эйр (Австралия)	пустыня
2	Озеро Танганьика (Африка)	саванна
3	Река Амазонка (Южная Америка)	вл. экв. леса
4	Озеро Верхнее (Северная Америка)	см. и шир. леса

10. Заполните таблицу:

№ п/п	Время	Что случилось
1	1 млн. лет назад	Появились первые разумные существа
2	40 тыс. лет назад	Появился человек современного типа

11. Заполните пропуски в тексте:

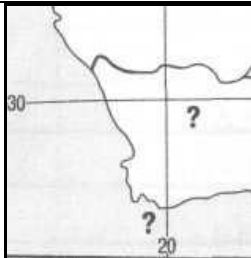
Территория, в пределах которой существует определенное закономерное сочетание взаимосвязанных компонентов, называется 1)ПК (ландшафтом). 2) Географическая оболочка (геосфера) — целостная и непрерывная оболочка Земли, включающая нижнюю часть атмосферы, верхнюю часть литосферы, а также всю гидросферу и всю биосферу. Все виды природных богатств, которые человек использует в своей хозяйственной деятельности, называются 3)природными ресурсами. Территории, измененные под воздействием хозяйственной деятельности человека — 4) антропогенные комплексы. Охрана животных должна включать охрану 5)его ПК, в котором они обитают. С этой целью создаются 6)охраняемые природные территории. К ним относят: 7)заповедники, 8)заказники, 9)национальные парки, 10)памятники природы и др. Отличаются они тем, насколько допускается присутствие человека на этих территориях. Наиболее сильно ограничена деятельность человека в 11)заповедниках. А вот 12)национальные парки принимают туристов и отдыхающих. Правда, им приходится подчиняться строгим правилам поведения.

12. Как вы думаете:

1	Где находятся Кавказские горы — к востоку или к западу от Каспийского моря?	западу
2	Какая река ближе расположена к экватору: Амазонка или Нигер?	Амазонка
3	Где находится Мексиканский залив — в Тихом океане или в Атлантическом?	Атлантическом
4	Сколько материков пересекает экватор: два или три?	два
5	Река Лена расположена ближе к Тихому океану или Атлантическому?	Тихому
6	Остров Куба расположен в тропическом или субэкваториальном поясе?	тропическом
7	Остров Великобритания находится в умеренном или субарктическом поясе?	умеренном
8	В каком поясе расположена Гренландия — в арктическом или антарктическом?	арктическом
9	Мадагаскар находится в одном или в двух климатических поясах?	двух
10	Полуостров Индостан расположен в тропическом или субэкваториальном поясе?	субэкваториальном
11	Австралия лежит в пределах двух или трех климатических поясов?	трех
12	Южная оконечность Африки расположена в тропическом или в субтропическом поясе?	субтропическом
13	Где расположена Индия — в Северном или в Южном полушарии?	Северном
14	Какая страна больше: Китай или Мексика?	Китай
15	Полярный круг пересекает Северную Америку и Евразию или только Евразию?	Северную Америку и Евразию

13. Сколько ошибок допущено в приведенном тексте? (3 ошибки)

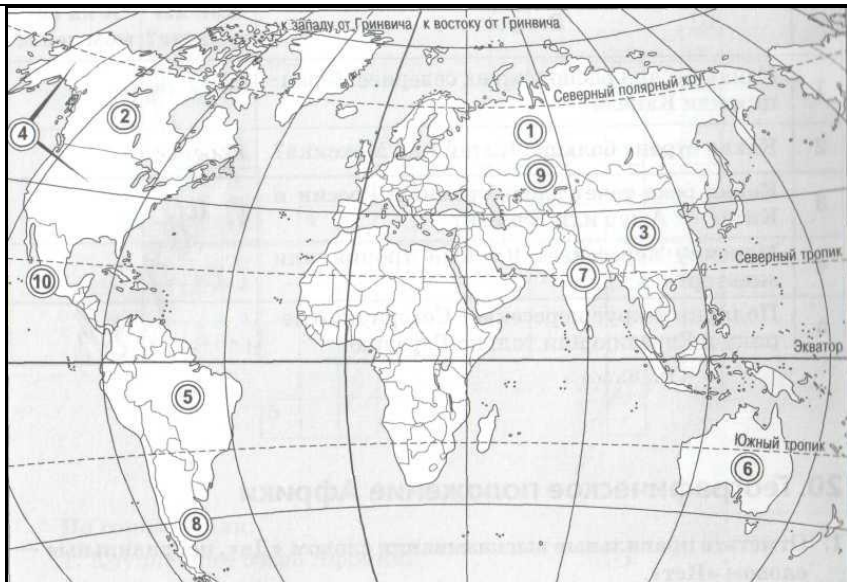
Как известно, климат обладает двумя важными характеристиками: температурой воздуха и количеством осадков. С температурными условиями связаны самые крупные из зональных природных комплексов, которые называются географическими **зонами**. Менее крупными зональными природными комплексами являются географические, или природные, **пояса**. Они выделяются в пределах географических **зон** в зависимости от условий увлажнения территорий. Существуют следующие географические пояса: экваториальный, субэкваториальный, тропический, субтропический, умеренный.

<p>14-1. Определите географические объекты, изображенные на фрагменте карты мира.</p>		<p><u>Материк:</u> Африка</p> <p><u>Мыс:</u> Игольный</p>
--	---	---

14. Совершите воображаемое путешествие вокруг земного шара. Начните путь с западных берегов Южной Америки, следуйте на восток строго вдоль параллели 20° ю.ш. Определите, какие географические объекты встретятся вам на пути, заполните таблицу.

№ п/п	Объект	Название
1	Горы	Анды
2	Низменность	Ла-Платская
3	Плоскогорье	Бразильское
4	Океан	Атлантический
5	Материк	Африка
6	Остров	Мадагаскар
7	Океан	Индийский
8	Материк	Австралия
9	Пустыня	Большая песчаная
10	Горы	Большой Водораздельный хребет
11	Море	Коралловое
12	Океан	Тихий

15. На карте показаны крупнейшие по площади страны мира. Запишите их названия.

	<ol style="list-style-type: none"> 1 - Россия 2 - Канада 3 - Китай 4 - США 5 - Бразилия 6 - Австралия 7 - Индия 8 - Аргентина 9 - Казахстан 10 - Мексика
--	--

9. В каких природных зонах расположены следующие географические объекты:

№ п/п	Объект	Природная зона
1	Остров Калимантан (Евразия)	вл. экв. леса
2	Новосибирские острова (Евразия)	арктич. пуст.
3	Полуостров Калифорния (Северная Америка)	пустыни
4	Город Кейптаун (Африка)	жестколис. леса

10. Заполните таблицу:

№ п/п	Время	Что случилось
1	10 тыс. лет назад	Переход к производящему хозяйству
2	300 лет назад	Началось развитие промышленности

11. Заполните пропуски в тексте:

Закон географической зональности был сформулирован 1) В.В. Докучаевым. Безлесные пространства, расположенные к северу и югу от экватора в субэкваториальном поясе, называются 2) саванны. На юге лесной зоны располагается подзона 3) лесостепей, а на севере — подзона 4) лесотундры. Самый крупный наземный хищник планеты — 5) белый медведь, который обитает в зоне 6) арктических пустынь; водный — 7) зубатый кит-кашалот.


Охраняемые природные территории, которые принимают туристов и отдыхающих, называются 8) национальными парками. Природная территория, полностью исключенная из хозяйственной деятельности, называется 9) заповедником. Природные комплексы и объекты, которые полностью или частично исключены из хозяйственного использования, называются 10) заказниками. Охраняемая территория с эталонными ландшафтами и типичными представителями флоры и фауны данной природной зоны называется 11) биосферным заповедником.

12. Как вы думаете:

1	Северный тропик пересекает Мексиканский залив или Карибское море?	Мексиканский
2	Где расположен Марианский желоб — в восточной или в западной части Тихого океана?	западной
3	Охотское море находится к востоку или к западу от полуострова Камчатка?	западу
4	В каком полушарии — Северном или Южном — лежит остров Врангеля?	Северном
5	Пиренейский полуостров находится в тропическом или субтропическом поясе?	субтропическом
6	Куда впадает Волга — в Каспийское или в Черное море?	Каспийское
7	Индийский океан омывает Австралию с востока или с запада?	запада
8	В каком поясе находится озеро Виктория — в экваториальном или в субэкваториальном?	субэкваториальном
9	Государство Пакистан расположено в Африке или в Евразии?	Евразии
10	Сколько материков пересекает начальный меридиан?	три
11	Красное море и Персидский залив расположены в одном климатическом поясе или в разных?	одном
12	Австралию пересекает Южный тропик или экватор?	Южный тропик
13	Какая страна расположена севернее: Франция или Канада?	Канада
14	Какая река течет вдоль границы России и Китая — Амур или Енисей?	Амур
15	Мексику пересекает Северный тропик или экватор?	Северный

13. Сколько ошибок допущено в приведенном тексте? (5 ошибок)

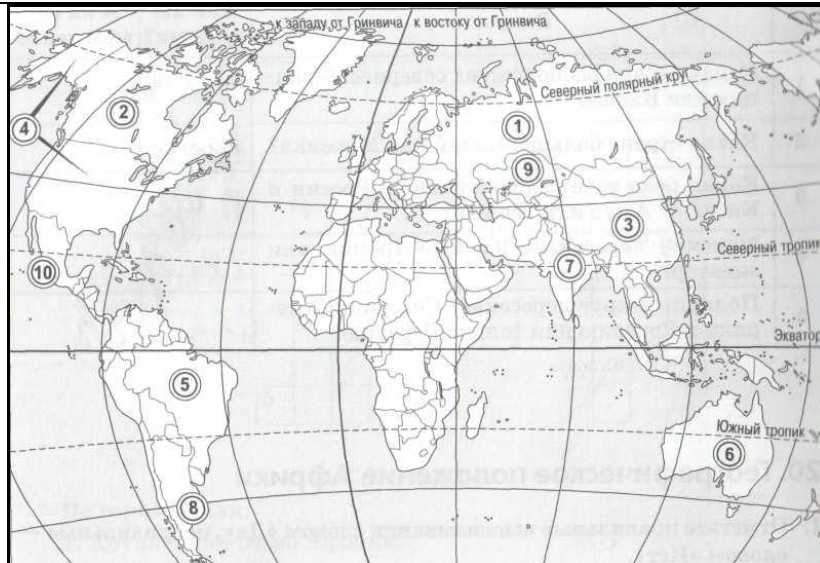
С глубокой древности существуют две формы правления: монархия и республика. В монархиях вся власть принадлежит одному человеку — монарху, который получает ее в результате проводимых в стране выборов. Большинство монархий находится в Африке. А вот в Европе и Америке их нет ни одной. В республиках власть принадлежит народу страны. Это значит, что все жители страны управляют ею, поэтому никаких дополнительных выборов проводить не нужно. Большинство стран мира являются республиками. К этому виду стран относится и Россия.

<p>14-1. Определите географические объекты, изображенные на фрагменте карты мира.</p>		<p><i>Залив:</i> Персидский</p> <p><i>Полуостров:</i> Аравийский</p>
--	---	--

14. Совершите воображаемое путешествие вокруг земного шара. Начните путь с западных берегов Южной Америки, следуйте на восток строго вдоль параллели 40° с.ш. Определите, какие географические объекты встретятся вам на пути, заполните таблицу.

№ п/п	Объект	Название
1	Горы	Кордильеры
2	Река	Миссури
3	Горы	Аппалачи
4	Океан	Атлантический
5	Полуостров	Пиренейский
6	Море	Средиземное
7	Полуостров	Малая Азия
8	Море	Каспийское
9	Горы	Тянь-Шань
10	Пустыня	Гоби
11	Море	Японское
12	Океан	Тихий

15. На карте показаны крупнейшие по площади страны мира. Запишите их названия.

	<ol style="list-style-type: none"> 1 - Россия 2 - Канада 3 - Китай 4 - США 5 - Бразилия 6 - Австралия 7 - Индия 8 - Аргентина 9 - Казахстан 10 - Мексика
--	--