

Контрольная работа по теме «Географическое положение и история исследования»

I вариант

1. Сколько часовых поясов на территории России?

- а) 9; б) 10; в) 11; г) 12; д) 13.

2. Какой из перечисленных городов стал в конце XVI в. «столицей Сибири»?

- а) Иркутск; б) Тобольск; в) Тюмень; г) Якутск.

3. Что явилось главным результатом Великой Северной экспедиции?

- а) достижение Северного полюса; в) присоединение к России территории Сибири и Дальнего Востока;
б) изучение и картирование побережья Северного Ледовитого океана; г) открытие архипелага Новая Земля.

4. Кто из перечисленных путешественников не имел отношения к исследованию российского сектора Арктики в XX в.?

- а) Георгий Брусилов; в) Дмитрий Овцын; д) Роберт Скотт;
б) Владимир Русанов; г) Борис Вилькицкий; е) Джордж Де-Лонг.

5. Отметьте правильные высказывания словом «Да», неправильные - словом «Нет».

1	На суше Россия граничит с 14 странами	
2	Территория Арктики поделена на пять секторов: российский, канадский, американский, норвежский и шведский	
3	Декретное время было введено в России в 1917 г.	
4	Впервые переход на летнее время был осуществлён в 1978г.	
5	Крайняя восточная точка России находится в тринадцатом часовом поясе	
6	Струги — это большие парусно-вёсельные лодки	
7	Острог — это небольшая крепость	
8	Михаил Ломоносов первым сформулировал закон географической зональности	
9	Академические экспедиции 1768—1774 гг. занимались главным образом исследованиями новых, ещё не изученных и не населённых территорий страны	
10	Эрик Норденшельд впервые в истории прошёл Северным морским путём от Архангельска до Берингова пролива	
11	Восточную оконечность Евразии мысом Дежнёва назвал Фритьоф Нансен	

6. Определите соответствие между путешественником и районом, в котором проходила его экспедиция:

а) Камчатка	б) Амур	в) Берингов пролив	г) Берег Тихого океана

- 1) Иван Москвитин; 2) Семён Дежнёв; 3) Ерофей Хабаров; 4) Владимир Атласов

7. Назовите страны, являющиеся сухопутными соседями России: _____

8. Укажите порядок расположения данных географических объектов с запада на восток:

А	Остров Вайгач	
Б	Соловецкие острова	
В	Остров Колгуев	
Г	Устье Северной Двины	
Д	Полуостров Канин	
Е	Устье Печоры	

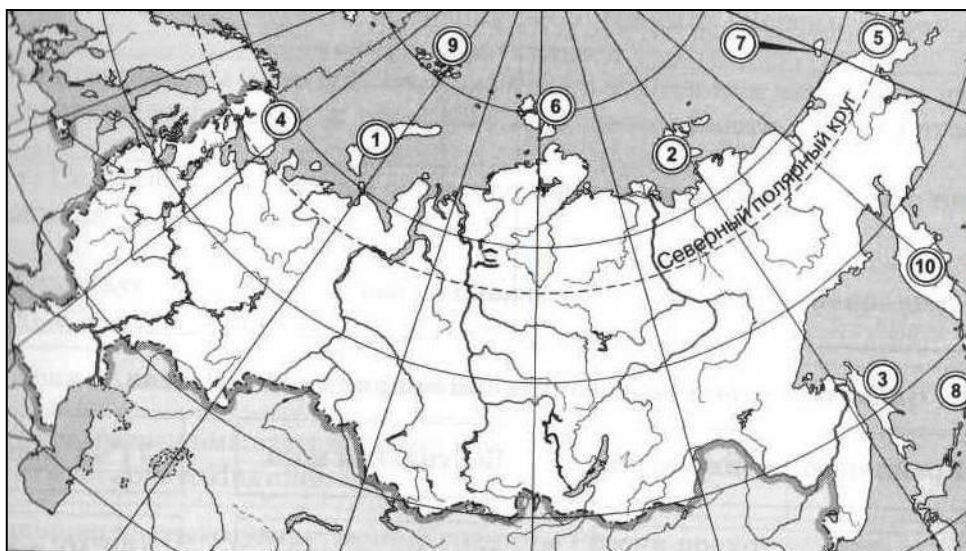
9. Заполните пропуски в предложениях:

1) _____ — условная линия на поверхности суши или воды, определяющая размеры территории государства, отделяющая эту территорию от территории других государств и открытых морей. Самую протяжённую сухопутную границу Россия имеет с 2) _____, а самую короткую — с 3) _____. Компоненты природы, которые используются или могут быть использованы человеком в хозяйственной деятельности, называются 4) _____. Свойства окружающей среды, влияющие на жизнь человека, называются 5) _____.

10. Как вы думаете:

1	Какое из морей расположено восточнее: Баренцево или Берингово?	
2	Мыс Челюскин находится на полуострове Чукотка или Таймыр?	
3	Кавказские горы тянутся параллельно или перпендикулярно Уральским горам?	
4	Какое из морей расположено севернее: Охотское или Баренцево?	
5	Какое море больше: Охотское или Чёрное?	
6	Где находится Среднерусская возвышенность: на крайнем западе России или в её центральной части?	
7	Где находится мыс Дежнёва: на полуострове Таймыр или на Чукотке?	
8	Ангара — приток Лены или Енисея?	
9	Верхоянский хребет находится на правом или на левом берегу Лены?	
10	Какое из морей расположено южнее: Азовское или Чёрное?	
11	Какой город находится на берегу Финского залива: Санкт-Петербург или Петрозаводск?	
12	Где находится Срединный хребет: на полуострове Камчатка или на Среднесибирском плоскогорье?	

11. Укажите названия географических объектов, обозначенных цифрами:



1. Острова
2. Острова
3. Остров
4. Полуостров
5. Полуостров
6. Острова
7. Остров
8. Острова
9. Острова
10. Полуостров

12. Теоретический вопрос:

Северная Земля стала крупнейшим географическим объектом, открытым в XX веке. А какой был крупнейшим в XIX веке? Кто и когда совершил данное открытие. Что Вам о нем известно?

Контрольная работа по теме «Географическое положение и история исследования»

II вариант

1. Какие из перечисленных природных объектов располагаются в VIII часовом поясе?

- а) Низовья Амура; г) Северная Земля;
б) Новосибирские острова; д) устье Лены;
в) озеро Байкал; е) Центрально-Якутская равнина.

2. В устье какой реки располагалась колония Мангазея?

- а) Северная Двина; б) Таз; в) Енисей; г) Обь.

3. Кто из перечисленных людей был участником Великой Северной экспедиции?

- а) Михаил Ломоносов г) Семён Дежнёв ж) Семён Челюскин
б) Витус Беринг д) Мария Прончищева з) Владимир Татищев
в) Дмитрий Овцын е) Братья Лаптевы

4. Первым мореплавателем, преодолевшим Северо-Восточный проход, был:

- а) Георгий Седов; б) Фритьоф Нансен; в) Эрик Норденшельд; г) Семен Дежнев.

5. Отметьте правильные высказывания словом «Да», неправильные - словом «Нет».

1	Берега России омывают воды трёх океанов: Тихого, Атлантического и Индийского	
2	Большая часть государственной границы России проходит по морю	
3	Крайняя северная материковая точка России одновременно является крайней северной точкой Евразии	
4	Крайняя западная точка России находится во втором часовом поясе	
5	Границы часовых поясов проходят строго по меридианам	
6	Поморы — это напоминающие чаек морские птицы, широко распространённые в районе побережья Белого моря	
7	Одним из основных товаров, вывозимых из Мангазеи, являлась пушнина	
8	Первоначально Великая Северная экспедиция называлась Второй Камчатской	
9	Витус Беринг во время Первой Камчатской экспедиции первым прошёл морем между Северной Америкой и Евразией	
10	Архипелаг Новая Земля был обнаружен экспедицией Бориса Вилькицкого	
11	Впервые Северный морской путь за одну навигацию преодолели экспедиция на ледоколе «Сибиряков» под руководством Отто Шмидта	

6. Определите соответствие между событиями и личностями:

Основатель Русского географического общества	1		а	Иван Крузенштерн и Юрий Лисянский
Первая российская кругосветная экспедиция	2		б	Владимир Татищев
Закон географической зональности	3		в	Фердинанд Врангель
Открытие Антарктиды	4		г	Василий Докучаев
Первое географическое описание территории России	5		д	Фаддей Беллинсгаузен и Михаил Лазарев
«Могущество российское прирастать будет Сибирью»	6		е	Михаил Ломоносов

7. Назовите все крайние точки России:

8. Укажите порядок расположения данных географических объектов с запада на восток:

А	Берингов пролив	
Б	Мыс Челюскин	
В	Остров Колгуев	
Г	Устье Лены	
Д	Гыданский полуостров	
Е	Хребет Черского	

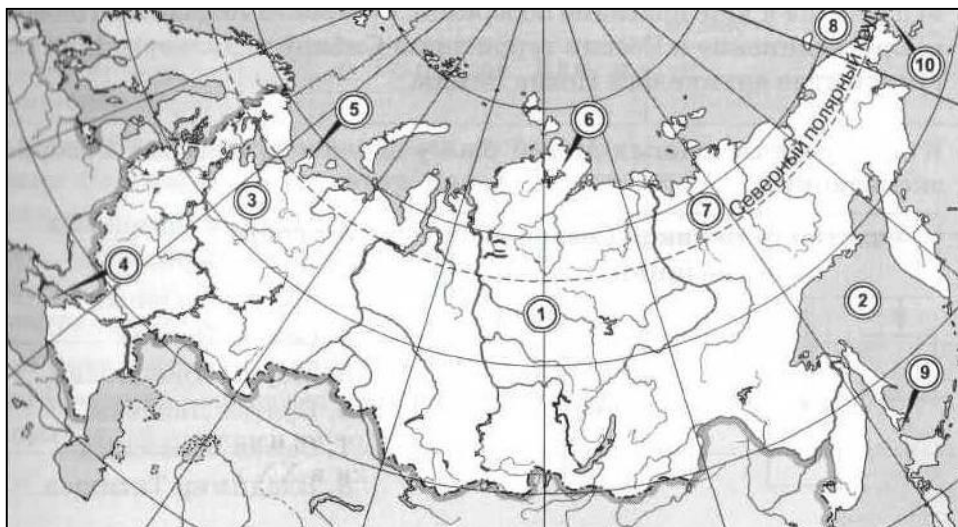
9. Заполните пропуски в предложениях:

Время на меридиане данной местности называется 1) _____. Ограниченная двумя меридианами часть земного шара, шириной 15°, в пределах которой время суток одинаково, называется 2) _____. В Санкт-Петербурге 4 часа дня, а на Камчатке 3) _____. Протяжённость территории России с запада на восток составляет примерно 4) _____ км, что в градусной мере примерно соответствует 5) _____.

10. Как вы думаете:

1	Залив Шелихова находится в Охотском море или в Беринговом?	
2	Вилюй — правый или левый приток Лены?	
3	Какой хребет расположен восточнее: Джугджур или Черского?	
4	На каком полуострове находятся горы Бырранга: на Таймыре или на Чукотке?	
5	Нижняя Тунгуска — приток Оби или Енисея?	
6	Лена впадает в море Лаптевых или в Восточно-Сибирское море?	
7	Куда впадает Амур: в Охотское или в Японское море?	
8	В бассейне какого океана находится Иркутск: Северного Ледовитого или Атлантического?	
9	Какое из морей расположено западнее: Карское или Чукотское?	
10	Усури — это правый или левый приток Амура?	
11	У берегов Байкала лежит Становое нагорье или Становой хребет?	
12	Какое озеро расположено восточнее — Ладожское или Онежское?	

11. Укажите названия географических объектов, обозначенных цифрами:



1. Река
2. Море
3. Река
4. Пролив
5. Полуостров
6. Озеро
7. Река
8. Море
9. Пролив
10. Пролив

13. Теоретический вопрос: Какие товары были на рынке в Мангазее? Как ее называли? Откуда приплывали сюда купцы?

Контрольная работа по теме «Географическое положение и история исследования»

I вариант

1. Сколько часовых поясов на территории России?

- а) 9; б) 10; в) 11; г) 12; д) 13.

2. Какой из перечисленных городов стал в конце XVI в. «столицей Сибири»?

- а) Иркутск; б) Тобольск; в) Тюмень; г) Якутск.

3. Что явилось главным результатом Великой Северной экспедиции?

- а) достижение Северного полюса; в) присоединение к России территории Сибири и Дальнего Востока;
б) изучение и картирование побережья Северного Ледовитого океана; г) открытие архипелага Новая Земля.

4. Кто из перечисленных путешественников не имел отношения к исследованию российского сектора Арктики в XX в.?

- а) Георгий Брусилов; в) Дмитрий Овцын; д) Роберт Скотт;
б) Владимир Русанов; г) Борис Вилькицкий; е) Джордж Де-Лонг.

5. Отметьте правильные высказывания словом «Да», неправильные - словом «Нет».

1	На суше Россия граничит с 14 странами	нет
2	Территория Арктики поделена на пять секторов: российский, канадский, американский, норвежский и шведский	нет
3	Декретное время было введено в России в 1917 г.	нет
4	Впервые переход на летнее время был осуществлён в 1978г.	да
5	Крайняя восточная точка России находится в тринадцатом часовом поясе	нет
6	Струги — это большие парусно-вёсельные лодки	да
7	Острог — это небольшая крепость	да
8	Михаил Ломоносов первым сформулировал закон географической зональности	нет
9	Академические экспедиции 1768—1774 гг. занимались главным образом исследованиями новых, ещё не изученных и не населённых территорий страны	нет
10	Эрик Норденшельд впервые в истории прошёл Северным морским путём от Архангельска до Берингова пролива	да
11	Восточную оконечность Евразии мысом Дежнёва назвал Фритъоф Нансен	ytn

6. Определите соответствие между путешественником и районом, в котором проходила его экспедиция:

а) Камчатка	б) Амур	в) Берингов пролив	г) Берег Тихого океана
4	3	2	1

- 1) Иван Москвитин; 2) Семён Дежнёв; 3) Ерофей Хабаров; 4) Владимир Атласов

7. Назовите страны, являющиеся сухопутными соседями России: Норвегия, Финляндия, Эстония, Латвия, Литва, Польша, Белоруссия, Украина, Абхазия, Грузия, Южная Осетия, Азербайджан, Казахстан, Китай, Монголия, КНДР.

8. Укажите порядок расположения данных географических объектов с запада на восток:

А	Остров Вайгач	6
Б	Соловецкие острова	1
В	Остров Колгуев	4
Г	Устье Северной Двины	2
Д	Полуостров Канин	3
Е	Устье Печоры	5

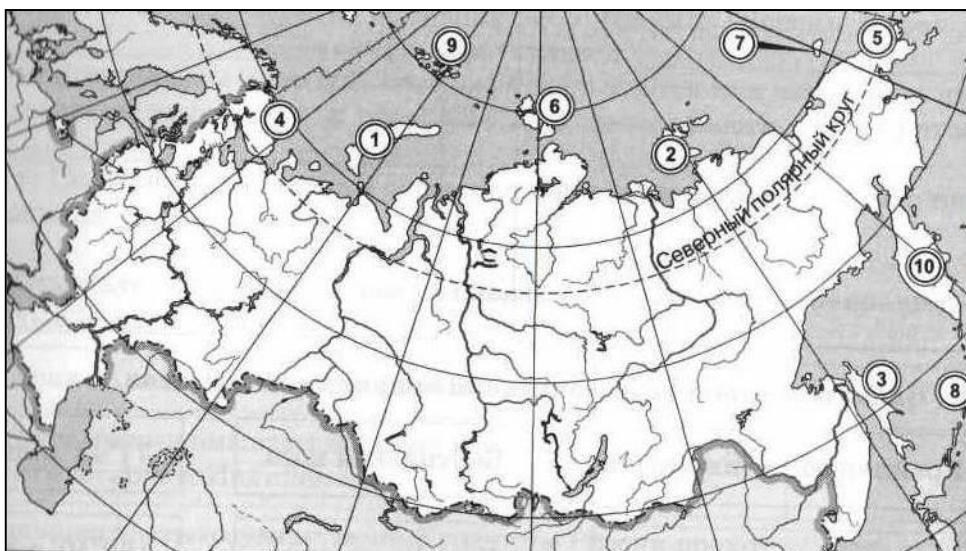
9. Заполните пропуски в предложениях:

1) **Государственная граница** — условная линия на поверхности суши или воды, определяющая размеры территории государства, отделяющая эту территорию от территории других государств и открытых морей. Самую протяжённую сухопутную границу Россия имеет с 2) **Казахстаном**, а самую короткую — с 3) **КНДР**. Компоненты природы, которые используются или могут быть использованы человеком в хозяйственной деятельности, называются 4) **природные ресурсы**. Свойства окружающей среды, влияющие на жизнь человека, называются 5) **природные условия**.

10. Как вы думаете:

1	Какое из морей расположено восточнее: Баренцево или Берингово ?	
2	Мыс Челюскин находится на полуострове Чукотка или Таймыр ?	
3	Кавказские горы тянутся параллельно или перпендикулярно Уральским горам?	
4	Какое из морей расположено севернее: Охотское или Баренцево ?	
5	Какое море больше: Охотское или Чёрное?	
6	Где находится Среднерусская возвышенность: на крайнем западе России или в её центральной части?	
7	Где находится мыс Дежнёва: на полуострове Таймыр или на Чукотке ?	
8	Ангара — приток Лены или Енисея ?	
9	Верхоянский хребет находится на правом или на левом берегу Лены?	
10	Какое из морей расположено южнее: Азовское или Чёрное ?	
11	Какой город находится на берегу Финского залива: Санкт-Петербург или Петрозаводск?	
12	Где находится Срединный хребет: на полуострове Камчатка или на Среднесибирском плоскогорье?	

11. Укажите названия географических объектов, обозначенных цифрами:



1. О-ва **Нов. Земля**
2. Острова **Новосибирские**
3. О-в **Сахалин**
4. П-ов **Кольский**
5. П-ов **Чукотский**
6. О-ва **Сев. Земля**
7. О-ов **Врангеля**
8. Острова **Курильские**
9. О-ва **Земля Франца Иосифа**
10. П-ов **Камчатка**

12. Теоретический вопрос:

Северная Земля стала крупнейшим географическим объектом, открытым в XX веке. А какой был крупнейшим в XIX веке? Кто и когда совершил данное открытие. Что Вам о нем известно?

Материк Антарктида, 28 января 1820 русской экспедицией Ф. Ф. Беллингаузена которая на двух судах («Восток», под командованием Беллингаузена, и «Мирный» — М. П. Лазарева) прошла вдоль тихоокеанского побережья, открыв острова Петра I, Шишкова, Мордвинова, Землю Александра I и уточнив координаты некоторых ранее обнаруженных островов. Беллингаузен шесть раз пересек Южный полярный круг, доказав возможность плавания в антарктических водах.

Контрольная работа по теме «Географическое положение и история исследования»

II вариант

1. Какие из перечисленных природных объектов располагаются в VIII часовом поясе?

- а) Низовья Амура; г) Северная Земля;
б) Новосибирские острова; д) устье Лены;
в) озеро Байкал; е) Центрально-Якутская равнина.

2. В устье какой реки располагалась колония Мангазея?

- а) Северная Двина; б) Таз; в) Енисей; г) Обь.

3. Кто из перечисленных людей был участником Великой Северной экспедиции?

- а) Михаил Ломоносов г) Семён Дежнёв ж) Семён Челюскин
б) Витус Беринг д) Мария Прончищева з) Владимир Татищев
в) Дмитрий Овцын е) Братья Лаптевы

4. Первым мореплавателем, преодолевшим Северо-Восточный проход, был:

- а) Георгий Седов; б) Фритюф Нансен; в) Эрик Норденшельд; г) Семен Дежнев.

5. Отметьте правильные высказывания словом «Да», неправильные - словом «Нет».

1	Берега России омывают воды трёх океанов: Тихого, Атлантического и Индийского	нет
2	Большая часть государственной границы России проходит по морю	да
3	Крайняя северная материковая точка России одновременно является крайней северной точкой Евразии	да
4	Крайняя западная точка России находится во втором часовом поясе	нет
5	Границы часовых поясов проходят строго по меридианам	нет
6	Поморы — это напоминающие чаек морские птицы, широко распространённые в районе побережья Белого моря	нет
7	Одним из основных товаров, вывозимых из Мангазеи, являлась пушнина	да
8	Первоначально Великая Северная экспедиция называлась Второй Камчатской	да
9	Витус Беринг во время Первой Камчатской экспедиции первым прошёл морем между Северной Америкой и Евразией	нет
10	Архипелаг Новая Земля был обнаружен экспедицией Бориса Вилькицкого	нет
11	Впервые Северный морской путь за одну навигацию преодолели экспедиция на ледоколе «Сибиряков» под руководством Отто Шмидта	да

6. Определите соответствие между событиями и личностями:

Основатель Русского географического общества	1	в	а	Иван Крузенштерн и Юрий Лисянский
Первая российская кругосветная экспедиция	2	а	б	Владимир Татищев
Закон географической зональности	3	г	в	Фердинанд Врангель
Открытие Антарктиды	4	д	г	Василий Докучаев
Первое географическое описание территории России	5	б	д	Фаддей Беллинсгаузен и Михаил Лазарев
«Могущество российское прирастать будет Сибирью»	6	е	е	Михаил Ломоносов

7. Назовите все крайние точки России: западная – Балтийская коса в Гданьском заливе, северная – м. Челюскин, м. Флигели на о. Рудольфа в арх. Земля Франца Иосифа, восточная – м. Дежнева, о. Ратманова, южная – гора Базардюзю на границе с Азербайджаном.

8. Укажите порядок расположения данных географических объектов с запада на восток:

А	Берингов пролив	6
Б	Мыс Челюскин	3
В	Остров Колгуев	1
Г	Устье Лены	4
Д	Гыданский полуостров	2
Е	Хребет Черского	5

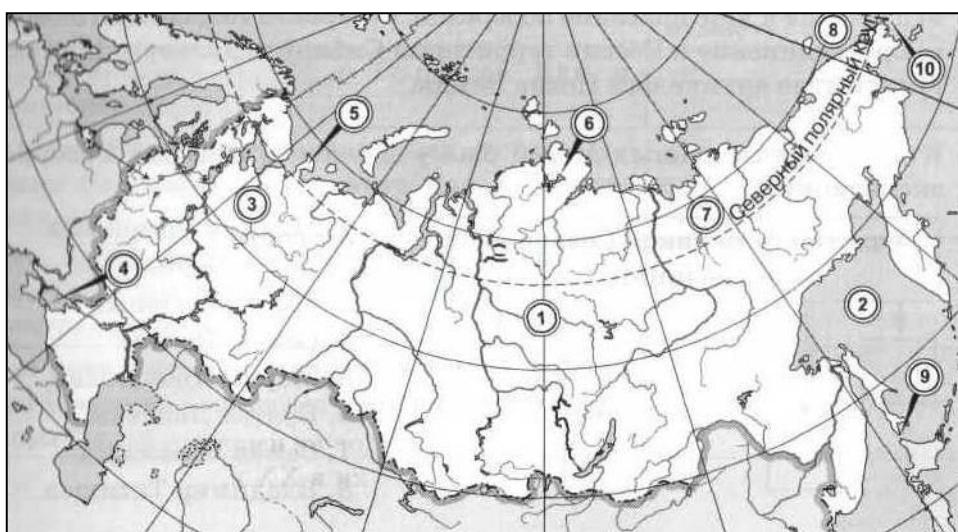
9. Заполните пропуски в предложениях:

Время на меридиане данной местности называется **1) местное**. Ограниченная двумя меридианами часть земного шара, шириной 15°, в пределах которой время суток одинаково, называется **2) часовой пояс (зона)**. В Санкт-Петербурге 4 часа дня, а на Камчатке **3) 24 часа**. Протяжённость территории России с запада на восток составляет примерно **4) 11. тыс. км**, что в градусной мере примерно соответствует **5) 190°**.

10. Как вы думаете:

1	Залив Шелихова находится в Охотском море или в Беринговом?	
2	Вилюй — правый или левый приток Лены?	
3	Какой хребет расположен восточнее: Джугджур или Черского ?	
4	На каком полуострове находятся горы Бырранга: на Таймыре или на Чукотке?	
5	Нижняя Тунгуска — приток Оби или Енисея ?	
6	Лена впадает в море Лаптевых или в Восточно-Сибирское море?	
7	Куда впадает Амур: в Охотское или в Японское море?	
8	В бассейне какого океана находится Иркутск: Северного Ледовитого или Атлантического?	
9	Какое из морей расположено западнее: Карское или Чукотское?	
10	Усури — это правый или левый приток Амура?	
11	У берегов Байкала лежит Становое нагорье или Становой хребет?	
12	Какое озеро расположено восточнее — Ладожское или Онежское ?	

11. Укажите названия географических объектов, обозначенных цифрами:



1. Р. **Ниж. Тунгуска**
2. Море **Охотское**
3. Река **Сев. Двина**
4. Прол. **Керченский**
5. П-ов **Канин**
6. Озеро **Таймыр**
7. Река **Яна**
8. Море **Чукотское**
9. Пролив **Лаперуза**
10. Пролив **Берингов**

13. Теоретический вопрос: Какие товары были на рынке в Мангазее? Как ее называли? Откуда приплывали сюда купцы? **Пушнина (прежде всего соболиный мех) и мамонтова кость. Ее называли «золотокипящей» за процветание. Купцы приплывали из Новгорода и североευропейских стран.**