

Контрольная работа по теме «Моря и внутренние воды»

I вариант

- 1. На побережье какого моря располагается единственная в России приливная электростанция?**
а) Баренцева; б) Белого; в) Охотского; г) Чёрного.
- 2. Какого типа речного питания не существует?**
а) Снегового; б) дождевого; в) родникового; г) ледникового.
- 3. Большинство рек России относится к бассейну:**
а) Атлантического океана; в) Тихого океана;
б) Северного Ледовитого океана; г) внутреннего стока.
- 4. Бассейны каких из перечисленных рек располагаются на европейской территории страны?**
а) Печора; б) Ангара; в) Северная Двина; г) Катунь; д) Вилъю; е) Нева.
- 5. Для какого из перечисленных районов характерна наибольшая заболоченность?**
а) Восточно-Европейская равнина; в) Среднесибирское плоскогорье;
б) Западно-Сибирская равнина; г) Дальний Восток.
- 6. Крупнейший центр горного оледенения на территории России — это:**
а) Алтай; б) Верхоянский хребет; в) Кавказ; г) Хибины.
- 7. Какие из перечисленных природных объектов располагаются в зоне сплошного распространения многолетней мерзлоты?**
а) Братское водохранилище; б) озеро Байкал; г) устье Енисея;
в) озеро Таймыр; д) устье Оби.
- 8. Из какого района Великий ледник пришёл на европейскую территорию нашей страны?**
а) с Кавказа; б) с Новой Земли; в) со Скандинавских гор; г) с Урала.
- 9. Выберите наиболее правильное определение водных ресурсов:**
а) Воды, используемые исключительно в гидроэнергетике;
б) воды, пригодные для использования в хозяйственной деятельности человека;
в) воды, используемые в хозяйственной деятельности человек
г) запас воды, сосредоточенный в горных ледниках.

10. Отметьте правильные высказывания словом «Да», неправильные - словом «Нет».

1	Алтай — это крупнейший район современного горного оледенения на территории России	
2	Максимальная мощность многолетней мерзлоты достигает нескольких километров	
3	На протяжении четвертичного периода наблюдались три эпохи оледенения	
4	После разрушения ледника и начала современной межледниковой эпохи животный мир мало изменился	

11. Определите соответствие между морями и их особенностями:

а) Азовское	б) Балтийское	в) Баренцево	г) Берингово

- 1) Самое большое по площади
- 2) Самое маленькое по площади
- 3) Самое глубокое
- 4) Самое мелкое
- 5) Незамерзающее
- 6) Самое пресное

12. Укажите порядок расположения перечисленных морей с востока на запад вдоль побережья России.

А	Балтийское море	
Б	Карское море	
В	Белое море	
Г	Море Лаптевых	
Д	Восточно-Сибирское море	
Е	Чукотское море	

13. Определите, о каких географических объектах идет речь:

- а) Река, на которой располагается крупнейшее по величине водохранилище России.
- б) Самое большое по площади озеро на севере европейской территории нашей страны.
- в) Крупная река на Дальнем Востоке, по которой частично проходит граница России и Китая.
- г) Самая длинная и вместе с тем самая большая по площади бассейна в пределах России река.
- д) Самое глубокое озеро в России.
- е) Российский мореплаватель, именем которого назван пролив, разделяющий Евразию и Северную Америку, а также самое глубокое из морей, омывающих берега нашей страны.

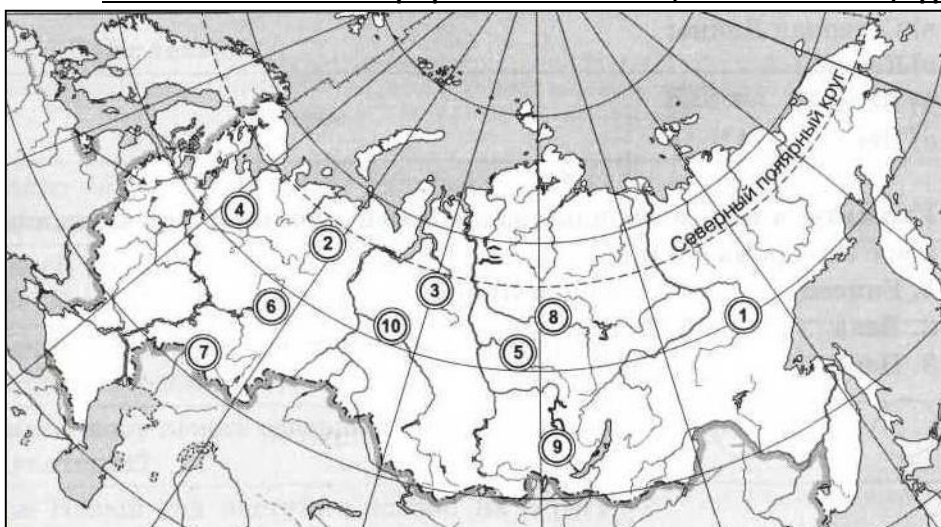
14. Закончите определения:

- а) Территория, с которой в данную реку стекают поверхностные и подземные воды называется.....
- б) — это поступление воды в реку из различных источников.
- в) Расстояние от истока реки до её устья называется

15. Как вы думаете:

1	Где берёт начало Волга — на Урале или на Среднерусской возвышенности?	
2	Какое море имеет связь с Атлантическим океаном: Каспийское или Чёрное?	
3	В каком направлении от острова Врангеля находится Сахалин?	
4	Какое из морей расположено западнее: Балтийское или Белое?	
5	Какое море лежит севернее: Берингово или Чукотское?	
6	Где Новый год наступит позже: на берегу озера Байкал или на Новой Земле?	
7	Тиманский кряж находится севернее или южнее Северных Увалов?	
8	Какой из притоков Лены расположен ближе к её верховьям: Вилюй или Алдан?	
9	Какая из рек находится восточнее: Волга или Урал?	
10	Обская губа отделяет Гыданский полуостров от Таймыра или от Ямала?	
11	На каком море стоит порт Владивосток?	
12	В каком направлении: на запад или на восток течёт река Урал в районе города Оренбурга?	
13	Ока является правым или левым притоком Волги?	
14	В каком направлении течёт Енисей перед впадением в океан?	
15	Устье какой реки находится севернее: Вилюя или Лены?	
16	Назовите самый западный полуостров России	
17	Пролив Карские Ворота связывает Карское море с Баренцевым морем или с морем Лаптевых?	
18	Какая из рек: Индигирка или Яна находится ближе к реке Лене?	

16. Укажите названия географических объектов, обозначенных цифрами:



- 1. Река
- 2. Река
- 3. Река
- 4. Река
- 5. Река
- 6. Река
- 7. Река
- 8. Река
- 9. Река
- 10. Река

Контрольная работа по теме «Моря и внутренние воды»

II вариант

- 1. Какое из перечисленных морей не относится к Северному Ледовитому океану?**
а) Баренцево; б) Белое; в) Берингово; г) Чукотское.
- 2. В каком регионе нашей страны реки имеют преимущественно дождевое питание?**
а) Восточно-Европейская равнина; б) Дальний Восток; в) Западная Сибирь; г) Кавказ.
- 3. Какие из перечисленных рек не относятся к бассейну внутреннего стока?**
а) Терек; б) Кубань; в) Северная Двина; г) Ока; д) Кама; е) Урал.
- 4. Выберите наиболее правильное определение озера.**
а) Заполненное водой крупное понижение земной поверхности;
б) заполненное водой крупное естественное понижение земной поверхности;
в) избыточно увлажнённый участок суши;
г) периодически заполняемое талой или дождевой водой естественное понижение земной поверхности.
- 5. Какие из перечисленных озёр полностью или частично находятся на территории России?**
а) Аральское море; б) Байкал; в) Балхаш; г) Каспийское море; д) Ханка.
- 6. Какого распространения не может иметь многолетняя мерзлота?**
а) Островного; б) прерывистого; в) фрагментарного; г) сплошного;
- 7. Широты какого города достигал Великий ледник?**
а) Волгограда; б) Воронежа; в) Ростова-на-Дону; г) Самары.
- 8. Что из перечисленного не является следствием Великого оледенения?**
а) Большое количество озёр на северо-западе Русской равнины;
б) возникновение Курской магнитной аномалии;
в) существование в Чёрном море слоя сероводорода;
г) характер питания большинства рек Восточно-Европейской равнины;
д) характер рельефа Русской равнины.
- 9. В бассейне какой реки располагается самое крупное (по площади) водохранилище в России?**
а) Амур; б) Волга; в) Енисей; г) Обь.

10. Отметьте правильные высказывания словом «Да», неправильные - словом «Нет».

1	Зона распространения многолетней мерзлоты составляет более 50% территории России	
2	Уровень, выше которого температура воздуха не поднимается выше 0 СС, называется снеговой линией	
3	Великий ледник в первую ледниковую эпоху выдвинулся далеко на юг и достиг широты Москвы	
4	Гладко отшлифованную ледником скалу называют «бараний лоб»	

11. Заполните пропуски в тексте:

Берега нашей страны омывают 1) _____ морей, принадлежащих к бассейнам 2) _____ океанов. Большая часть морей, омывающих российские берега, относятся к бассейну 3) _____ океана. Наибольшее экономическое значение характерно для морей, относящихся к бассейну 4) _____ океана. Виды рыб, которые можно ловить в промысловых масштабах, называются 5) _____.

12. Укажите порядок расположения перечисленных природных объектов с запада на восток.

А	Алданское нагорье	
Б	Озеро Байкал	
В	Енисейский кряж	
Г	Онежское озеро	
Д	Телецкое озеро	
Е	Чудское озеро	

13. Определите, о каких географических объектах идет речь:

- а) Самое большое по площади озеро России и Евразии.
- б) Самое пресное из морей, омывающих берега нашей страны.
- в) Крупное озеро на севере Среднесибирского региона.
- г) Крупнейшая река европейской территории нашей страны.
- д) Самая большая по водоносности река России.
- е) Французский мореплаватель, именем которого назван пролив, отделяющий остров Сахалин от Японских островов.

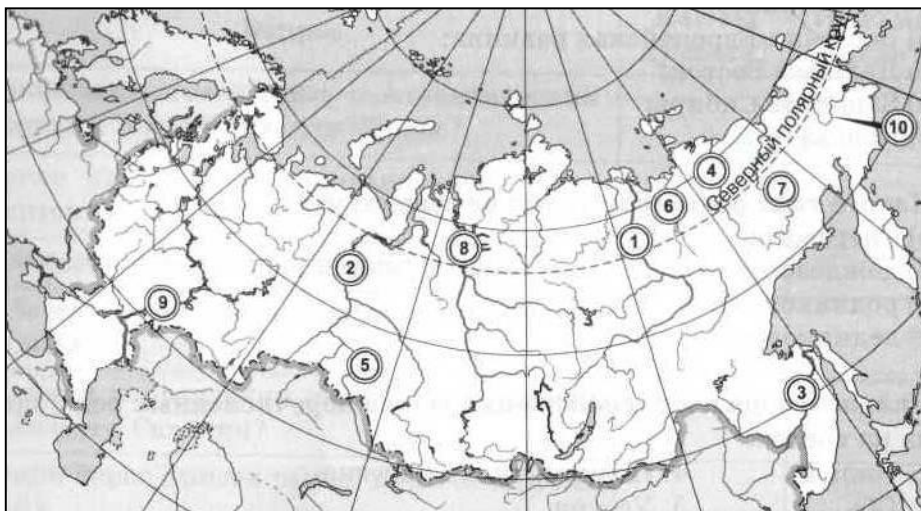
14. Закончите определения:

- а) Регулярные изменения в состоянии реки называются
- б) Быстрое и нерегулярное увеличение уровня и количества воды в руслах рек называется
- в) Период времени, когда в руслах рек находится минимальное количество воды, называется.....

15. Как вы думаете:

1	Какое из морей расположено восточнее: Лаптевых или Охотское?	
2	Замерзает ли Белое море на зиму или нет?	
3	В бассейне какого океана находится озеро Байкал?	
4	Какой берег Енисея выше: правый или левый?	
5	Какое из морей замерзает на большую площадь: Берингово или Охотское?	
6	Какой из полуостровов расположен восточнее: Ямал или Гыданский?	
7	Что находится севернее: Кольский полуостров или Белое море?	
8	Дон впадает в Чёрное или в Азовское море?	
9	В каком направлении течёт Обь при впадении в Обскую губу?	
10	Где находится Камчатка: в Восточном полушарии или в Северном?	
11	Какие острова ближе к Северному полюсу: Земля Франца-Иосифа или Новая Земля?	
12	Какой остров имеет большую площадь: Сахалин или остров Врангеля?	
13	Какой город расположен севернее: Москва или Владивосток?	
14	Исток какой реки - Вилюя или Алдана - имеет меньшую высоту над уровнем моря?	
15	Где находится остров Колгуев — в Карском или в Баренцевом море?	
16	На каком полуострове можно встретить большие абсолютные высоты поверхности: на Таймыре или Ямале?	
17	Охотское море находится к востоку или к западу от Камчатки?	
18	Назовите самый восточный полуостров России	

16. Укажите названия географических объектов, обозначенных цифрами:



- 1. Река
- 2. Река
- 3. Река
- 4. Река
- 5. Река
- 6. Река
- 7. Река
- 8. Река
- 9. Река
- 10. Река

Контрольная работа по теме «Моря и внутренние воды»

I вариант

1. На побережье какого моря располагается единственная в России приливная электростанция?
а) Баренцева; б) Белого; в) Охотского; г) Чёрного.
2. Какого типа речного питания не существует?
а) Снегового; б) дождевого; в) родникового; г) ледникового.
3. Большинство рек России относится к бассейну:
а) Атлантического океана; в) Тихого океана;
б) Северного Ледовитого океана; г) внутреннего стока.
4. Бассейны каких из перечисленных рек располагаются на европейской территории страны?
а) Печора; б) Ангара; в) Северная Двина; г) Катунь; д) Вилюй; е) Нева.
5. Для какого из перечисленных районов характерна наибольшая заболоченность?
а) Восточно-Европейская равнина; в) Среднесибирское плоскогорье;
б) Западно-Сибирская равнина; г) Дальний Восток.
6. Крупнейший центр горного оледенения на территории России — это:
а) Алтай; б) Верхоянский хребет; в) Кавказ; г) Хибины.
7. Какие из перечисленных природных объектов располагаются в зоне сплошного распространения многолетней мерзлоты?
а) Братское водохранилище; б) озеро Байкал; г) устье Енисея;
в) озеро Таймыр; д) устье Оби.
8. Из какого района Великий ледник пришёл на европейскую территорию нашей страны?
а) с Кавказа; б) с Новой Земли; в) со Скандинавских гор; г) с Урала.
9. Выберите наиболее правильное определение водных ресурсов:
а) Воды, используемые исключительно в гидроэнергетике;
б) воды, пригодные для использования в хозяйственной деятельности человека;
в) воды, используемые в хозяйственной деятельности человек
г) запас воды, сосредоточенный в горных ледниках.

10. Отметьте правильные высказывания словом «Да», неправильные - словом «Нет».

1	Алтай — это крупнейший район современного горного оледенения на территории России	нет
2	Максимальная мощность многолетней мерзлоты достигает нескольких километров	нет
3	На протяжении четвертичного периода наблюдались три эпохи оледенения	нет
4	После разрушения ледника и начала современной межледниковой эпохи животный мир мало изменился	да

11. Определите соответствие между морями и их особенностями:

а) Азовское	б) Балтийское	в) Баренцево	г) Берингово
2, 4	6	5	1, 3

- | | |
|-------------------------------|------------------|
| 1) Самое большое по площади | 4) Самое мелкое |
| 2) Самое маленькое по площади | 5) Незамерзающее |
| 3) Самое глубокое | 6) Самое пресное |

12. Укажите порядок расположения перечисленных морей с востока на запад вдоль побережья России.

А	Балтийское море	6
Б	Карское море	4
В	Белое море	5
Г	Море Лаптевых	3
Д	Восточно-Сибирское море	2
Е	Чукотское море	1

13. Определите, о каких географических объектах идет речь:

- а) Река, на которой располагается крупнейшее водохранилище России (Ангара, Братское вдхр.).
 б) Самое большое по площади озеро на севере европейской территории (Ладжожское).
 в) Крупная река на Дальнем Востоке, по которой проходит граница России и Китая (Амур).
 г) Самая длинная и вместе с тем самая большая по площади бассейна в пределах России река (Лена).
 д) Самое глубокое озеро в России (Байкал).
 е) Российский мореплаватель, именем которого назван пролив, разделяющий Евразию и Северную Америку, и самое глубокое из морей, омывающих берега нашей страны (Берингов).

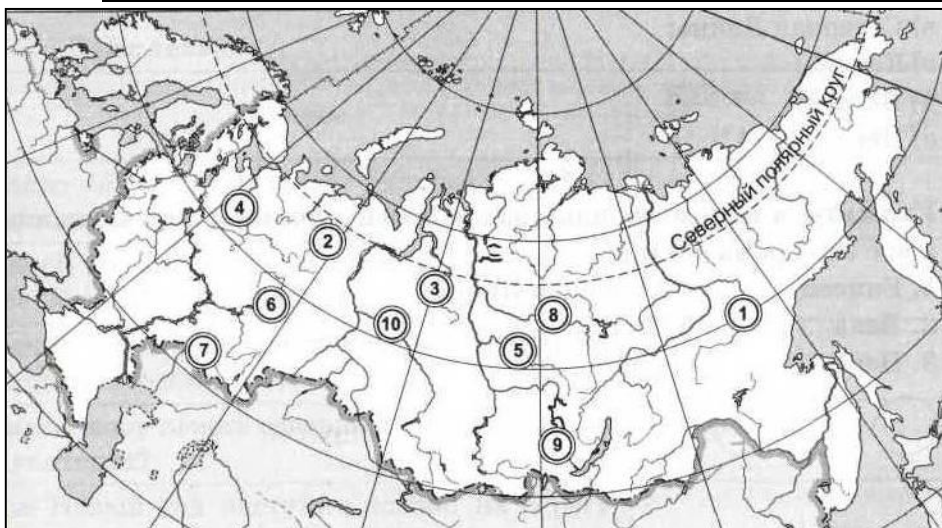
14. Закончите определения:

- а) Территория, с которой в данную реку стекают поверхностные и подземные воды называется бассейном реки.
 б) Питание — это поступление воды в реку из различных источников.
 в) Расстояние от истока реки до её устья называется длиной реки.

15. Как вы думаете:

1	Где берёт начало Волга — на Урале или на Среднерусской возвышенности?	
2	Какое море имеет связь с Атлантическим океаном: Каспийское или Чёрное?	
3	В каком направлении от острова Врангеля находится Сахалин?	юго-западном
4	Какое из морей расположено западнее: Балтийское или Белое?	
5	Какое море лежит севернее: Берингово или Чукотское?	
6	Где Новый год наступит позже: на берегу озера Байкал или на Новой Земле?	
7	Тиманский кряж находится севернее или южнее Северных Увалов?	
8	Какой из притоков Лены расположен ближе к её верховьям: Вилюй или Алдан?	
9	Какая из рек находится восточнее: Волга или Урал?	
10	Обская губа отделяет Гыданский полуостров от Таймыра или от Ямала?	
11	На каком море стоит порт Владивосток?	Японское
12	В каком направлении: на запад или на восток течёт река Урал в районе города Оренбурга?	
13	Ока является правым или левым притоком Волги?	
14	В каком направлении течёт Енисей перед впадением в океан?	на запад
15	Устье какой реки находится севернее: Вилюя или Лены?	
16	Назовите самый западный полуостров России (Куршская коса)	Балтийская
17	Пролив Карские Ворота связывает Карское море с Баренцевым морем или с морем Лаптевых?	
18	Какая из рек: Индигирка или Яна находится ближе к реке Лене?	

16. Укажите названия географических объектов, обозначенных цифрами:



1. Река Алдан
2. Река Печора
3. Река Таз
4. Река Сев. Двина
5. Река Подкамен. Тунгуска
6. Река Кама
7. Река Урал
8. Река Ниж. Тунгус.
9. Река Ангара
10. Река Обь

Контрольная работа по теме «Моря и внутренние воды»

II вариант

- 1. Какое из перечисленных морей не относится к Северному Ледовитому океану?**
а) Баренцево; б) Белое; **в) Берингово;** г) Чукотское.
- 2. В каком регионе нашей страны реки имеют преимущественно дождевое питание?**
а) Восточно-Европейская равнина; **б) Дальний Восток;** в) Западная Сибирь; г) Кавказ.
- 3. Какие из перечисленных рек не относятся к бассейну внутреннего стока?**
а) Терек; **б) Кубань;** **в) Северная Двина;** г) Ока; д) Кама; е) Урал.
- 4. Выберите наиболее правильное определение озера.**
а) Заполненное водой крупное понижение земной поверхности;
б) заполненное водой крупное естественное понижение земной поверхности;
в) избыточно увлажнённый участок суши;
г) периодически заполняемое талой или дождевой водой естественное понижение земной поверхности.
- 5. Какие из перечисленных озёр полностью или частично находятся на территории России?**
а) Аральское море; **б) Байкал;** в) Балхаш; г) Каспийское море; **д) Ханка.**
- 6. Какого распространения не может иметь многолетняя мерзлота?**
а) Островного; б) прерывистого; **в) фрагментарного;** г) сплошного;
- 7. Широты какого города достигал Великий ледник?**
а) Волгограда; **б) Воронежа;** в) Ростова-на-Дону; г) Самары.
- 8. Что из перечисленного не является следствием Великого оледенения?**
а) Большое количество озёр на северо-западе Русской равнины;
б) возникновение Курской магнитной аномалии;
в) существование в Чёрном море слоя сероводорода;
г) характер питания большинства рек Восточно-Европейской равнины;
д) характер рельефа Русской равнины.
- 9. В бассейне какой реки располагается самое крупное (по площади) водохранилище в России?**
а) Амур; б) Волга; **в) Енисей;** г) Обь.

10. Отметьте правильные высказывания словом «Да», неправильные - словом «Нет».

1	Зона распространения многолетней мерзлоты составляет более 50% территории России	да
2	Уровень, выше которого температура воздуха не поднимается выше 0 СС, называется снеговой линией	да
3	Великий ледник в первую ледниковую эпоху выдвинулся далеко на юг и достиг широты Москвы	нет
4	Гладко отшлифованную ледником скалу называют «бараний лоб»	да

11. Заполните пропуски в тексте:

Берега нашей страны омывают **1) 12 морей,** принадлежащих к бассейнам **2) трех** океанов. Большая часть морей, омывающих российские берега, относятся к бассейну **3) Северного Ледовитого** океана. Наибольшее экономическое значение характерно для морей, относящихся к бассейну **4) Атлантического** океана. Виды рыб, которые можно ловить в промысловых масштабах, называются **5) промысловыми.**

12. Укажите порядок расположения перечисленных природных объектов с запада на восток.

А	Алданское нагорье	6
Б	Озеро Байкал	5
В	Енисейский кряж	4
Г	Онежское озеро	2
Д	Телецкое озеро	3
Е	Чудское озеро	1

13. Определите, о каких географических объектах идет речь:

- а) Самое большое по площади озеро России и Евразии (Каспийское).
- б) Самое пресное из морей, омывающих берега нашей страны (Балтийское море).
- в) Крупное озеро на севере Среднесибирского региона (Таймыр).
- г) Крупнейшая река европейской территории нашей страны (Волга).
- д) Самая большая по водоносности река России (Енисей).
- е) Французский мореплаватель, именем которого назван пролив, отделяющий остров Сахалин от Японских островов (Лаперуз Жан Франсуа).

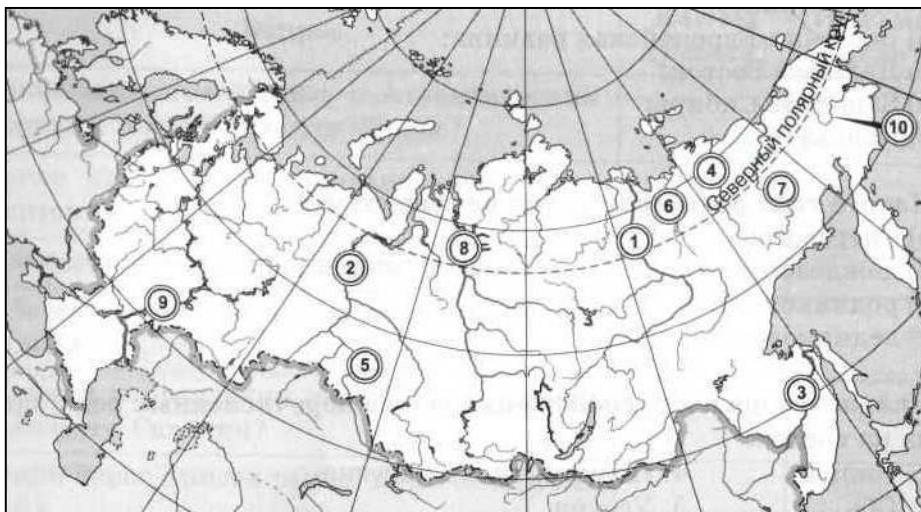
14. Закончите определения:

- а) Регулярные изменения в состоянии реки называются режимом реки.
- б) Быстрое и нерегулярное увеличение уровня и количества воды в реке называется паводок.
- в) Период времени, когда в руслах рек находится минимальное количество воды – это межень.

15. Как вы думаете:

1	Какое из морей расположено восточнее: Лаптевых или Охотское?	
2	Замерзает ли Белое море на зиму или нет?	да
3	В бассейне какого океана находится озеро Байкал?	СЛО
4	Какой берег Енисея выше: правый или левый?	
5	Какое из морей замерзает на большую площадь: Берингово или Охотское?	
6	Какой из полуостровов расположен восточнее: Ямал или Гыданский?	
7	Что находится севернее: Кольский полуостров или Белое море?	
8	Дон впадает в Чёрное или в Азовское море?	
9	В каком направлении течёт Обь при впадении в Обскую губу?	на восток
10	Где находится Камчатка: в Восточном полушарии или в Северном?	
11	Какие острова ближе к Северному полюсу: Земля Франца-Иосифа или Новая Земля?	
12	Какой остров имеет большую площадь: Сахалин или остров Врангеля?	
13	Какой город расположен севернее: Москва или Владивосток?	
14	Исток какой реки - Вилюя или Алдана - имеет меньшую высоту над уровнем моря?	
15	Где находится остров Колгуев — в Карском или в Баренцевом море?	
16	На каком полуострове можно встретить большие абсолютные высоты поверхности: на Таймыре или Ямале?	
17	Охотское море находится к востоку или к западу от Камчатки?	
18	Назовите самый восточный полуостров России	Чукотский

16. Укажите названия географических объектов, обозначенных цифрами:



- 1. Река Лена
- 2. Река Обь
- 3. Река Амур
- 4. Река Индигирка
- 5. Река Иртыш
- 6. Река Яна
- 7. Река Колыма
- 8. Река Енисей
- 9. Река Волга
- 10. Река Анадырь