

Контрольная работа по теме «Население России»

I вариант

- Численность населения России составляет:**
а) 90—95 млн. чел.; б) 120—125 млн. чел.; в) 140—150 млн. чел.; г) 210—220 млн. чел.
- Средняя плотность населения в России составляет:**
а) 1—5 чел. на кв. км; б) 6—10 чел. на кв. км; в) 10—15 чел. на кв. км; г) 15—20 чел. на кв. км.
- Самая большая плотность населения в России наблюдается в:**
а) Белгородской области; в) Республике Северной Осетии;
б) Мурманской области; г) Республике Бурятия.
- Когда в России начался отток населения из сельской местности в города?**
а) Во второй половине XVIII в.; в) во второй половине XIX в.;
б) в первой половине XIX в.; г) в первой половине XX в.
- Для какой пары экономических районов характерна наименьшая доля городского населения?**
а) Северо-Западный и Северо-Кавказский;
б) Северо-Западный и Центральный;
в) Северо-Кавказский и Центрально-Чернозёмный;
г) Центральный и Центрально-Чернозёмный.
- Доля городского населения в России составляет:**
а) 50-60%; б) 60-70%; в) 70-80%; г) 80-90%.
- В какой строчке правильно названы народы России, численностью более 1 млн. чел.?**
а) Мордва, белорусы, украинцы; в) немцы, поляки, грузины;
б) русские, татары, украинцы; г) литовцы, узбеки, башкиры.
- Какая из перечисленных религий России идет после христианства?**
а) Буддизм; б) ислам; в) иудаизм; г) индуизм.
- Наиболее высокий уровень безработицы отмечен в:**
а) Москве; б) Ханты-Мансийском АО; в) Курской области; г) Республике Дагестан.
- По сравнению с численностью женщин численность мужчин в России:**
а) больше; б) меньше; в) значительно больше; г) столько же.
- Какой из перечисленных городов имеет наибольшее население?**
а) Волгоград; б) Мурманск; в) Владивосток; г) Воронеж.
- В каком из перечисленных регионов России доля сельского населения наибольшая?**
а) В Ленинградской области; в) Республике Саха (Якутия);
б) Республике Коми; г) Краснодарском крае.
- Наименьшую численность населения имеет экономический район:**
а) Центрально-Черноземный; б) Западно-Сибирский; в) Волго-Вятский; г) Северный.
- Северная граница основной полосы расселения в европейской части России проходит по линии:**
а) Мурманск — Архангельск — Воркута;
б) Петрозаводск — Киров — Пермь;
в) Санкт-Петербург — Нижний Новгород — Саратов;
г) Смоленск — Рязань — Казань.
- Буддизм широко распространен среди:**
а) чувашей; б) калмыков; в) башкиров; г) адыгейцев.
- Народ, проживающий в азиатской части России:**
а) карелы; б) коряки; в) коми; г) калмыки.
- Укажите порядок расположения перечисленных объектов с севера на юг (слева) и с запада на восток (справа):**

А	Архангельск	
Б	Иркутск	
В	Магадан	
Г	Мурманск	
Д	Новосибирск	
Е	Якутск	

А	Кемерово	
Б	Красноярск	
В	Новосибирск	
Г	Омск	
Д	Томск	
Е	Тюмень	

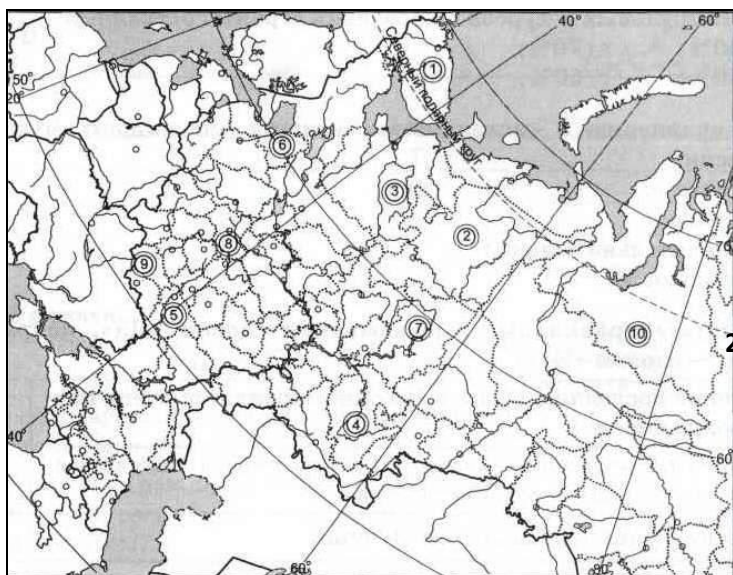
18. Отметьте правильные высказывания словом «Да», неправильные - словом «Нет».

1	Безвозвратные миграции всегда влияют на численность населения страны	
2	Миграции могут влиять на возрастной и национальный состав отдельных территорий	
3	Урбанизация в России началась в 60-х гг. XX в.	
4	Понятие «город» в разных странах разное	
5	Почти любой крупный город становится центром или ядром городской агломерации	
6	В России женщин больше, чем мужчин	
7	Больше половины площади России изменено хозяйственной деятельностью человека	

19. Как вы думаете:

1	Что располагается восточнее: город Новосибирск или полуостров Ямал?	
2	Какая плотность населения — высокая или низкая — характерна для большей части территории России?	
3	В каком направлении течёт Дон при впадении в море?	
4	Что находится севернее: Ладожское озеро или город Анадырь?	
5	Новосибирские острова отделяют Восточно-Сибирское море от Чукотского или моря Лаптевых?	
6	Что располагается восточнее: Гыданский полуостров или город Иркутск?	
7	Озеро Эльтон лежит на территории Астраханской или Волгоградской области?	
8	Кама — это правый или левый приток Волги?	
9	Что лежит севернее: озеро Ханка или город Тюмень?	
10	Новая Земля отделяет Карское море от Баренцева моря или моря Лаптевых?	
11	Что располагается восточнее: остров Колгуев или город Сыктывкар?	
12	Какой город находится южнее: Мурманск или Оймякон?	
13	Верхоянский хребет расположен к востоку или к западу от Лены?	
14	Где находится устье Енисея — на территории Красноярского края или Тюменской области?	
15	В каком направлении течёт Ангара при впадении в Енисей?	

20. Укажите названия субъектов РФ, обозначенных цифрами:



21. Теоретические вопросы:

- 1) Почему в северных районах страны особенно велика убыль населения?
- 2) Почему с ухудшением экономической ситуации обостряются межэтнические проблемы?
- 3) С чем связано широкое распространение ислама на территории России?
- 4) Почему районы с высоки естественным приростом населения самый высокий уровень безработицы?

22. Дайте определения понятиям:

- урбанизация, мегаполис, иммиграция, плотность населения, естественный прирост, убыль населения, расселение, половозрастная пирамида.

Контрольная работа по теме «Население России»

II вариант

- Численность населения России с 1897 г. увеличилась примерно на:**
а) 15 млн. чел.; б) 30 млн. чел.; в) 50 млн. чел.; г) 80 млн. чел.
- Максимальная численность населения России была зафиксирована в:**
а) 1990 г.; б) 1991 г.; в) 1992 г.; г) 1993 г.
- В настоящее время высокий естественный прирост населения наблюдается в республиках:**
а) Саха (Якутия) и Ингушетии; в) Северной Осетии и Удмуртии;
б) Карелии и Коми; г) Кабардино-Балкарии и Мордовии.
- В бассейне реки Оби живут:**
а) тувинцы; б) якуты; в) ханты; г) калмыки.
- Наименьшая плотность населения в России наблюдается в:**
а) Архангельской области; в) Республике Коми;
б) Красноярском крае; г) Республике Саха (Якутия).
- Какие миграции влияют на численность населения страны?**
а) Внешние и внутренние; в) только внутренние;
б) только внешние; г) миграции не влияют на численность.
- В какой строчке правильно названы города-миллионеры России?**
а) Пермь, Челябинск, Харьков; в) Омск, Казань, Челябинск;
б) Иркутск, Хабаровск, Владивосток; г) Волгоград, Екатеринбург, Саратов.
- На территории европейской части России проживают:**
а) мордва, ненцы, карелы; в) калмыки, башкиры, чукчи;
б) ненцы, юкагиры, якуты; г) эвены, ительмены, алтайцы.
- Доля трудовых ресурсов в населении страны составляет:**
а) 40%; б) 60%; в) 70%; г) 50%.
- Какой из регионов России является наиболее густонаселенным?**
а) Архангельская область; в) Магаданская область;
б) Ставропольский край; г) Красноярский край.
- На Северном Кавказе проживают:**
а) карачаевцы; б) коми; в) буряты; г) башкиры.
- Выберите экономический район, в котором нет городов-миллионеров:**
а) Уральский; б) Центрально-Черноземный; в) Северо-Западный; г) Поволжский.
- Самым южным городом-миллионером в России является:**
а) Самара; б) Ростов-на-Дону; в) Новосибирск; г) Саратов.
- Экономическим районом, в котором проживают башкиры, является:**
а) Северный; б) Уральский; в) Дальневосточный; г) Волго-Вятский.
- Наиболее высокая доля детей отмечается:**
а) в Новгородской области; в) в Тверской области;
б) в Республике Дагестан; г) в Курской области.
- Трудовые ресурсы — это:**
а) все население в возрасте от 16 до 60 лет;
б) все работающие в стране люди;
в) все люди, находящиеся в трудоспособном возрасте;
г) население, которое может трудиться в народном хозяйстве страны.
- Укажите порядок расположения перечисленных объектов с севера на юг (слева) и с запада на восток (справа):**

А	Анадырь	
Б	Москва	
В	Мурманск	
Г	Санкт-Петербург	
Д	Сыктывкар	
Е	Ярославль	

А	Благовещенск	
Б	Иркутск	
В	Кызыл	
Г	Улан-Удэ	
Д	Чита	
Е	Якутск	

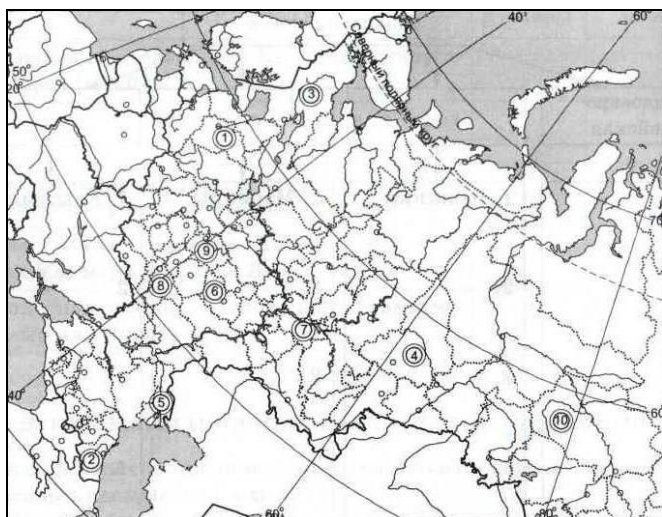
18. Отметьте правильные высказывания словом «Да», неправильные - словом «Нет».

1	Внутренние миграции перераспределяют население внутри страны	
2	С отменой крепостного права начался отток населения из городов в села	
3	Сельских населённых пунктов в России гораздо меньше, чем малых городов и посёлков городского типа	
4	В России 14 городов-миллионеров	
5	В течение последних 15 лет в России сохраняется очень низкая рождаемость	
6	Трудовыми ресурсами называют численность населения, занятого в народном хозяйстве страны	
7	Россия обладает значительными и высококвалифицированными трудовыми ресурсами	

19. Как вы думаете:

1	Что располагается южнее: Онежское озеро или город Магадан?	
2	Какая из рек — Иртыш или Тобол — является для Оби притоком первого порядка?	
3	Что располагается западнее: полуостров Камчатка или город Анадырь?	
4	Где лежит озеро Баскунчак — на территории Астраханской области или в Республике Калмыкии?	
5	Что лежит севернее — город Архангельск или устье Оби?	
6	Что находится южнее: озеро Байкал или город Волгоград?	
7	На каком полуострове находятся горы Бырранга?	
8	Что находится западнее: Канин полуостров или город Оренбург?	
9	Телецкое озеро располагается на территории Алтайского края или Респ. Алтай?	
10	Какой полуостров расположен севернее: Таймыр или Чукотка?	
11	Устье какой из рек, протекающих по территории Якутии, располагается восточнее: Индигирки или Яны?	
12	Какая река расположена севернее: Ангара или Нижняя Тунгуска?	
13	Что располагается западнее: остров Врангеля или город Анадырь?	
14	Где расположено место слияния рек Аргуни и Шилки — на территории Амурской области или Забайкальского края?	
15	Куда впадает Колыма: в Чукотское море или в Восточно-Сибирское море?	

20. Укажите названия субъектов РФ, обозначенных цифрами:



21. Теоретические вопросы:

- 1) С чем связано усиление миграционных процессов в России, начавшееся в конце XIX века?
- 2) Как природные условия влияют на уровень урбанизации региона?
- 3) В чем экономическое значение миграций?
- 4) Почему села не должны быть крупными?

22. Дайте определения понятиям:

- город, агломерация, мегалополис, эмиграция, демографическая политика, основная зона расселения, народ, безработица.

Контрольная работа по теме «Население России»

I вариант

- Численность населения России составляет:**
а) 90—95 млн. чел.; б) 120—125 млн. чел.; **в) 140—150 млн. чел.;** г) 210—220 млн. чел.
- Средняя плотность населения в России составляет:**
а) 1—5 чел. на кв. км; **б) 6—10 чел. на кв. км;** в) 10—15 чел. на кв. км; г) 15—20 чел. на кв. км.
- Самая большая плотность населения в России наблюдается в:**
а) Белгородской области; **в) Республике Северной Осетии;**
б) Мурманской области; г) Республике Бурятии.
- Когда в России начался отток населения из сельской местности в города?**
а) Во второй половине XVIII в.; **в) во второй половине XIX в.;**
б) в первой половине XIX в.; г) в первой половине XX в.
- Для какой пары экономических районов характерна наименьшая доля городского населения?**
а) Северо-Западный и Северо-Кавказский;
б) Северо-Западный и Центральный;
в) Северо-Кавказский и Центрально-Чернозёмный;
г) Центральный и Центрально-Чернозёмный.
- Доля городского населения в России составляет:**
а) 50-60%; б) 60-70%; **в) 70-80%;** г) 80-90%.
- В какой строчке правильно названы народы России, численностью более 1 млн. чел.?**
а) Мордва, белорусы, украинцы; в) немцы, поляки, грузины;
б) русские, татары, украинцы; г) литовцы, узбеки, башкиры.
- Какая из перечисленных религий России идет после христианства?**
а) Буддизм; **б) ислам;** в) иудаизм; г) индуизм.
- Наиболее высокий уровень безработицы отмечен в:**
а) Москве; б) Ханты-Мансийском АО; в) Курской области; **г) Республике Дагестан.**
- По сравнению с численностью женщин численность мужчин в России:**
а) больше; **б) меньше;** в) значительно больше; г) столько же.
- Какой из перечисленных городов имеет наибольшее население?**
а) Волгоград; б) Мурманск; в) Владивосток; г) Воронеж.
- В каком из перечисленных регионов России доля сельского населения наибольшая?**
а) В Ленинградской области; в) Республике Саха (Якутия);
б) Республике Коми; **г) Краснодарском крае.**
- Наименьшую численность населения имеет экономический район:**
а) Центрально-Черноземный; б) Западно-Сибирский; в) Волго-Вятский; **г) Северный.**
- Северная граница основной полосы расселения в европейской части России проходит по линии:**
а) Мурманск — Архангельск — Воркута;
б) Петрозаводск — Киров — Пермь;
в) Санкт-Петербург — Нижний Новгород — Саратов;
г) Смоленск — Рязань — Казань.
- Буддизм широко распространен среди:**
а) чувашей; **б) калмыков;** в) башкиров; г) адыгейцев.
- Народ, проживающий в азиатской части России:**
а) карелы; б) коряки; в) коми; г) калмыки.
- Укажите порядок расположения перечисленных объектов с севера на юг (слева) и с запада на восток (справа):**

А	Архангельск	2
Б	Иркутск	6
В	Магадан	4
Г	Мурманск	1
Д	Новосибирск	5
Е	Якутск	3

А	Кемерово	5
Б	Красноярск	6
В	Новосибирск	3
Г	Омск	2
Д	Томск	4
Е	Тюмень	1

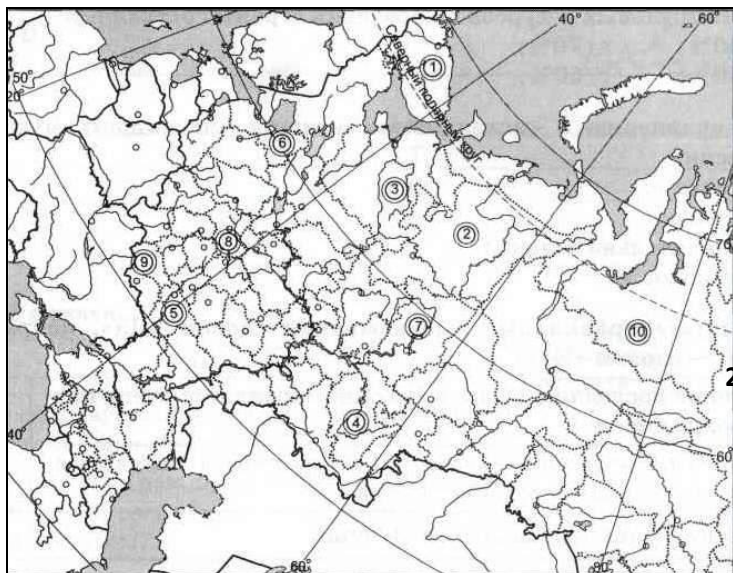
18. Отметьте правильные высказывания словом «Да», неправильные - словом «Нет».

1	Безвозвратные миграции всегда влияют на численность населения страны	да
2	Миграции могут влиять на возрастной и национальный состав отдельных территорий	да
3	Урбанизация в России началась в 60-х гг. XX в.	нет
4	Понятие «город» в разных странах разное	да
5	Почти любой крупный город становится центром или ядром городской агломерации	да
6	В России женщин больше, чем мужчин	да
7	Больше половины площади России изменено хозяйственной деятельностью человека	да

19. Как вы думаете:

1	Что располагается восточнее: город Новосибирск или полуостров Ямал?	
2	Какая плотность населения — высокая или низкая — характерна для большей части территории России?	
3	В каком направлении течёт Дон при впадении в море?	на запад
4	Что находится севернее: Ладожское озеро или город Анадырь?	
5	Новосибирские острова отделяют Восточно-Сибирское море от Чукотского или моря Лаптевых ?	
6	Что располагается восточнее: Гыданский полуостров или город Иркутск ?	
7	Озеро Эльтон лежит на территории Астраханской или Волгоградской области?	
8	Кама — это правый или левый приток Волги?	
9	Что лежит севернее: озеро Ханка или город Тюмень ?	
10	Новая Земля отделяет Карское море от Баренцева моря или моря Лаптевых?	
11	Что располагается восточнее: остров Колгуев или город Сыктывкар ?	
12	Какой город находится южнее: Мурманск или Оймякон ?	
13	Верхоянский хребет расположен к востоку или к западу от Лены?	
14	Где находится устье Енисея — на территории Красноярского края или Тюменской области?	
15	В каком направлении течёт Ангара при впадении в Енисей?	на запад

20. Укажите названия субъектов РФ, обозначенных цифрами:



21. Теоретические вопросы:

- 5) Почему в северных районах страны особенно велика убыль населения?
- 6) Почему с ухудшением экономической ситуации обостряются межэтнические проблемы?
- 7) С чем связано широкое распространение ислама на территории России?
- 8) Почему районы с высоки естественным приростом населения самый высокий уровень безработицы?

22. Дайте определения понятиям:

- урбанизация, мегаполис, иммиграция, плотность населения, естественный прирост, убыль населения, расселение, половозрастная пирамида.

Контрольная работа по теме «Население России»

II вариант

- Численность населения России с 1897 г. увеличилась примерно на:**
а) 15 млн. чел.; б) 30 млн. чел.; в) 50 млн. чел.; г) 80 млн. чел.
- Максимальная численность населения России была зафиксирована в:**
а) 1990 г.; б) 1991 г.; в) 1992 г.; г) 1993 г.
- В настоящее время высокий естественный прирост населения наблюдается в республиках:**
а) Саха (Якутия) и Ингушетии; б) Карелии и Коми; в) Северной Осетии и Удмуртии; г) Кабардино-Балкарии и Мордовии.
- В бассейне реки Оби живут:**
а) тувинцы; б) якуты; в) ханты; г) калмыки.
- Наименьшая плотность населения в России наблюдается в:**
а) Архангельской области; б) Красноярском крае; в) Республике Коми; г) Республике Саха (Якутия).
- Какие миграции влияют на численность населения страны?**
а) Внешние и внутренние; б) только внешние; в) только внутренние; г) миграции не влияют на численность.
- В какой строчке правильно названы города-миллионеры России?**
а) Пермь, Челябинск, Харьков; б) Иркутск, Хабаровск, Владивосток; в) Омск, Казань, Челябинск; г) Волгоград, Екатеринбург, Саратов.
- На территории европейской части России проживают:**
а) мордва, ненцы, карелы; б) ненцы, юагиры, якуты; в) калмыки, башкиры, чукчи; г) эвены, ительмены, алтайцы.
- Доля трудовых ресурсов в населении страны составляет:**
а) 40%; б) 60%; в) 70%; г) 50%.
- Какой из регионов России является наиболее густонаселенным?**
а) Архангельская область; б) Ставропольский край; в) Магаданская область; г) Красноярский край.
- На Северном Кавказе проживают:**
а) карачаевцы; б) коми; в) буряты; г) башкиры.
- Выберите экономический район, в котором нет городов-миллионеров:**
а) Уральский; б) Центрально-Черноземный; в) Северо-Западный; г) Поволжский.
- Самым южным городом-миллионером в России является:**
а) Самара; б) Ростов-на-Дону; в) Новосибирск; г) Саратов.
- Экономическим районом, в котором проживают башкиры, является:**
а) Северный; б) Уральский; в) Дальневосточный; г) Волго-Вятский.
- Наиболее высокая доля детей отмечается:**
а) в Новгородской области; б) в Республике Дагестан; в) в Тверской области; г) в Курской области.
- Трудовые ресурсы — это:**
а) все население в возрасте от 16 до 60 лет; б) все работающие в стране люди; в) все люди, находящиеся в трудоспособном возрасте; г) население, которое может трудиться в народном хозяйстве страны.
- Укажите порядок расположения перечисленных объектов с севера на юг (слева) и с запада на восток (справа):**

А	Анадырь	2
Б	Москва	6
В	Мурманск	1
Г	Санкт-Петербург	3
Д	Сыктывкар	4
Е	Ярославль	5

А	Благовещенск	5
Б	Иркутск	2
В	Кызыл	1
Г	Улан-Удэ	3
Д	Чита	4
Е	Якутск	6

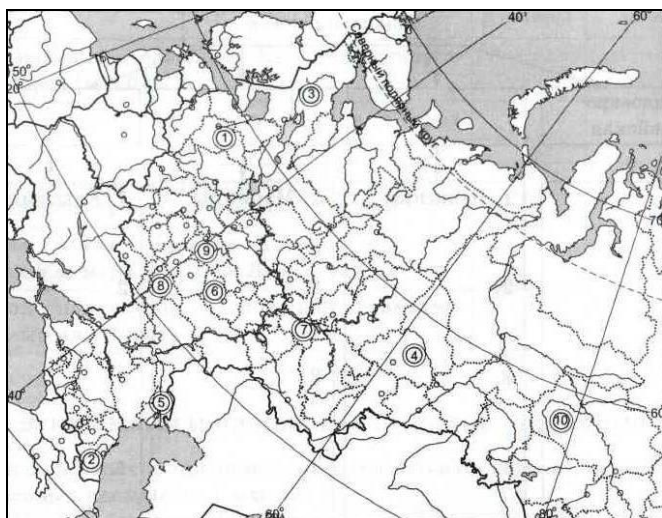
18. Отметьте правильные высказывания словом «Да», неправильные - словом «Нет».

1	Внутренние миграции перераспределяют население внутри страны	да
2	С отменой крепостного права начался отток населения из городов в села	нет
3	Сельских населённых пунктов в России гораздо меньше, чем малых городов и посёлков городского типа	нет
4	В России 14 городов-миллионеров	да
5	В течение последних 15 лет в России сохраняется очень низкая рождаемость	да
6	Трудовыми ресурсами называют численность населения, занятого в народном хозяйстве страны	нет
7	Россия обладает значительными и высококвалифицированными трудовыми ресурсами	да

19. Как вы думаете:

1	Что располагается южнее: Онежское озеро или город Магадан?	
2	Какая из рек — Иртыш или Тобол — является для Оби притоком первого порядка?	
3	Что располагается западнее: полуостров Камчатка или город Анадырь?	
4	Где лежит озеро Баскунчак — на территории Астраханской области или в Республике Калмыкии?	
5	Что лежит севернее — город Архангельск или устье Оби?	
6	Что находится южнее: озеро Байкал или город Волгоград?	
7	На каком полуострове находятся горы Бырранга?	Таймыр
8	Что находится западнее: Канин полуостров или город Оренбург?	
9	Телецкое озеро располагается на территории Алтайского края или Респ. Алтай?	
10	Какой полуостров расположен севернее: Таймыр или Чукотка?	
11	Устье какой из рек, протекающих по территории Якутии, располагается восточнее: Индигирки или Яны?	
12	Какая река расположена севернее: Ангара или Нижняя Тунгуска?	
13	Что располагается западнее: остров Врангеля или город Анадырь?	
14	Где расположено место слияния рек Аргуни и Шилки — на территории Амурской области или Забайкальского края?	
15	Куда впадает Колыма: в Чукотское море или в Восточно-Сибирское море?	

20. Укажите названия субъектов РФ, обозначенных цифрами:



21. Теоретические вопросы:

- 5) С чем связано усиление миграционных процессов в России, начавшееся в конце XIX века?
- 6) Как природные условия влияют на уровень урбанизации региона?
- 7) В чем экономическое значение миграций?
- 8) Почему села не должны быть крупными?

22. Дайте определения понятиям:

- город, агломерация, мегалополис, эмиграция, демографическая политика, основная зона расселения, народ, безработица.

1в.

- 1) Мурманская обл.
- 2) Респ. Коми
- 3) Архангельская обл.
- 4) Респ. Башкирия
- 5) Воронежская обл.
- 6) Ленинградская обл.
- 7) Пермский край
- 8) Московская обл.
- 9) Курская обл.
- 10) Ямало-Ненецкий АО

2в.

- 1) Новгородская обл.
- 2) Респ. Дагестан
- 3) Респ. Карелия
- 4) Свердловская обл.
- 5) Астраханская обл.
- 6) Пензенская обл.
- 7) Респ. Татарстан
- 8) Воронежская обл.
- 9) Рязанская обл.
- 10) Томская обл.