

Контрольная работа по теме «ПК Западной и Средней Сибири»

I вариант

- Какие из перечисленных природных объектов располагаются в Западной Сибири?**
 - Барабинская низменность;
 - Плато Путорана;
 - Ишимская равнина;
 - Северные Увалы;
 - Сибирские Увалы;
 - Мещерская низменность.
- Какие из перечисленных рек относятся к бассейну Оби?**
 - Иртыш;
 - Надым;
 - Таз;
 - Тобол;
 - Томь;
 - Турухан.
- В Западно-Сибирском регионе при движении с севера на юг происходит:**
 - увеличение годовой амплитуды температур;
 - уменьшение годовой амплитуды температур;
 - увеличение годового количества осадков;
 - уменьшение годового количества осадков.
- Какие из перечисленных рек относятся к бассейну моря Лаптевых?**
 - Анабар;
 - Вилуй;
 - Нижняя Тунгуска;
 - Пясины;
 - Хатанга.
- Большая часть территории Западной Сибири занята зоной:**
 - тундры и лесотундры;
 - светлохвойной тайги;
 - тёмнохвойной тайги;
 - лесостепи и степи.
- Какой из перечисленных географических объектов является наиболее приподнятой частью Среднесибирского плоскогорья?**
 - Алданское нагорье;
 - горы Бырранга;
 - Енисейский кряж;
 - плато Путорана.

- Отметьте правильные высказывания словом «Да», неправильные - словом «Нет».**

1	Фундамент Западно-Сибирской платформы сложен палеозойскими отложениями	
2	Западная Сибирь — крупнейший район России по добыче железной руды	
3	Протяжённость Западно-Сибирской равнины с севера на юг составляет более 2 тыс. км.	
4	Все реки Западно-Сибирской равнины относятся к бассейну Оби	
5	Больше половины площади Западно-Сибирской равнины занято болотами	
6	Высшая точка Среднесибирского региона располагается на плато Путорана	
7	В угольных бассейнах, расположенных на территории Средней Сибири, сосредоточено около половины мировых запасов каменного угля	
8	В зимний период над территорией Средней Сибири формируется Сибирский (Азиатский) антициклон	
9	На крайнем юго-востоке Среднесибирского региона преобладают степные ландшафты	

- Определите, о каких объектах (людях) идет речь в предложениях:**

- Российский мореплаватель, именем которого назван остров в Енисейском заливе.
- Горная система, обрамляющая Западно-Сибирскую равнину с запада.
- Море Северного Ледовитого океана, омывающее побережье Западной Сибири.
- Одно из наиболее известных месторождений алмазов в Средней Сибири.
- Один из самых северных городов мира, построенный в районе крупного месторождения медных руд.

- Заполните пропуски в тексте:**

Фундамент Западно-Сибирской плиты сложен отложениями 1) _____ возраста. В 2) _____ эру на территории равнины располагалось тёплое мелководное море, что способствовало формированию месторождений 3) _____ и 4) _____. Четвертичное оледенение затронуло 5) _____ часть Западной Сибири, поэтому здесь сформировались крупные озера с 6) _____ отложениями.

10. Укажите порядок расположения перечисленных географических объектов с севера на юг (табл. № 1) и с запада на восток (табл. № 2):

А	Байдарацкая губа	
Б	Устье Енисея	
В	Устье Оби	
Г	Устье Таза	
Д	Телецкое озеро	
Е	Озеро Чаны	

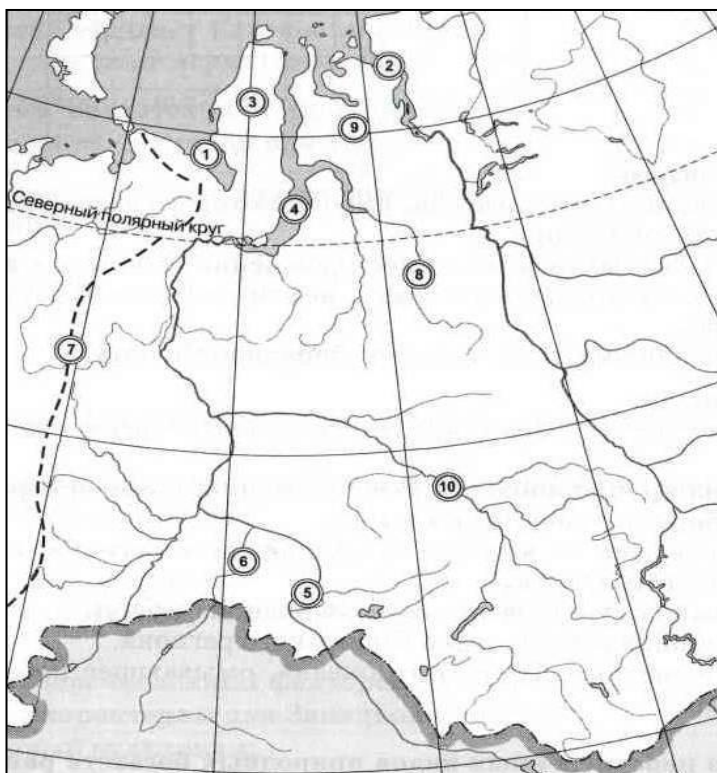
А	Остров Вайгач	
Б	Гыданский полуостров	
В	Остров Колгуев	
Г	Обская губа	
Д	Полуостров Таймыр	
Е	Полуостров Ямал	

11. Как вы думаете:

1	Иртыш находится в бассейне Северного Ледовитого или Атлантического океана?	
2	Северная Двина впадает в Белое или в Баренцево море?	
3	Среднерусская возвышенность находится на крайнем западе России или в её центральной части?	
4	Устье Оби находится за полярным кругом или южнее?	
5	Какая река является для Оби притоком первого порядка — Иртыш или Тобол?	
6	Какой полуостров расположен севернее — Таймыр или Чукотка?	
7	Какое море имеет большую площадь: Белое или Чёрное?	
8	Где берёт начало река Обь — на Алтае или в Саянах?	
9	Какое плато расположено восточнее: Анабарское или Путорана?	
10	Где находится Енисейский залив: в Карском море или в море Лаптевых?	
11	Какая из рек расположена западнее: Енисей или Лена?	
12	Амур впадает в Охотское или в Японское море?	

12. Теоретические вопросы:

- В чем причина однообразного рельефа и небогатого набора полезных ископаемых Западно-Сибирской равнины?
- Что отличает рельеф Средней Сибири от рельефа Русской и Западно-Сибирской равнин?



13. Укажите названия географических объектов, обозначенных цифрами:

1. Губа _____
2. Залив _____
3. Полуостров _____
4. Губа _____
5. Река _____
6. Река _____
7. Горы _____
8. Река _____
9. Полуостров _____
10. Река _____

Контрольная работа по теме «ПК Западной и Средней Сибири»

II вариант

- 1. В период максимального развития четвертичного оледенения южная граница ледника в Западной Сибири проходила по:**
 - а) широтному течению реки Оби;
 - б) Сибирским Увалам;
 - в) 58° северной широты;
 - г) 55° северной широты.
- 2. Большая часть территории Западной Сибири относится к области:**
 - а) недостаточного увлажнения;
 - б) достаточного увлажнения;
 - в) избыточного увлажнения;
 - г) все три области представлены примерно в равных долях.
- 3. Какие из перечисленных факторов, затрудняющих освоение территории, не характерны для Западной Сибири?**
 - а) активный вулканизм;
 - б) высокая сейсмичность территории;
 - в) заболоченность местности;
 - г) наличие многолетней мерзлоты;
 - д) сильно расчленённый рельеф;
 - е) суровые климатические условия.
- 4. Какой из перечисленных видов полезных ископаемых раньше всего начали добывать в Западно-Сибирском регионе?**
 - а) нефть;
 - б) природный газ;
 - в) пушнина;
 - г) торф.
- 5. Древний фундамент Сибирской платформы выходит на поверхность в районе:**
 - а) Алданского нагорья;
 - б) Анабарского плато;
 - в) гор Бырранга;
 - г) Енисейского кряжа.
- 6. Какой тип погоды характерен для территории Средней Сибири?**
 - а) антициклональный;
 - б) циклональный;
 - в) чередование с преобладанием антициклонального типа;
 - г) чередование с преобладанием циклонального типа.

7. Отметьте правильные высказывания словом «Да», неправильные - словом «Нет».

1	В пределах Западной Сибири открыто несколько крупных угольных бассейнов	
2	Западная Сибирь — один из крупнейших в мире нефтегазоносных бассейнов	
3	К востоку от Уральских гор расположена узкая полоса территории, климат которой отличается высокой влажностью	
4	На Западно-Сибирской равнине много бессточных солёных озёр	
5	Основные черты современного рельефа Средней Сибири сформировались под влиянием четвертичного оледенения	
6	Средняя Сибирь — алмазно-золотоносная кладовая нашей страны	
7	На севере Средней Сибири располагаются крупные нефтяные месторождения	
8	Большинство рек, протекающих по территории Средней Сибири, относится к бассейну Восточно-Сибирского моря	
9	В таёжной зоне Средней Сибири преобладают светлохвойные породы	

8. Определите, о каких объектах (людях) идет речь в предложениях:

- а) Одно из первых нефтяных месторождений, открытых в Сибири.
- б) Крупная река на юге Западно-Сибирского региона, на которой располагается город Омск.
- в) Шведский полярный путешественник, первым прошедший Северным морским путём от Архангельска до Берингова пролива.
- г) Крупное плато на западе Среднесибирского региона.
- д) Горная система на севере Средней Сибири.

9. Заполните пропуски в тексте:

В конце 1)_____ и начале 2)_____ территория Сибирской платформы была разбита разломами, по которым на поверхность поступала лава. Позднее эти лавовые покровы были погребены под толщей 3)_____ горных пород. Эти слои древних лав называются 4)_____. Слоями 5)_____ сложено плато 6)_____.

10. Укажите порядок расположения перечисленных географических объектов с севера на юг (табл. № 1) и с запада на восток (табл. № 2):

А	Озеро Байкал	
Б	Горы Бырранга	
В	Енисейский кряж	
Г	Нижняя Тунгуска	
Д	Подкаменная Тунгуска	
Е	Плато Путорана	

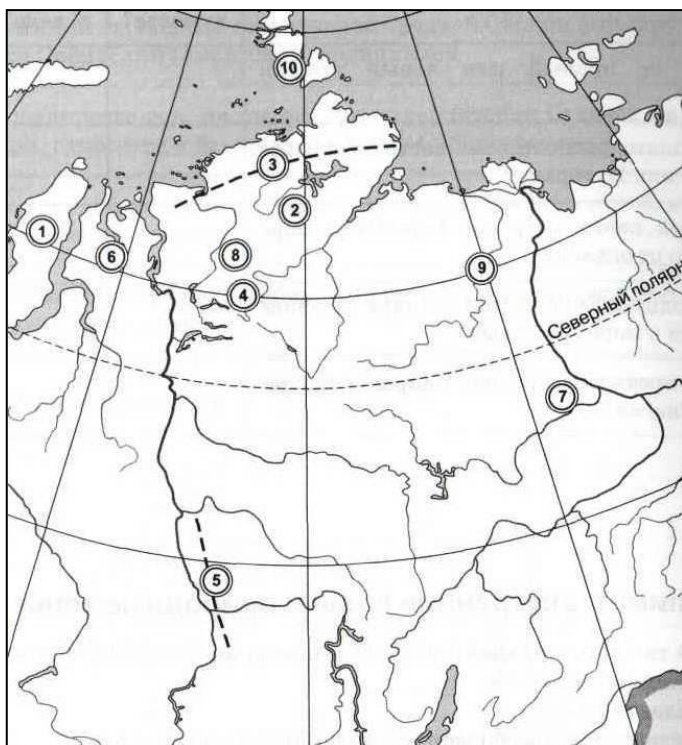
А	Байдарацкая губа	
Б	Барабинская низменность	
В	Река Енисей	
Г	Верхоянский хребет	
Д	Гора Народная	
Е	Озеро Таймыр	

11. Как вы думаете:

1	Какой объект имеет меньшую высоту над уровнем моря: устье Волги или Оби?	
2	Заливом какого моря является Обская губа?	
3	В каком направлении течёт Обь в районе городе Сургута — на восток или на запад?	
4	Новая Земля отделяет Карское море от Баренцева моря или от моря Лаптевых?	
5	Иртыш берёт начало на территории России или за её пределами?	
6	Озеро Чаны пресное или солёное?	
7	Полуостров Ямал целиком расположен за полярным кругом или нет?	
8	Ангара — правый или левый приток Енисея?	
9	Цепочкой каких островов Берингово море отделено от океана?	
10	Каково преимущественное направление течения Енисея?	
11	Какая река расположена севернее: Ангара или Нижняя Тунгуска?	
12	Месторождения алмазов находятся в долине Нижней Тунгуски или Вилюя?	

12. Теоретические вопросы:

- Почему на территории Западной Сибири отсутствуют смешанные леса и после таежной зоны сразу начинаются степи?
- Почему по территории Средней Сибири протекают самые полноводные реки страны, хотя климат здесь сухой?



13. Укажите названия географических объектов, обозначенных цифрами:

1. Полуостров _____
2. Полуостров _____
3. Горы _____
4. Плато _____
5. Кряж _____
6. Полуостров _____
7. Равнина _____
8. Низменность _____
9. Река _____
10. Архипелаг _____

Контрольная работа по теме «ПК Западной и Средней Сибири»

I вариант

- Какие из перечисленных природных объектов располагаются в Западной Сибири?**
 - Барабинская низменность;
 - Плато Путорана;
 - Ишимская равнина;
 - Северные Увалы;
 - Сибирские Увалы;
 - Мещерская низменность.
- Какие из перечисленных рек относятся к бассейну Оби?**
 - Иртыш;
 - Надым;
 - Таз;
 - Тобол;
 - Томь;
 - Турухан.
- В Западно-Сибирском регионе при движении с севера на юг происходит:**
 - увеличение годовой амплитуды температур;
 - уменьшение годовой амплитуды температур;
 - увеличение годового количества осадков;
 - уменьшение годового количества осадков.
- Какие из перечисленных рек относятся к бассейну моря Лаптевых?**
 - Анабар;
 - Вилуй;
 - Нижняя Тунгуска;
 - Пясины;
 - Хатанга.
- Большая часть территории Западной Сибири занята зоной:**
 - тундры и лесотундры;
 - светлохвойной тайги;
 - тёмнохвойной тайги;
 - лесостепи и степи.
- Какой из перечисленных географических объектов является наиболее приподнятой частью Среднесибирского плоскогорья?**
 - Алданское нагорье;
 - горы Бырранга;
 - Енисейский кряж;
 - плато Путорана.

7. Отметьте правильные высказывания словом «Да», неправильные - словом «Нет».

1	Фундамент Западно-Сибирской платформы сложен палеозойскими отложениями	да
2	Западная Сибирь — крупнейший район России по добыче железной руды	нет
3	Протяжённость Западно-Сибирской равнины с севера на юг составляет более 2 тыс. км.	да
4	Все реки Западно-Сибирской равнины относятся к бассейну Оби	нет
5	Больше половины площади Западно-Сибирской равнины занято болотами	да
6	Высшая точка Среднесибирского региона располагается на плато Путорана	да
7	В угольных бассейнах, расположенных на территории Средней Сибири, сосредоточено около половины мировых запасов каменного угля	да
8	В зимний период над территорией Средней Сибири формируется Сибирский (Азиатский) антициклон	да
9	На крайнем юго-востоке Среднесибирского региона преобладают степные ландшафты	нет

8. Определите, о каких объектах (людях) идет речь в предложениях:

- Российский мореплаватель, именем которого назван о-в в Енисейском заливе (Сибиряков).
- Горная система, обрамляющая Западно-Сибирскую равнину с запада (Урал).
- Море Северного Ледовитого океана, омывающее побережье Западной Сибири (Карское).
- Одно из наиболее известных месторождений алмазов в Средней Сибири (Якутское).
- Один из самых северных городов мира, построенный в районе крупного месторождения медных руд (Норильск).

9. Заполните пропуски в тексте:

Фундамент Западно-Сибирской плиты сложен отложениями 1) палеозойского возраста. В 2) мезозойскую эру на территории равнины располагалось тёплое мелководное море, что способствовало формированию месторождений 3) нефти и 4) газа. Четвертичное оледенение затронуло 5) северную часть Западной Сибири, поэтому здесь сформировались крупные озера с 6) песчано-глинистыми отложениями.

10. Укажите порядок расположения перечисленных географических объектов с севера на юг (табл. № 1) и с запада на восток (табл. № 2):

А	Байдарацкая губа	2
Б	Устье Енисея	1
В	Устье Оби	4
Г	Устье Таза	3
Д	Телецкое озеро	6
Е	Озеро Чаны	5

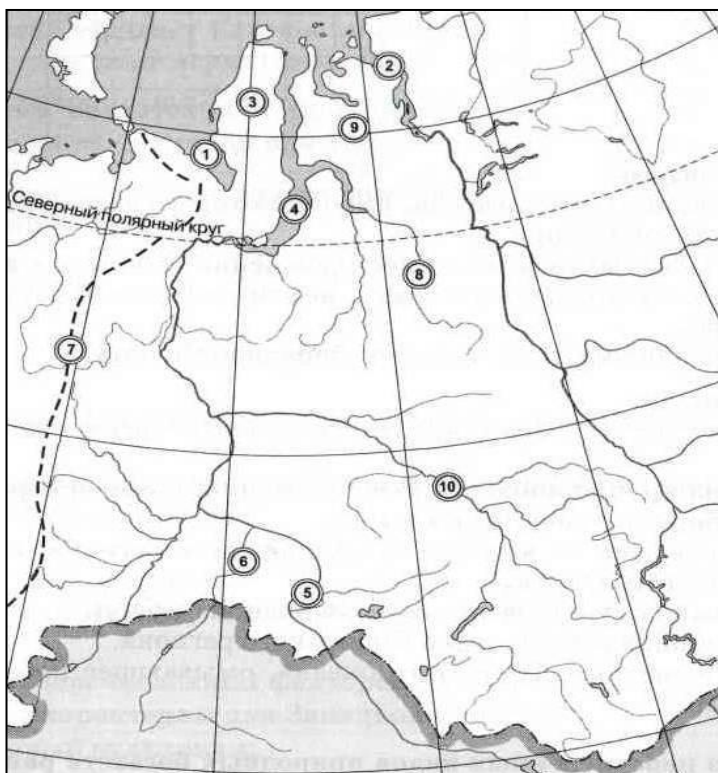
А	Остров Вайгач	2
Б	Гыданский полуостров	5
В	Остров Колгуев	1
Г	Обская губа	4
Д	Полуостров Таймыр	6
Е	Полуостров Ямал	3

11. Как вы думаете:

1	Иртыш находится в бассейне Северного Ледовитого или Атлантического океана?	
2	Северная Двина впадает в Белое или в Баренцево море?	
3	Среднерусская возвышенность находится на крайнем западе России или в её центральной части?	
4	Устье Оби находится за полярным кругом или южнее?	
5	Какая река является для Оби притоком первого порядка — Иртыш или Тобол?	
6	Какой полуостров расположен севернее — Таймыр или Чукотка?	
7	Какое море имеет большую площадь: Белое или Чёрное?	
8	Где берёт начало река Обь — на Алтае или в Саянах?	
9	Какое плато расположено восточнее: Анабарское или Путорана?	
10	Где находится Енисейский залив: в Карском море или в море Лаптевых?	
11	Какая из рек расположена западнее: Енисей или Лена?	
12	Амур впадает в Охотское или в Японское море?	

12. Теоретические вопросы:

- В чем причина однообразного рельефа и небогатого набора полезных ископаемых Западно-Сибирской равнины?
- Что отличает рельеф Средней Сибири от рельефа Русской и Западно-Сибирской равнин?



13. Укажите названия географических объектов, обозначенных цифрами:

1. Губа Байдарацкая
2. Залив Енисейский
3. Полуостров Ямал
4. Губа Обская
5. Река Иртыш
6. Река Ишим
7. Горы Уральские
8. Река Таз
9. Полуостров Гыданский
10. Река Обь

Контрольная работа по теме «ПК Западной и Средней Сибири»

II вариант

- 1. В период максимального развития четвертичного оледенения южная граница ледника в Западной Сибири проходила по:**
 - а) широтному течению реки Оби;
 - б) Сибирским Увалам;
 - в) 58° северной широты;
 - г) 55° северной широты.
- 2. Большая часть территории Западной Сибири относится к области:**
 - а) недостаточного увлажнения;
 - б) достаточного увлажнения;
 - в) избыточного увлажнения;
 - г) все три области представлены примерно в равных долях.
- 3. Какие из перечисленных факторов, затрудняющих освоение территории, не характерны для Западной Сибири?**
 - а) активный вулканизм;
 - б) высокая сейсмичность территории;
 - в) заболоченность местности;
 - г) наличие многолетней мерзлоты;
 - д) сильно расчленённый рельеф;
 - е) суровые климатические условия.
- 4. Какой из перечисленных видов полезных ископаемых раньше всего начали добывать в Западно-Сибирском регионе?**
 - а) нефть;
 - б) природный газ;
 - в) пушнина;
 - г) торф.
- 5. Древний фундамент Сибирской платформы выходит на поверхность в районе:**
 - б) Алданского нагорья;
 - б) Анабарского плато;
 - в) гор Бырранга;
 - г) Енисейского кряжа.
- 6. Какой тип погоды характерен для территории Средней Сибири?**
 - а) антициклональный;
 - б) циклональный;
 - в) чередование с преобладанием антициклонального типа;
 - г) чередование с преобладанием циклонального типа.

7. Отметьте правильные высказывания словом «Да», неправильные - словом «Нет».

1	В пределах Западной Сибири открыто несколько крупных угольных бассейнов	нет
2	Западная Сибирь — один из крупнейших в мире нефтегазоносных бассейнов	да
3	К востоку от Уральских гор расположена узкая полоса территории, климат которой отличается высокой влажностью	нет
4	На Западно-Сибирской равнине много бессточных солёных озёр	да
5	Основные черты современного рельефа Средней Сибири сформировались под влиянием четвертичного оледенения	нет
6	Средняя Сибирь — алмазно-золотоносная кладовая нашей страны	да
7	На севере Средней Сибири располагаются крупные нефтяные месторождения	нет
8	Большинство рек, протекающих по территории Средней Сибири, относится к бассейну Восточно-Сибирского моря	нет
9	В таёжной зоне Средней Сибири преобладают светлохвойные породы	да

8. Определите, о каких объектах (людях) идет речь в предложениях:

- а) Одно из первых нефтяных месторождений, открытых в Сибири (Березовское).
- б) Крупная река на юге Западной Сибири, на которой располагается город Омск (Иртыш).
- в) Шведский полярный путешественник, первым прошедший Северным морским путём от Архангельска до Берингова пролива (Эрик Норденшельд).
- г) Крупное плато на западе Среднесибирского региона (Путорана).
- д) Горная система на севере Средней Сибири (Бырранга).

9. Заполните пропуски в тексте:

В конце 1) палеозоя и начале 2) мезозоя территория Сибирской платформы была разбита разломами, по которым на поверхность поступала лава. Позднее эти лавовые покровы были погребены под толщей 3) осадочных горных пород. Эти слои древних лав называются 4) траппами. Слоями 5) траппов сложено плато 6) Путорана.

10. Укажите порядок расположения перечисленных географических объектов с севера на юг (табл. № 1) и с запада на восток (табл. № 2):

А	Озеро Байкал	6
Б	Горы Бырранга	1
В	Енисейский кряж	5
Г	Нижняя Тунгуска	3
Д	Подкаменная Тунгуска	4
Е	Плато Путорана	2

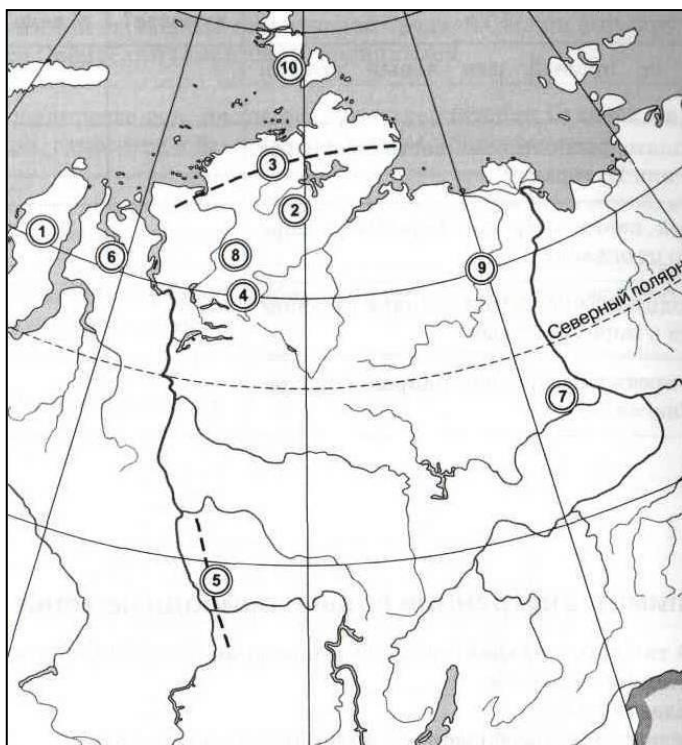
А	Байдарацкая губа	2
Б	Барабинская низменность	3
В	Река Енисей	4
Г	Верхоянский хребет	6
Д	Гора Народная	7
Е	Озеро Таймыр	1

11. Как вы думаете:

1	Какой объект имеет меньшую высоту над уровнем моря: устье Волги или Оби?	
2	Заливом какого моря является Обская губа?	Карского
3	В каком направлении течёт Обь в районе городе Сургута — на восток или на запад?	на запад
4	Новая Земля отделяет Карское море от Баренцева моря или от моря Лаптевых?	
5	Иртыш берёт начало на территории России или за её пределами?	
6	Озеро Чаны пресное или солёное?	
7	Полуостров Ямал целиком расположен за полярным кругом или нет?	да
8	Ангара — правый или левый приток Енисея?	
9	Цепочкой каких островов Берингово море отделено от океана?	Алеутских
10	Каково преимущественное направление течения Енисея?	на север
11	Какая река расположена севернее: Ангара или Нижняя Тунгуска?	
12	Месторождения алмазов находятся в долине Нижней Тунгуски или Вилюя?	

12. Теоретические вопросы:

- Почему на территории Западной Сибири отсутствуют смешанные леса и после таежной зоны сразу начинаются степи?
- Почему по территории Средней Сибири протекают самые полноводные реки страны, хотя климат здесь сухой?



13. Укажите названия географических объектов, обозначенных цифрами:

1. Полуостров Ямал
2. Полуостров Таймыр
3. Горы Бырранга
4. Плато Путорана
5. Кряж Енисейский
6. Полуостров Гыданский
7. Равнина Центральнаякутская
8. Низменность Северо-Сибирская
9. Река Оленёк
10. Архипелаг Северная Земля