

Контрольная работа по теме «Почвы, растительность, животный мир»

I вариант

1. Почвенный горизонт — это:

- а) верхняя граница почвенного покрова;
- б) нижняя граница почвенного покрова;
- в) отдельный слой почвы, отличающийся от соседних слоев цветом и минеральным составом;
- г) граница между соседними слоями почвы.

2. В каких из перечисленных районах преобладают чернозёмы?

- а) Нижнее течение Волги;
- б) побережье Азовского моря;
- в) верховья реки Урал;
- г) нижнее течение Амура.

3. Наиболее плодородные почвы:

- а) каштановые;
- б) дерново-подзолистые;
- в) подзолистые;
- г) чернозёмы.

4. Устья каких рек располагаются не в тундровой зоне?

- а) Енисей;
- б) Лена;
- в) Нева;
- г) Печора;
- д) Северная Двина.

5. Какие из перечисленных объектов располагаются в лесной зоне?

- а) Долина Северной Двины;
- б) Ладожское озеро;
- в) низовья Амура;
- г) устье Оби;
- д) озеро Ханка.

6. В каких горных системах встречается пояс альпийских и субальпийских лугов?

- а) Алтай;
- б) Верхоянский хребет;
- в) Кавказ;
- г) Сихотэ-Алинь;
- д) Урал.

7. Какие из перечисленных заповедников располагаются на европейской территории России?

- а) Богдинско-Баскунчакский;
- б) Даурский;
- в) Кандалакшский;
- г) Кроноцкий;
- д) Ненецкий.

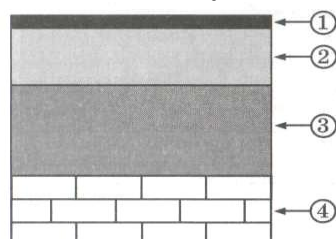
8. Отметьте правильные высказывания словом «Да», неправильные - словом «Нет».

1	Важнейшими компонентами природного комплекса являются горные породы и животные	
2	Русская равнина, Кавказ, Урал, Дальний Восток — крупные природные районы	
3	Рельеф является важным климатообразующим фактором	
4	Для тундровой зоны характерно тёплое, но очень короткое лето	
5	Северные олени — самые крупные обитатели тундровой зоны	
6	В лесной зоне преобладают подзолистые почвы	
7	Во всей лесной зоне преобладают древесные животные и крайне мало крупных наземных животных	
8	К лесоизбыточным районам России относятся север европейской части страны и её восточные районы	
9	Крупнейший заповедник в нашей стране находится на острове Врангеля	

9. Укажите порядок расположения перечисленных объектов с севера на юг.

А	Тиманский кряж	
Б	Мыс Дежнёва	
В	Онежское озеро	
Г	Прикубанская низменность	
Д	Среднерусская возвышенность	
Е	Чудское озеро	

10. Заполните таблицу, назвав указанные почвенные горизонты:



11. Выберите 5 причин отсутствия древесной растительности в тундре:

- а) Сильные ветры
- б) Короткое прохладное лето
- в) Хозяйственная деятельность человека
- г) Избыточное увлажнение
- д) Наличие многолетней мерзлоты
- е) Тонкий снежный покров
- ж) Недостаток влаги
- з) Высокое атмосферное давление

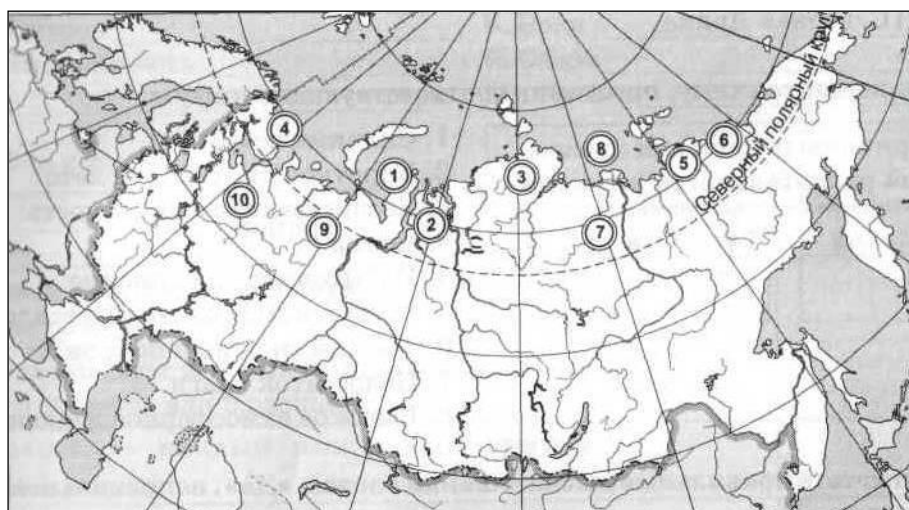
12. Заполните пропуски в таблице:

	Тип почв	Природная зона	Плодородие	Характеристика
1			Малопродуктивные	В строении почвы наиболее выражен горизонт вымывания
2		Полупустыни		На этих почвах часто развиваются солончаки
3				Толщина этих почв всего несколько сантиметров
4			Наиболее плодородные	
5			Плодородные	Обладают чётко выраженным, хотя и не очень толстым гумусовым горизонтом

13. Как вы думаете:

1	Куда впадает река Дон — в Чёрное или в Азовское море?	
2	В каком полушарии находится Берингов пролив — в Восточном или Западном?	
3	Какое море имеет связь с Белым: Баренцево или Балтийское?	
4	Татарский пролив отделяет остров Сахалин от материка или от острова Хоккайдо?	
5	В какое море впадает Печора: в Карское или в Баренцево?	
6	Какое море имеет меньшую площадь: Азовское или Белое?	
7	Иртыш — правый или левый приток Оби?	
8	Северная Земля отделяет Карское море от Баренцева или моря Лаптевых?	
9	Какие острова расположены южнее: Командорские или Курильские?	
10	Высшая точка какого хребта: Верхоянского или Черского — имеет большую абсолютную высоту?	
11	Какое море глубже: Охотское или Берингово?	
12	Какие горы выше: Кавказские или Уральские?	
13	Какое из морей — Берингово или Восточно-Сибирское — омывает берега сразу двух материков?	
14	Вилюй — правый или левый приток Лены?	
15	Северные Увалы находятся в Европе или в Азии?	
16	Ангара — приток Лены или Енисея?	
17	Какие острова расположены восточнее: Новая Земля или Северная Земля?	

14. Укажите названия географических объектов, обозначенных цифрами:



1. Полуостров
2. Полуостров
3. Полуостров
4. Полуостров
5. Низменность
6. Низменность
7. Река
8. Море
9. Река
10. Река

Контрольная работа по теме «Почвы, растительность, животный мир»

II вариант

1. Структура почвы — это:

- а) последовательность почвенных горизонтов;
- б) процентное соотношение мощности гумусового горизонта и других почвенных слоев;
- в) пространственное упорядочивание твёрдых почвенных частиц и пространств между ними;
- г) закономерное пространственное размещение почв на небольших территориях.

2. Какие почвы формируются в хвойных таёжных лесах?

- а) Бурые лесные; б) дерново-подзолистые; в) подзолистые; г) серые лесные.

3. Какие из перечисленных характеристик тундровой зоны России являются правильными?

- а) Современная южная граница тундры полностью совпадает с Северным полярным кругом;
- б) для тундровой зоны характерно короткое и холодное лето;
- в) северный олень — это самый крупный обитатель тундровой зоны;
- г) в тундровой зоне преобладает древесная растительность.

4. Граница тёмнохвойной и светлохвойной тайги проходит по:

- а) Уральским горам; б) долине Оби; в) долине Енисея; г) долине Лены.

5. Какие из перечисленных объектов располагаются в степной зоне?

- а) Низовья Дона; б) низовья Волги;
- в) низовья Кубани; г) Дарвинский заповедник;
- д) низовья Терека.

6. Подъём в горы на 1 км приблизительно соответствует перемещению на север на:

- а) 100 км; б) 200 км; в) 400 км; г) 500 км.

7. Самый первый заповедник на территории России — это:

- а) Астраханский; б) Баргузинский; в) Башкирский; г) Тебердинский; д) «Галичья Гора».

8. Отметьте правильные высказывания словом «Да», неправильные - словом «Нет».

1	Облик зональных природных комплексов определяется характером рельефа	
2	Тундра, тайга, степь — примеры азональных природных комплексов	
3	Зона арктических пустынь встречается только на островах Северного Ледовитого океана	
4	Тундровая зона располагается севернее полярного круга	
5	Лесная зона занимает менее 50% территории России	
6	На территории Западной Сибири представлены все подзоны лесной зоны	
7	На территории России действует более 80 заповедников	
8	Наилучшими кормовыми ресурсами располагает степная зона	
9	Россия занимает ведущее место в мире по добыче шкурки шиншиллы и барса	

9. Укажите порядок расположения природных объектов с запада на восток.

А	Барабинская низменность	
Б	Остров Вайгач	
В	Валдайская возвышенность	
Г	Кумо-Манычская впадина	
Д	Северо-Сибирская низменность	
Е	Озеро Ханка	

10. Укажите, как располагаются перечисленные слои почвы в разрезе сверху вниз:

- а) горизонт вмывания;
- б) горизонт вымывания;
- в) гумусовый горизонт;
- г) материнская порода.

11. Заполните пропуски в тексте:

Территория, в пределах которой существует определённое закономерное сочетание взаимосвязанных компонентов, называется 1)_____. Они подразделяются на 2)_____, облик которых определяется климатом, и 3)_____, облик которых определяется рельефом. Части земной поверхности, характеризующиеся сходными почвенно-растительными и 4)_____ условиями называются 5)_____.

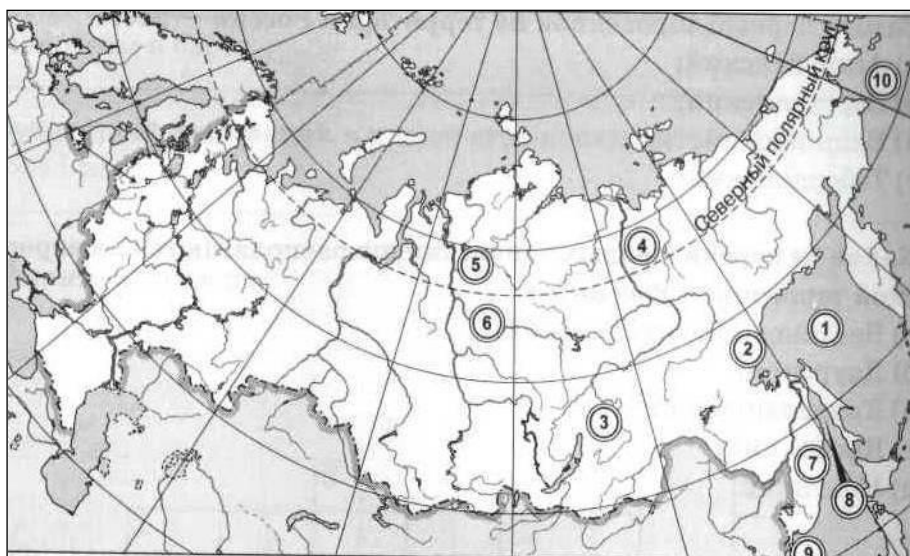
12. Выберите животных для разных типов лесов:

а) Все типы лесов	а) Тайга	б) Смешанные и широколиственные леса	в) Уссурийская тайга
а) Лось	ж) благородный олень	н) Соболь	
б) Гималайский медведь	з) Бурый медведь	о) Енотовидная собака	
в) Белка	и) Тигр	п) Дальневосточный леопард	
г) Куница	к) Тетерев		
д) Россомаха	л) Рысь		
е) Зубр	м) Заяц-русак		

13. Как вы думаете:

1	Исток какой реки лежит ниже над уровнем моря: Северной Двины или Печоры?	
2	Кольский полуостров целиком находится на территории России или нет?	
3	Что находится южнее: южная оконечность Новой Земли или северная оконечность полуострова Ямал?	
4	Где находится полуостров Ямал: в Европе или в Азии?	
5	В какой части озера Байкал берёт начало Ангара — в южной или в северной?	
6	Куда впадают Колыма и Индигирка: в одно и то же море или в разные?	
7	Исток Енисея находится на территории России или за её пределами?	
8	Кавказские горы целиком находятся на территории России или же выходят за её пределы?	
9	Морем Тихого океана является Чукотское море или Берингово?	
10	Иртыш — приток Енисея или Оби?	
11	Какое озеро расположено севернее: Байкал или Каспийское?	
12	Озеро Байкал целиком находится на территории России или нет?	
13	Волга и Урал впадают в один и тот же водоём или в разные?	
14	Какое из морей расположено южнее: Азовское или Чёрное?	
15	Иртыш относится к бассейну Северного Ледовитого океана или Атлантического?	
16	В каком направлении течёт Волга при впадении в Каспийское море?	
17	Что расположено севернее: Финский залив или Белое море?	

14. Укажите названия географических объектов, обозначенных цифрами:



1. Море
2. Хребет
3. Нагорье
4. Хребет
5. Плато
6. Река
7. Хребет
8. Пролив
9. Залив

Контрольная работа по теме «Почвы, растительность, животный мир»

I вариант

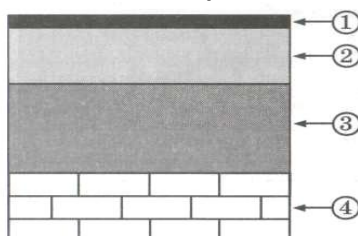
1. **Почвенный горизонт — это:**
 - а) верхняя граница почвенного покрова;
 - б) нижняя граница почвенного покрова;
 - в) отдельный слой почвы, отличающийся от соседних слоев цветом и минеральным составом;
 - г) граница между соседними слоями почвы.
2. **В каких из перечисленных районах преобладают чернозёмы?**
 - а) Нижнее течение Волги;
 - б) побережье Азовского моря;
 - в) верховья реки Урал;
 - г) нижнее течение Амура.
3. **Наиболее плодородные почвы:**
 - а) каштановые;
 - б) дерново-подзолистые;
 - в) подзолистые;
 - г) чернозёмы.
4. **Устья каких рек располагаются не в тундровой зоне?**
 - а) Енисей;
 - б) Лена;
 - в) Нева;
 - г) Печора;
 - д) Северная Двина.
5. **Какие из перечисленных объектов располагаются в лесной зоне?**
 - а) Долина Северной Двины;
 - б) Ладожское озеро;
 - в) низовья Амура;
 - г) устье Оби;
 - д) озеро Ханка.
6. **В каких горных системах встречается пояс альпийских и субальпийских лугов?**
 - а) Алтай;
 - б) Верхоянский хребет;
 - в) Кавказ;
 - г) Сихотэ-Алинь;
 - д) Урал.
7. **Какие из перечисленных заповедников располагаются на европейской территории России?**
 - а) Богдинско-Баскунчакский;
 - б) Даурский;
 - в) Кандалакшский;
 - г) Кроноцкий;
 - д) Ненецкий.
8. **Отметьте правильные высказывания словом «Да», неправильные - словом «Нет».**

1	Важнейшими компонентами природного комплекса являются горные породы и животные	да
2	Русская равнина, Кавказ, Урал, Дальний Восток — крупные природные районы	да
3	Рельеф является важным климатообразующим фактором	да
4	Для тундровой зоны характерно тёплое, но очень короткое лето	нет
5	Северные олени — самые крупные обитатели тундровой зоны	да
6	В лесной зоне преобладают подзолистые почвы	да
7	Во всей лесной зоне преобладают древесные животные и крайне мало крупных наземных животных	нет
8	К лесоизбыточным районам России относятся север европейской части страны и её восточные районы	да
9	Крупнейший заповедник в нашей стране находится на острове Врангеля	да

9. **Укажите порядок расположения объектов с севера на юг.**

А	Тиманский кряж	2
Б	Мыс Дежнёва	1
В	Онежское озеро	3
Г	Прикубанская низ.	6
Д	Среднерусская возвышенность	5
Е	Чудское озеро	4

10. **Заполните таблицу, назвав указанные почвенные горизонты:**



- 1 - гумусовый
- 2 – вымывания
- 3 – вмывания
- 4 – материнская порода

11. **Выберите 5 причин отсутствия древесной растительности в тундре:**
- а) Сильные ветры
 - б) Короткое прохладное лето
 - в) Хозяйственная деятельность человека
 - г) Избыточное увлажнение
 - д) Наличие многолетней мерзлоты
 - е) Тонкий снежный покров
 - ж) Недостаток влаги
 - з) Высокое атмосферное давление

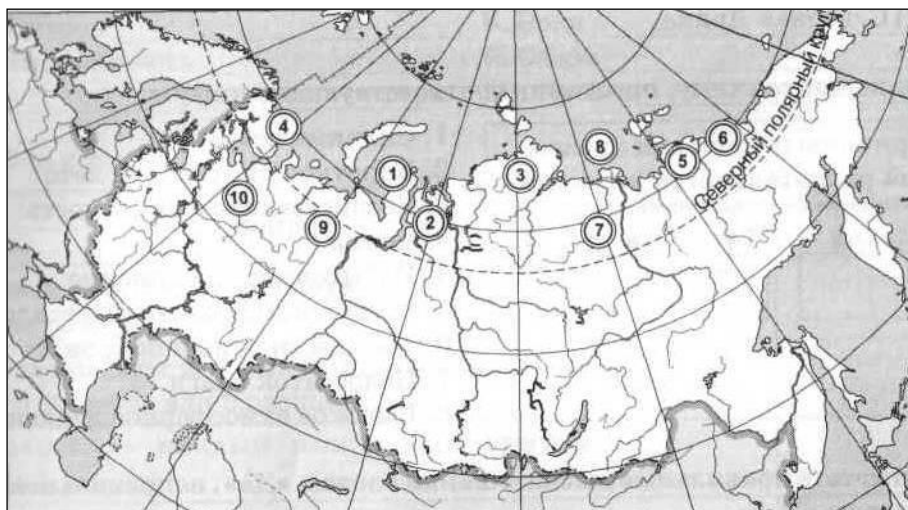
12. Заполните пропуски в таблице:

	Тип почв	Природная зона	Плодородие	Характеристика
1	Подзолистые	Тайга	Малопродуктивные	В строении почвы наиболее выражен горизонт вымывания
2	Бурые и серо-бурые	Полупустыни	Низкое	На этих почвах часто развиваются солончаки
3	Тундроглеевые	Тундра	Очень низкое	Толщина этих почв всего несколько сантиметров
4	Черноземы	Степи	Наиболее плодородные	Очень большой слой гумуса (до 1 метра)
5	Серые лесные	Смешанные и широк. леса	Плодородные	Обладают чётко выраженным, хотя и не очень толстым гумусовым горизонтом

13. Как вы думаете:

1	Куда впадает река Дон — в Чёрное или в Азовское море?	
2	В каком полушарии находится Берингов пролив — в Восточном или Западном?	
3	Какое море имеет связь с Белым: Баренцево или Балтийское?	
4	Татарский пролив отделяет остров Сахалин от материка или от острова Хоккайдо?	
5	В какое море впадает Печора: в Карское или в Баренцево?	
6	Какое море имеет меньшую площадь: Азовское или Белое?	
7	Иртыш — правый или левый приток Оби?	
8	Северная Земля отделяет Карское море от Баренцева или моря Лаптевых?	
9	Какие острова расположены южнее: Командорские или Курильские?	
10	Высшая точка какого хребта: Верхоянского или Черского — имеет большую абсолютную высоту?	
11	Какое море глубже: Охотское или Берингово?	
12	Какие горы выше: Кавказские или Уральские?	
13	Какое из морей — Берингово или Восточно-Сибирское — омывает берега сразу двух материков?	
14	Вилюй — правый или левый приток Лены?	
15	Северные Увалы находятся в Европе или в Азии?	
16	Ангара — приток Лены или Енисея?	
17	Какие острова расположены восточнее: Новая Земля или Северная Земля?	

14. Укажите названия географических объектов, обозначенных цифрами:



1. П-ов Ямал
2. П-ов Гыданский
3. П-ов Таймыр
4. П-ов Кольский
5. Низм. Яно-Индигоирская
6. Низм. Колымская
7. Река Оленек
8. Море Лаптевых
9. Река Печора
10. Река Сев. Двина

Контрольная работа по теме «Почвы, растительность, животный мир»

II вариант

1. Структура почвы — это:

- а) последовательность почвенных горизонтов;
- б) процентное соотношение мощности гумусового горизонта и других почвенных слоев;
- в) пространственное упорядочивание твёрдых почвенных частиц и пространств между ними;
- г) закономерное пространственное размещение почв на небольших территориях.

2. Какие почвы формируются в хвойных таёжных лесах?

- а) Бурые лесные; б) дерново-подзолистые; в) подзолистые; г) серые лесные.

3. Какие из перечисленных характеристик тундровой зоны России являются правильными?

- а) Современная южная граница тундры полностью совпадает с Северным полярным кругом;
- б) для тундровой зоны характерно короткое и холодное лето;
- в) северный олень — это самый крупный обитатель тундровой зоны;
- г) в тундровой зоне преобладает древесная растительность.

4. Граница тёмнохвойной и светлохвойной тайги проходит по:

- а) Уральским горам; б) долине Оби; в) долине Енисея; г) долине Лены.

5. Какие из перечисленных объектов располагаются в степной зоне?

- а) Низовья Дона; б) низовья Волги;
- в) низовья Кубани; г) Дарвинский заповедник;
- д) низовья Терека.

6. Подъём в горы на 1 км приблизительно соответствует перемещению на север на:

- а) 100 км; б) 200 км; в) 400 км; г) 500 км.

7. Самый первый заповедник на территории России — это:

- а) Астраханский; б) Баргузинский; в) Башкирский; г) Тебердинский; д) «Галичья Гора».

8. Отметьте правильные высказывания словом «Да», неправильные - словом «Нет».

1	Облик зональных природных комплексов определяется характером рельефа	да
2	Тундра, тайга, степь — примеры азональных природных комплексов	нет
3	Зона арктических пустынь встречается только на островах Северного Ледовитого океана	да
4	Тундровая зона располагается севернее полярного круга	да
5	Лесная зона занимает менее 50% территории России	нет
6	На территории Западной Сибири представлены все подзоны лесной зоны	нет
7	На территории России действует более 80 заповедников	да
8	Наилучшими кормовыми ресурсами располагает степная зона	нет
9	Россия занимает ведущее место в мире по добыче шкурки шиншиллы и барса	нет

9. Укажите порядок расположения природных объектов с запада на восток.

А	Барабинская низменность	4
Б	Остров Вайгач	3
В	Валдайская возвышенность	1
Г	Кумо-Манычская впадина	2
Д	Северо-Сибирская низменность	5
Е	Озеро Ханка	6

10. Укажите, как располагаются перечисленные слои почвы в разрезе сверху вниз:

- а) горизонт вымывания;
- б) горизонт вымывания;
- в) гумусовый горизонт;
- г) материнская порода.

В-Б-А-Г

11. Заполните пропуски в тексте:

Территория, в пределах которой существует определённое закономерное сочетание взаимосвязанных компонентов, называется **1)природным комплексом**. Они подразделяются на **2)зональные**, облик которых определяется климатом, и **3)азональные**, облик которых определяется рельефом. Части земной поверхности, характеризующиеся сходными почвенно-растительными и **4)климатическими** условиями называются **5)природными зонами**.

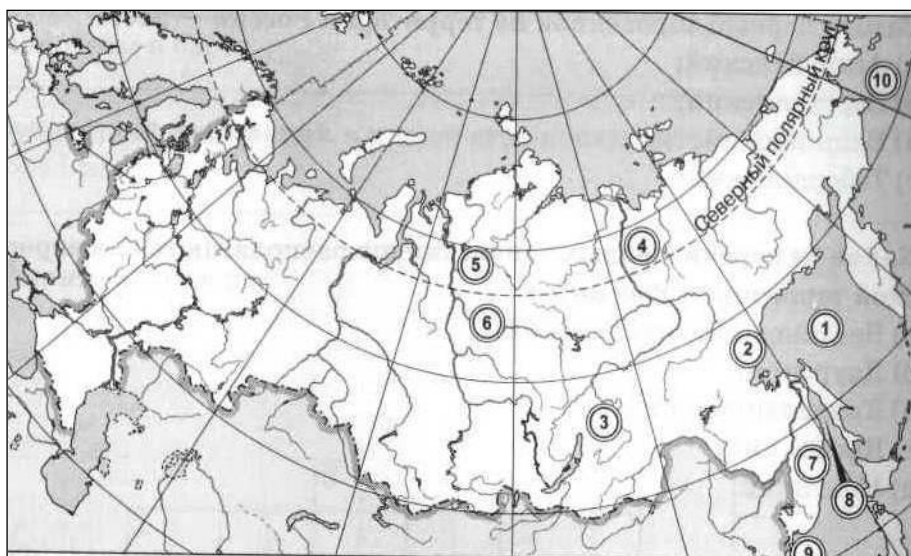
12. Выберите животных для разных типов лесов:

а) Все типы лесов	б) Тайга	в) Смешанные и широколиственные леса	г) Уссурийская тайга
а, в, з, к, л	г, д, н	е, ж, м	б, и, н, о, п
а) Лось	ж) Благородный олень	н) Соболь	
б) Гималайский медведь	з) Бурый медведь	о) Енотовидная собака	
в) Белка	и) Тигр	п) Дальневосточный леопард	
г) Куница	к) Тетерев		
д) Россомаха	л) Рысь		
е) Зубр	м) Заяц-русак		

13. Как вы думаете:

1	Исток какой реки лежит ниже над уровнем моря: Северной Двины или Печоры?	
2	Кольский полуостров целиком находится на территории России или нет ?	
3	Что находится южнее: южная оконечность Новой Земли или северная оконечность полуострова Ямал?	
4	Где находится полуостров Ямал: в Европе или в Азии ?	
5	В какой части озера Байкал берёт начало Ангара — в южной или в северной?	
6	Куда впадают Колыма и Индигирка: в одно и то же море или в разные?	
7	Исток Енисея находится на территории России или за её пределами?	
8	Кавказские горы целиком находятся на территории России или же выходят за её пределы ?	
9	Морем Тихого океана является Чукотское море или Берингово ?	
10	Иртыш — приток Енисея или Оби ?	
11	Какое озеро расположено севернее: Байкал или Каспийское?	
12	Озеро Байкал целиком находится на территории России или нет?	
13	Волга и Урал впадают в один и тот же водоём или в разные?	
14	Какое из морей расположено южнее: Азовское или Чёрное ?	
15	Иртыш относится к бассейну Северного Ледовитого океана или Атлантического?	
16	В каком направлении течёт Волга при впадении в Каспийское море?	юго-восток
17	Что расположено севернее: Финский залив или Белое море ?	

14. Укажите названия географических объектов, обозначенных цифрами:



1. Море **Охотское**
2. Хребет **Джугджур**
3. Нагорье **Становое**
4. Хребет **Верхоянский**
5. Плато **Путорана**
6. Река **Ниж. Тунгуска**
7. Хр. **Сихотэ-Алинь**
8. Пр. **Татарский**
9. Зал. **Петра Великого**
10. Море **Берингово**